



UNIVERSIDADES PÚBLICAS DE LA COMUNIDAD DE MADRID
EVALUACIÓN PARA EL ACCESO A LAS ENSEÑANZAS
UNIVERSITARIAS OFICIALES DE GRADO

Curso **2020-2021**

MATERIA: GEOGRAFÍA

INSTRUCCIONES GENERALES Y CALIFICACIÓN

Después de leer atentamente el examen, responda a cuatro preguntas cualesquiera a elegir entre las ocho que se proponen.

TIEMPO Y CALIFICACIÓN: 90 minutos. Cada pregunta se calificará sobre 2,5 puntos.

A.1. (2,5 puntos). Tema: “Las fuentes de energía en España”.

Desarrolle, de manera sintética, el tema propuesto atendiendo a los siguientes apartados (utilice, como máximo, una cara de un folio):

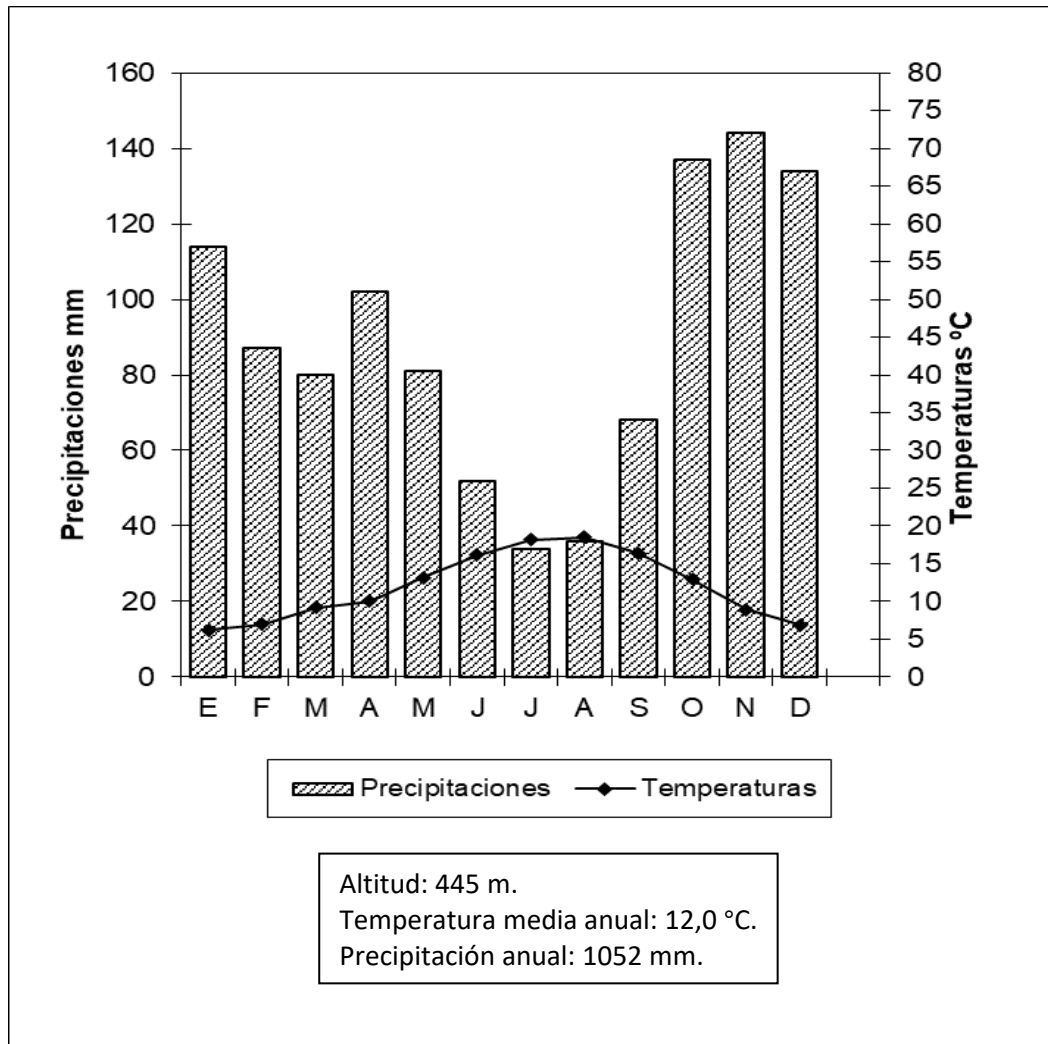
1. Tipos de fuentes de energía primaria: renovables y no renovables.
2. El modelo español y su política energética.

A.2. (2,5 puntos). Defina con precisión **cinco** de los ocho **conceptos** siguientes (escriba, como máximo, una cara de un folio):

Berrocal; cono volcánico; delta fluvial; declinación magnética; plano; cerro; desalinización; paisaje antrópico.

A.3. (2,5 puntos). Realice un comentario del siguiente climograma atendiendo, al menos, a estos aspectos:

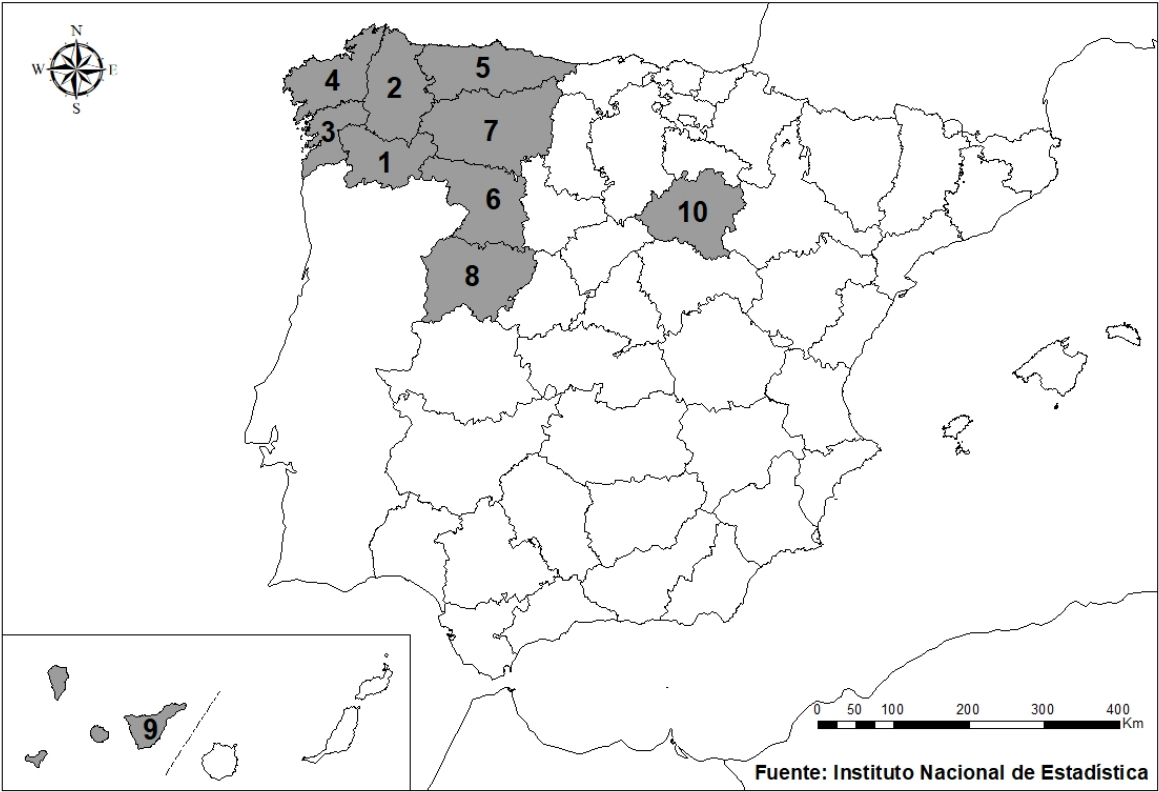
1. Régimen de temperaturas medias mensuales y de las precipitaciones.
2. Pertenencia a alguna de las variedades climáticas de España y su área de distribución.



Fuente: Aemet

Meses	E	F	M	A	M	J	J	A	S	O	N	D	Media	Total
P (mm)	114	87	80	102	81	52	34	36	68	137	144	134		1052
T media (°C)	6,2	7,0	9,2	10,0	13,2	16,1	18,2	18,5	16,4	12,9	8,9	6,9	12,0	

A.4 (2,5 puntos). A la vista del mapa adjunto “**Provincias con más del 9% de personas residentes en el extranjero en 2020**”, indique el nombre de las provincias numeradas y explique las posibles razones y el significado demográfico que pueda tener esta distribución (media española 6,32 %).



B.1. (2,5 puntos). Tema: “El movimiento natural de la población española: los regímenes demográficos”.

Desarrolle, de manera sintética, el tema propuesto atendiendo a los siguientes apartados (utilice, como máximo, una cara de un folio):

1. Los regímenes demográficos y su extensión temporal.
2. Evolución y principales características de cada etapa.

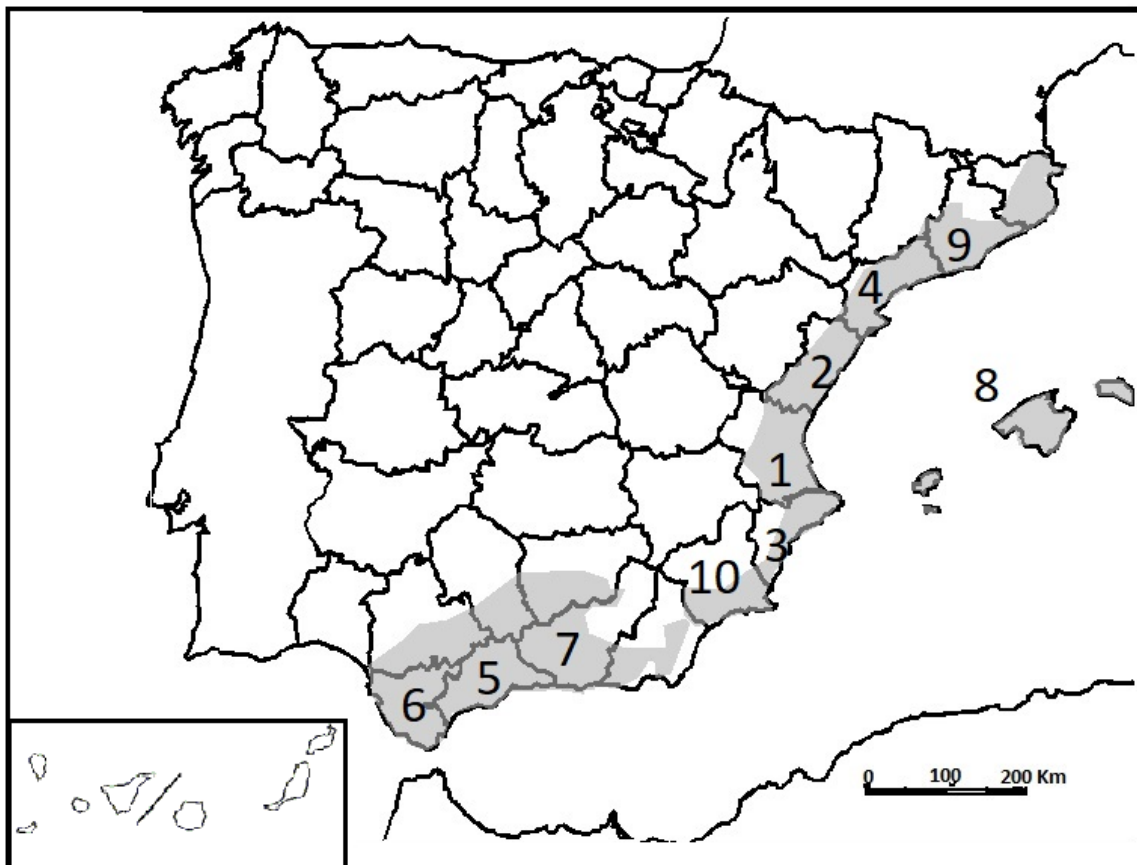
B.2. (2,5 puntos). Defina con precisión **cinco** de los ocho **conceptos** siguientes (escriba, como máximo, una cara de un folio):

Contaminación atmosférica; censo; emigrante; comarca; subempleo; municipio; xenofobia; casco histórico.

B.3. (2,5 puntos). Comente la **fotografía adjunta**, atendiendo, si procediese, al siguiente orden:

1. Elementos del medio físico.
2. Elementos del medio humano.
3. La relación entre ellos.
4. Indique el tipo de paisaje geográfico que muestra la fotografía.

B.4. (2,5 puntos). A la vista del mapa adjunto “**Área de vegetación potencial del bosque mediterráneo costero**”, indique el nombre de las provincias numeradas y señale los factores que explican esta distribución.



Fuente: Atlas Nacional de España. Modificado.

GEOGRAFÍA



Altea (Alicante)

GEOGRAFÍA

CRITERIOS ESPECÍFICOS DE CORRECCIÓN.

A) CRITERIO GENERAL:

La puntuación total será de **10 puntos**.

B) CRITERIOS CONCRETOS:

Preguntas A.1 y B.1: 2,5 puntos.

Trata del “*desarrollo de un tema*”, valorando fundamentalmente la ordenación, la coherencia expositivo-argumentativa, la claridad, la precisión y la organización sintética de los conocimientos, junto con la correcta localización, la comprensión y caracterización de los fenómenos geográficos que se suman al grado y profundidad de los conocimientos. El tema podrá ser planteado a partir de imágenes, gráficos, mapas u otros recursos visuales. **La puntuación asignada a esta pregunta se distribuirá equitativamente entre los subepígrafes del enunciado.** Los coordinadores comunicarán a los correctores las orientaciones específicas de corrección.

Preguntas A.2 y B.2: 2,5 puntos.

Definición de una serie de *términos geográficos y conceptos*. Las respuestas deberán valorarse con un criterio amplio, ya que son numerosas las posibilidades expresivas correctas. En todo caso, se atenderá a la precisión geográfica en la caracterización del término o concepto, y a la claridad conceptual. Se podrá complementar la definición con un dibujo explicativo. Se asignará 0,50 puntos por cada uno de los cinco términos preguntados, de los ocho que se proponen.

Preguntas A.3 y B.3: 2,5 puntos.

Según la opción elegida por el estudiante, deberá: A) Comentar una noticia o un gráfico vinculados a uno de los temas de la geografía de España, donde se valorará preferentemente, la capacidad de relación entre la actualidad y los contenidos estudiados; B) Interpretar una imagen de paisaje geográfico. Se valorará con criterio amplio las respuestas a los epígrafes enunciados en la pregunta.

Preguntas A.4 y B.4: 2,5 puntos.

Esta parte consta de una pregunta de localización con base en un mapa. Se valorará la localización del hecho cartografiado, y su correcta interpretación causal. Cada localización correcta de las diez posibles tendrá un valor de 0,10 puntos.

En las cuatro partes de que consta la prueba, se considerarán elementos de ponderación; v.gr.: la calidad de la redacción, la corrección expositivo-argumentativa, la gramatical y la ortográfica.