



**UNIVERSIDADES PÚBLICAS DE LA COMUNIDAD DE MADRID**  
EVALUACIÓN PARA EL ACCESO A LAS ENSEÑANZAS  
UNIVERSITARIAS OFICIALES DE GRADO

Curso **2021-2022**

**MATERIA: GEOGRAFÍA**

**INSTRUCCIONES GENERALES Y CALIFICACIÓN**

Después de leer atentamente el examen, responda a cuatro preguntas cualesquiera a elegir entre las ocho que se proponen.

**TIEMPO Y CALIFICACIÓN:** 90 minutos. Cada pregunta se calificará sobre 2,5 puntos.

**A.1. (2,5 puntos). Tema: “Las costas peninsulares españolas”**

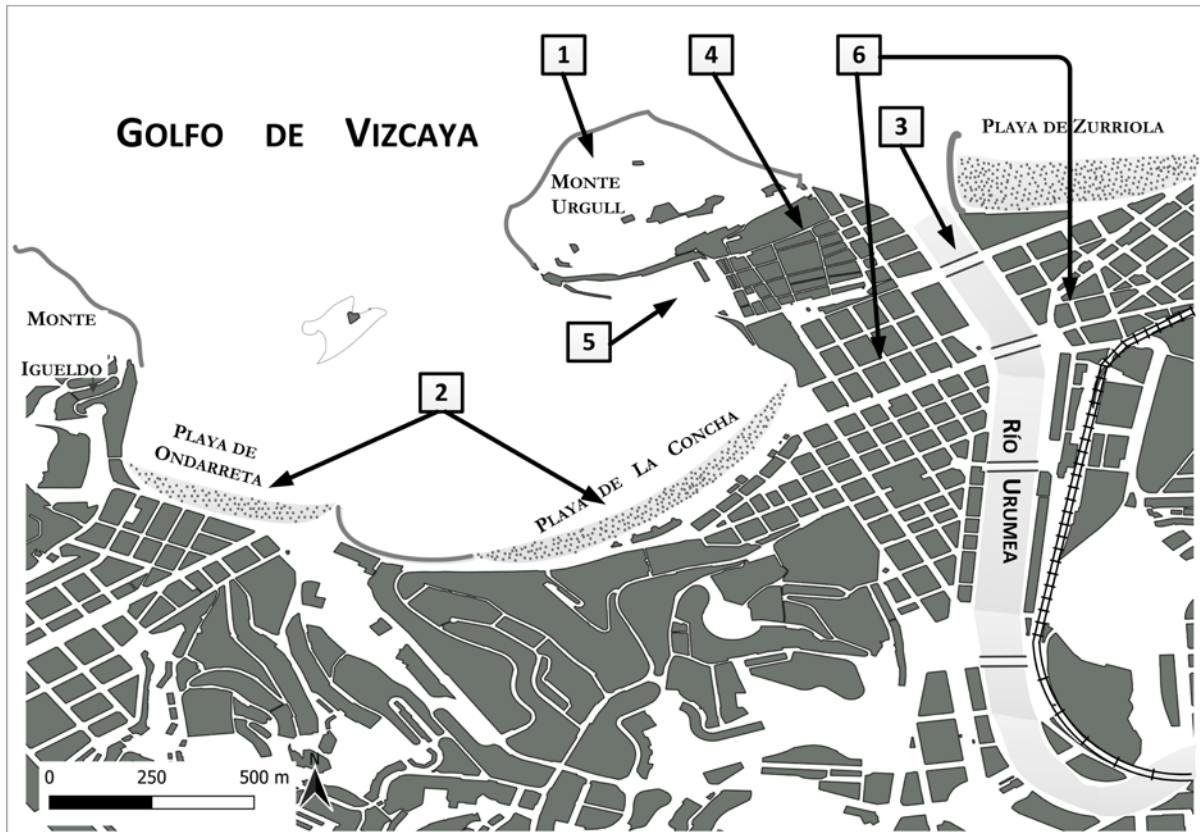
Desarrolle, de manera sintética, el tema propuesto atendiendo a los siguientes apartados (utilice, como máximo, una cara de un folio):

1. Localización y características de la costa atlántica peninsular.
2. Localización y características de la costa mediterránea peninsular.

**A.2. (2,5 puntos):** Defina con precisión **cinco** de los ocho **conceptos** siguientes (escriba, como máximo, una cara de un folio):

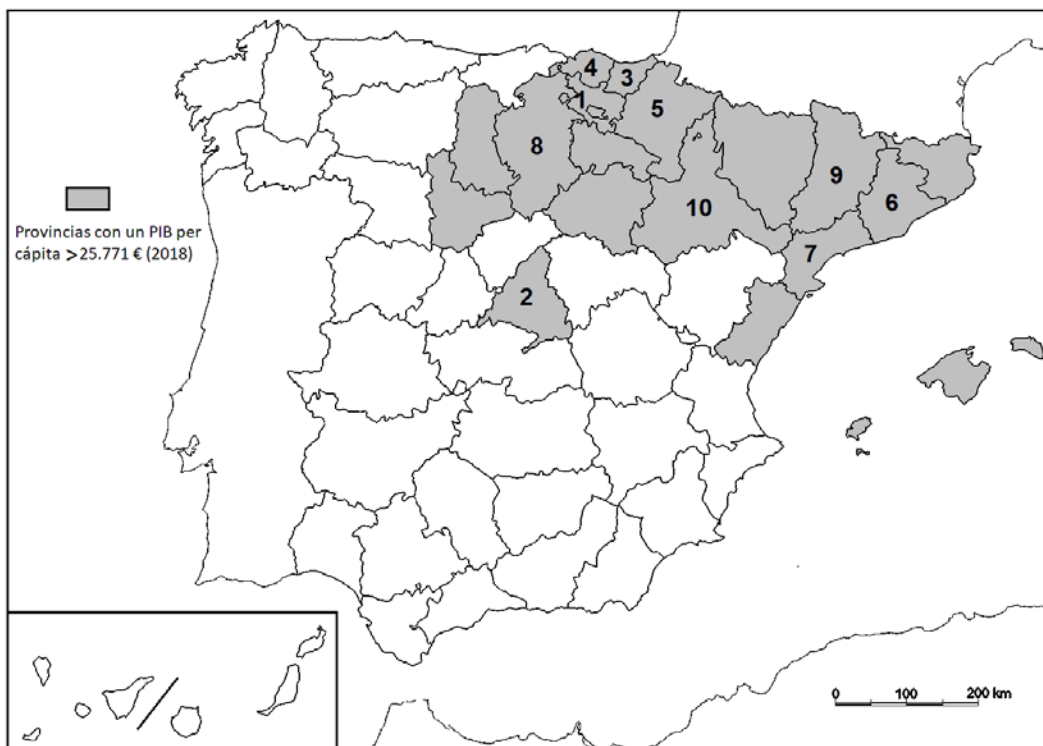
**DANA; caudal; ecuador; alcornoque; temperatura; conífera; escorrentía; plano.**

**A.3.** (2,5 puntos): A la vista del plano adjunto correspondiente a **San Sebastián/Donostia (provincia de Gipuzkoa)**, comente los elementos del medio físico que se muestran en el mismo (cuadrados 1, 2 y 3), así como los correspondientes al medio humano y morfologías urbanas (cuadrados 4, 5 y 6).



Fuente: Cartociudad IGN (modificado).

**A.4.** (2,5 puntos): A la vista del mapa adjunto “**Provincias con un PIB per cápita superior a 25.771 euros, (2018)**”, indique el nombre de las provincias numeradas y señale las posibles causas de esta distribución.



Provincia	PIB (2018) €/per cápita
1	36.404
2	35.091
3	33.851
4	31.792
5	31.026
6	30.947
7	30.810
8	29.571
9	28.456
10	28.386

Fuente: INE (2018).

**B.1. (2,5 puntos). Tema: “La España de dominio de clima oceánico”.**

Desarrolle, de manera sintética, el tema propuesto atendiendo a los siguientes apartados (utilice, como máximo, una cara de un folio):

1. Localización y extensión.
2. Principales elementos climáticos que lo definen.

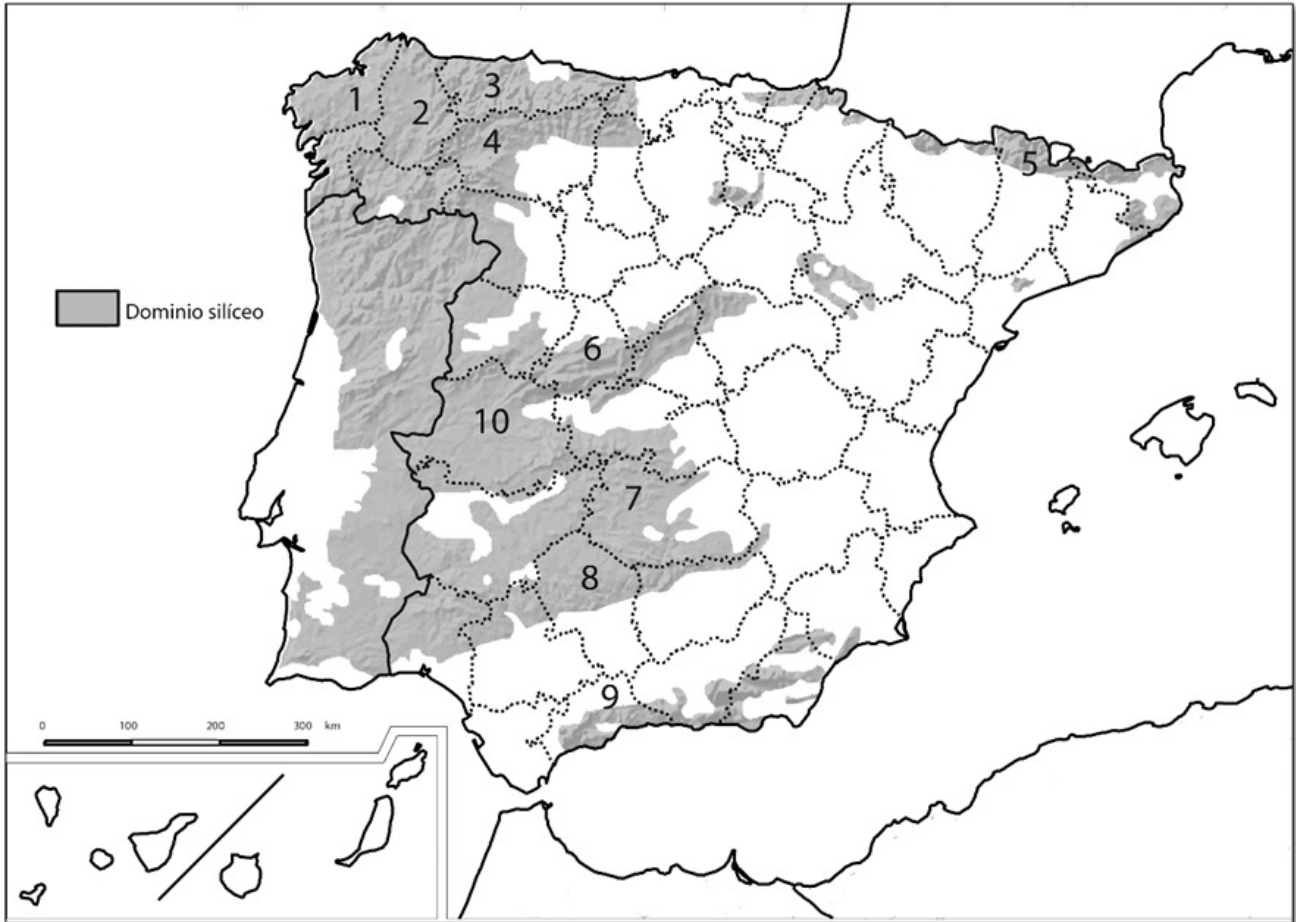
**B.2. (2,5 puntos):** Defina con precisión **cinco** de los ocho **conceptos** siguientes (escriba, como máximo, una cara de un folio):

**Esperanza de vida al nacer; isolínea; meridiano; gentrificación; tasa de dependencia; círculo polar; población activa; chabolismo.**

**B.3. (2,5 puntos):** Comente la **fotografía adjunta** atendiendo, si procediese, al siguiente orden:

1. Elementos del medio físico.
2. Elementos del medio humano.
3. La relación entre ellos.
4. Indique el tipo de paisaje geográfico que muestra la fotografía.

**B.4.** (2,5 puntos): A la vista del mapa adjunto “**La España silíceo**”, describa brevemente sus características generales e identifique las unidades del relieve sombreadas. Indique el nombre de las provincias numeradas.



Fuente: IGN (modificado).



## GEOGRAFÍA



Puyarruego (Huesca)

## GEOGRAFÍA

### CRITERIOS ESPECÍFICOS DE CORRECCIÓN Y CALIFICACIÓN

#### A) CRITERIO GENERAL:

La puntuación total será de **10 puntos**.

#### B) CRITERIOS CONCRETOS:

##### **Preguntas A.1 y B.1: 2,5 puntos.**

Trata del “*desarrollo de un tema*”, valorando fundamentalmente la ordenación, la coherencia expositivo-argumentativa, la claridad, la precisión y la organización sintética de los conocimientos, junto con la correcta localización, la comprensión y caracterización de los fenómenos geográficos que se suman al grado y profundidad de los conocimientos. El tema podrá ser planteado a partir de imágenes, gráficos, mapas u otros recursos visuales. **La puntuación asignada a esta pregunta se distribuirá equitativamente entre los subepígrafes del enunciado.** Los coordinadores comunicarán a los correctores las orientaciones específicas de corrección.

##### **Preguntas A.2 y B.2: 2,5 puntos.**

*Definición de una serie de términos geográficos y conceptos.* Las respuestas deberán valorarse con un criterio amplio, ya que son numerosas las posibilidades expresivas correctas. En todo caso, se atenderá a la precisión geográfica en la caracterización del término o concepto, y a la claridad conceptual. Se podrá complementar la definición con un dibujo explicativo. Se asignará 0,50 puntos por cada uno de los cinco términos preguntados, de los ocho que se proponen.

##### **Preguntas A.3 y B.3: 2,5 puntos.**

Según la opción elegida por el estudiante, deberá: A) Comentar una noticia o un gráfico vinculados a uno de los temas de la geografía de España, donde se valorará preferentemente, la capacidad de relación entre la actualidad y los contenidos estudiados; B) Interpretar una imagen de paisaje geográfico. Se valorará con criterio amplio las respuestas a los epígrafes enunciados en la pregunta.

##### **Preguntas A.4 y B.4: 2,5 puntos.**

**Esta parte consta de una pregunta de localización** con base en un mapa. Se valorará la localización del hecho cartografiado, y su correcta interpretación causal. **Cada localización correcta de las diez posibles tendrá un valor de 0,10 puntos.**

**En las cuatro partes de que consta la prueba, se considerarán elementos de ponderación; v.gr.: la calidad de la redacción, la corrección expositivo-argumentativa, la gramatical y la ortográfica.**