 Universidad <b>Carlos III</b> de Madrid	<b>UNIVERSIDADES PÚBLICAS DE LA COMUNIDAD DE MADRID</b> <b>EVALUACIÓN PARA EL ACCESO A LAS ENSEÑANZAS</b> <b>UNIVERSITARIAS OFICIALES DE GRADO</b>  Curso <b>2022-2023</b> <b>MATERIA: GEOGRAFÍA</b>	<b>D</b>
<b>INSTRUCCIONES GENERALES Y CALIFICACIÓN</b>  Después de leer atentamente el examen, responda a cuatro preguntas cualesquiera a elegir entre las ocho que se proponen.  <b>TIEMPO Y CALIFICACIÓN:</b> 90 minutos. Cada pregunta se calificará sobre 2,5 puntos.		

**A.1. (2,5 puntos). Tema: “Las emigraciones exteriores de la población española”**

Desarrolle, de manera sintética, el tema propuesto atendiendo a los siguientes apartados (utilice, como máximo, una cara de un folio):

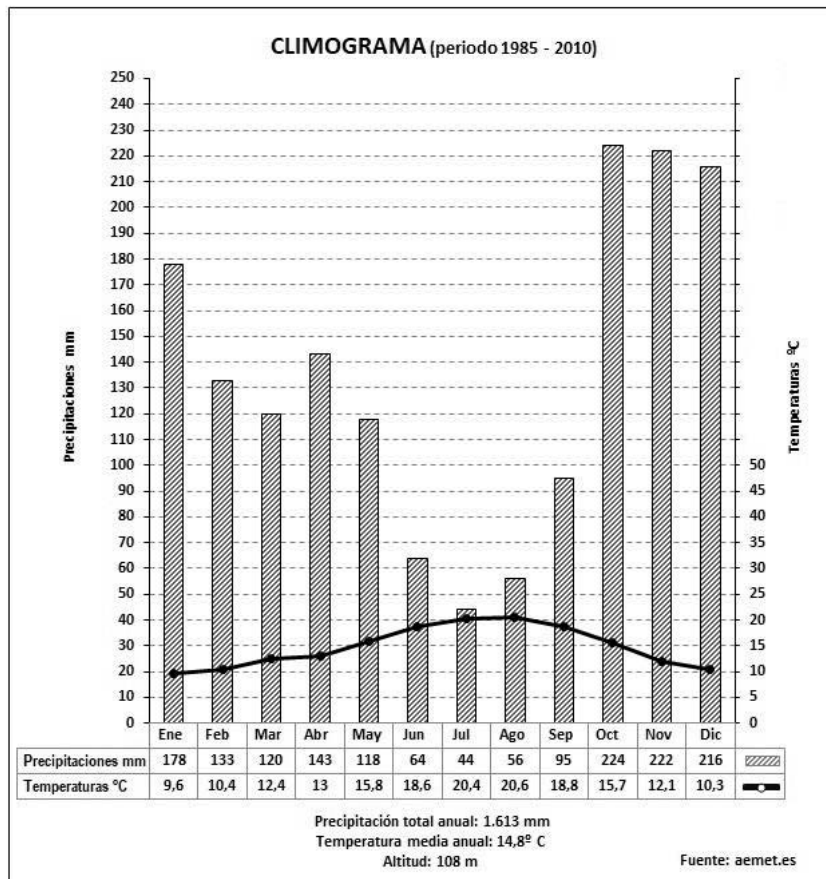
1. La emigración española hasta el final de la Guerra Civil. Etapas, destinos y factores que la motivan.
2. La emigración española desde el final de la Guerra Civil. Etapas, destinos, factores y consecuencias derivadas de ello.

**A.2. (2,5 puntos):** Defina con precisión **cinco** de los ocho **conceptos** siguientes (escriba, como máximo, una cara de un folio):

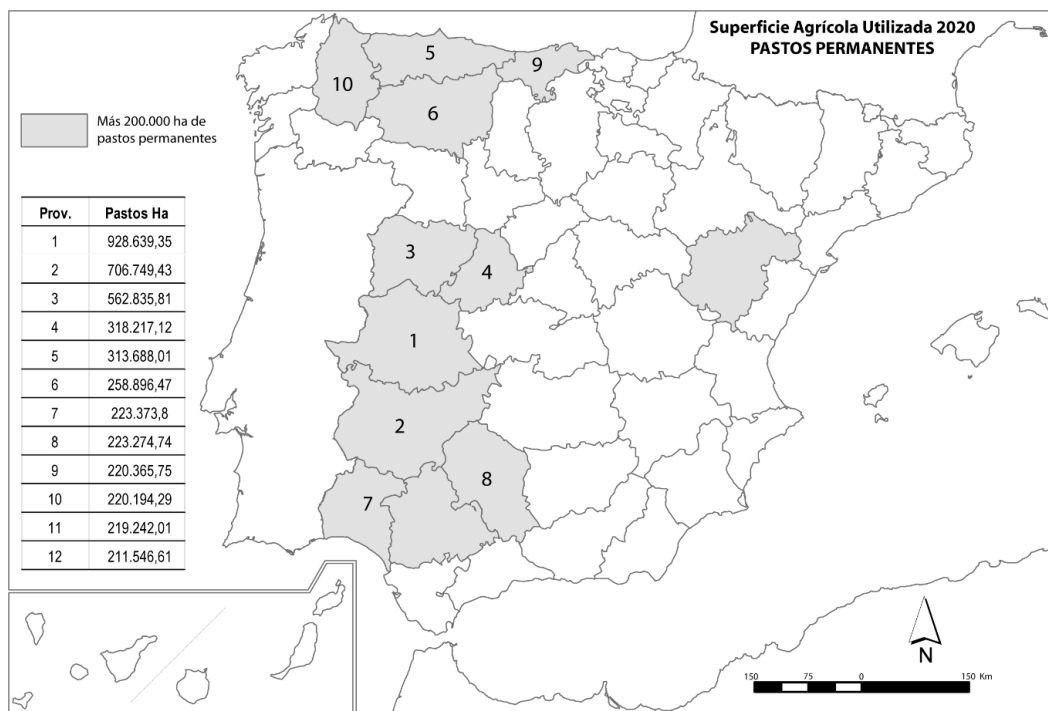
**Comunidad autónoma; Círculo Polar; vega; plano; zócalo; cuenca hidrográfica; isla; Parque Nacional.**

**A.3. (2,5 puntos):** Realice un comentario del siguiente **climograma** atendiendo, al menos, a estos aspectos:

1. Régimen de temperaturas medias mensuales y de las precipitaciones.
2. Pertenencia a alguna de las variedades climáticas de España y su área de distribución.



**A.4. (2,5 puntos):** A la vista del mapa adjunto “**Provincias con más de 200.000 hectáreas de Superficie Agraria Utilizada dedicadas a pastos permanentes, 2020**”, además, de Teruel y Sevilla, indique, el nombre de las provincias numeradas del 1 al 10 y señale las posibles causas de esta distribución.



**B.1. (2,5 puntos). Tema: “El transporte en España”**

Desarrolle, de manera sintética, el tema propuesto atendiendo a los siguientes apartados (utilice, como máximo, una cara de un folio):

1. Los sistemas de transportes terrestres.
2. Características del sistema de transporte en España.

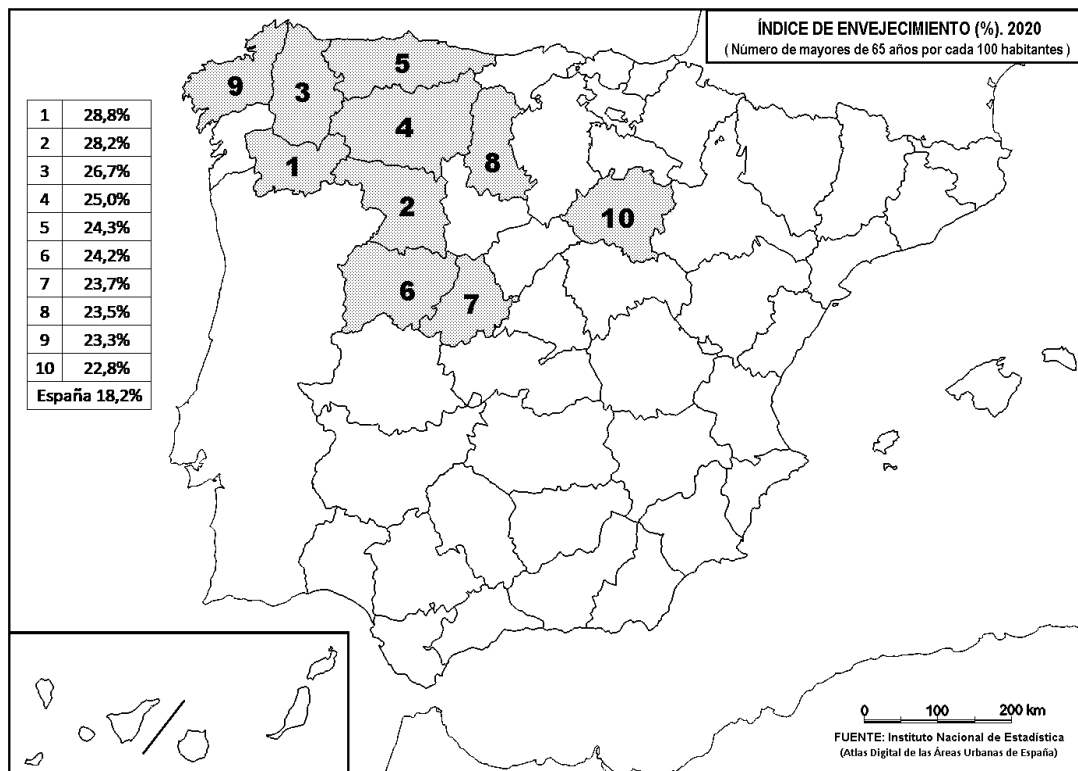
**B.2. (2,5 puntos):** Defina con precisión **cinco** de los ocho **conceptos** siguientes (escriba, como máximo, una cara de un folio):

**Meridiano; lluvia ácida; sinclinal; solana; robledal; maquia; proyección cartográfica; hayedo.**

**B.3. (2,5 puntos):** Comente la **fotografía adjunta** atendiendo, si procediese, al siguiente orden:

1. Elementos del medio físico.
2. Elementos del medio humano.
3. La relación entre ellos.
4. Indique el tipo de paisaje geográfico que muestra la fotografía.

**B.4. (2,5 puntos):** A la vista del mapa adjunto: “**Índice de envejecimiento por cada 100.000 habitantes (2020)**”, indique el nombre de las provincias numeradas y las posibles causas de esta distribución.



## GEOGRAFÍA



**Los Llanos de Aridane, La Palma (provincia de Santa Cruz de Tenerife)**