

INSTRUCCIONES GENERALES Y CALIFICACIÓN

Después de leer atentamente el examen, responda a cuatro preguntas cualesquiera a elegir entre las ocho que se proponen.

TIEMPO Y CALIFICACIÓN: 90 minutos. Cada pregunta se calificará sobre 2,5 puntos

A.1. (2,5 puntos). Tema: “La litología peninsular”

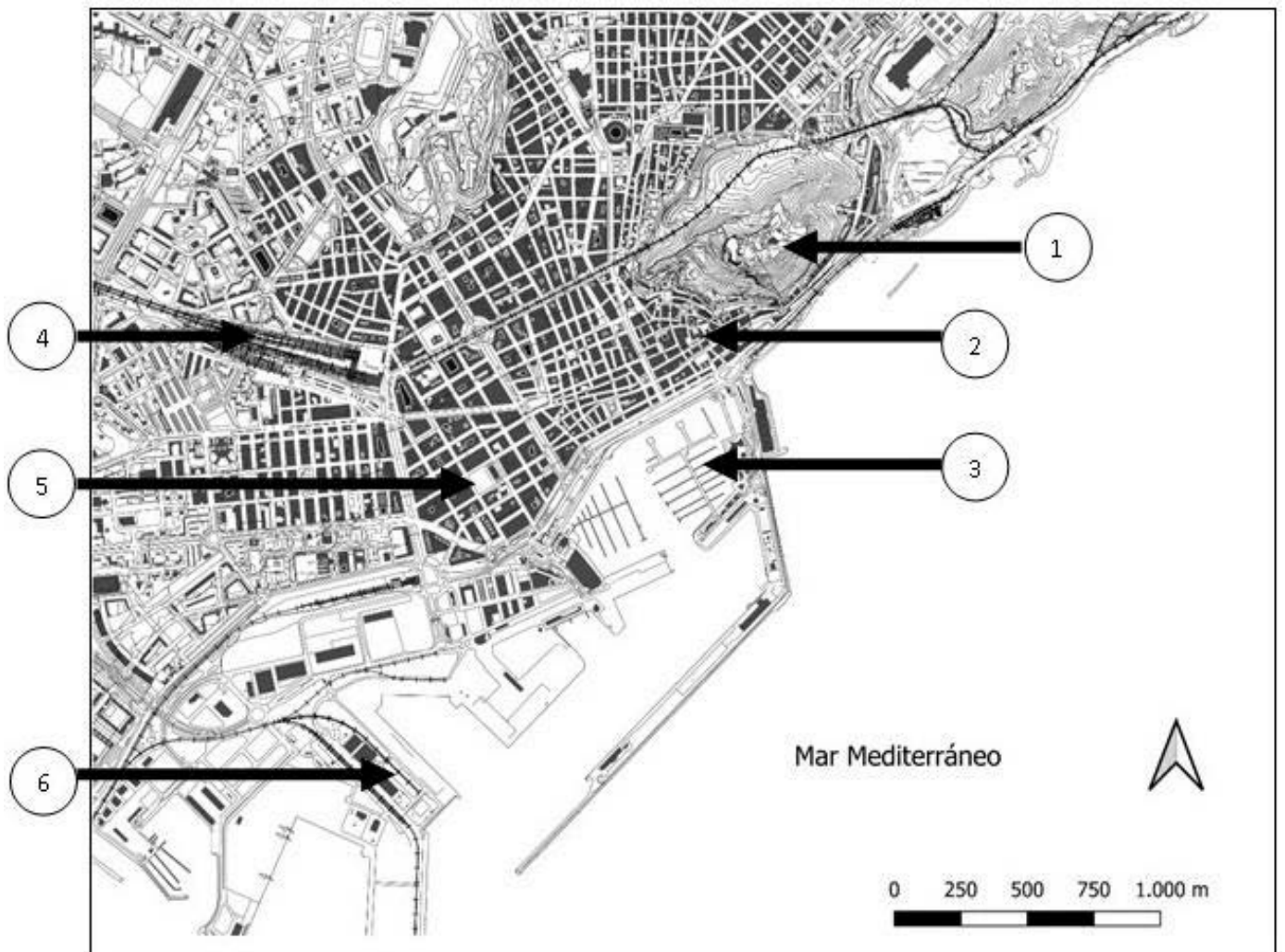
Desarrolle, de manera sintética, el tema propuesto atendiendo a los siguientes apartados (utilice, como máximo, una cara de un folio):

1. Tipos de roquedo peninsular.
2. El modelado rocoso y tipos de relieve.

A.2. (2,5 puntos): Defina con precisión **cinco** de los ocho **conceptos** siguientes (escriba, como máximo, una cara de un folio):

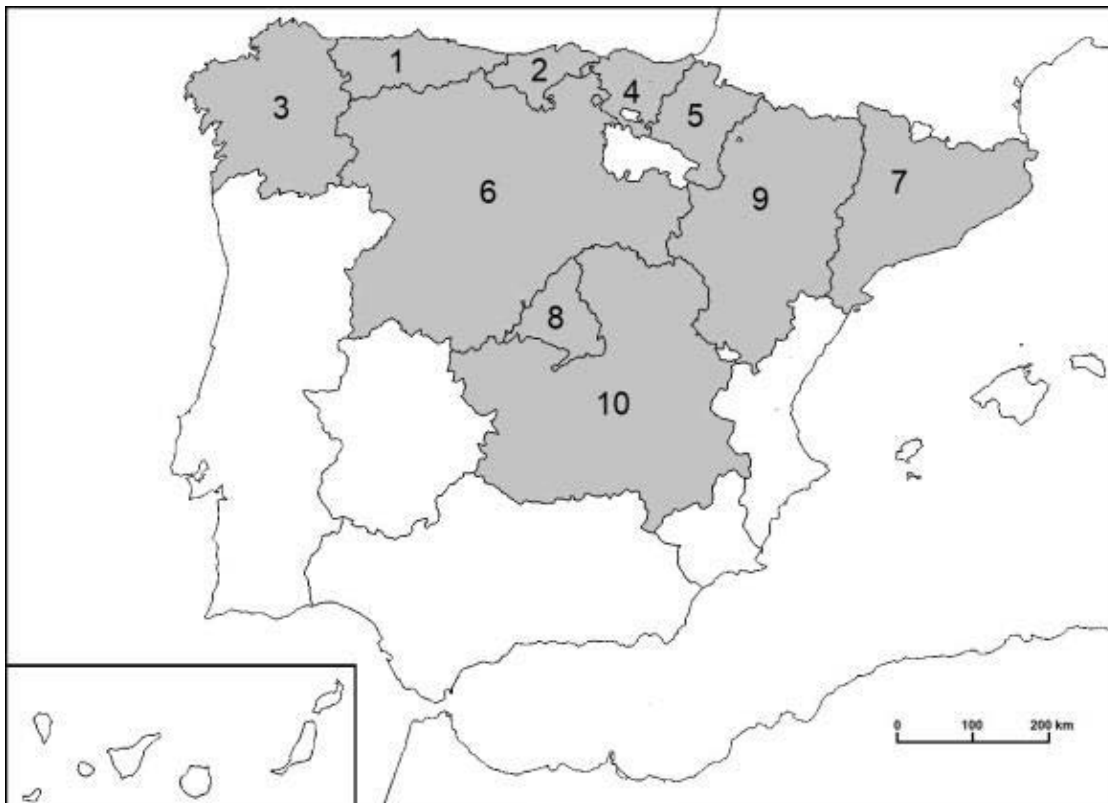
Calima; albufera; trópico; cliserie; isolínea; topografía; bahía; Comisión Europea.

A.3. (2,5 puntos): A la vista del **plano adjunto** correspondiente a **Alicante**, comente los elementos del medio físico que se muestran en el mismo (número 1) así como los correspondientes al **medio humano y morfologías urbanas** (números 2, 3, 4, 5, 6).



Fuente: Cartociudad IGN (modificado).

A.4. (2,5 puntos): A la vista del mapa adjunto “Comunidades autónomas con mayor porcentaje de prados naturales sin riego (2021)”, indique el nombre de las comunidades autónomas numeradas y señale las posibles causas de esta distribución.



	Superficie geográfica (ha)	Superficie de prados naturales no regados (ha)	% de superficie de prados no regados
España	50.597.566,00	848.542,80	1,7
1	1.060.568,00	186.393,50	17,6
2	533.018,00	90.811,90	17,0
3	2.957.750,80	310.238,50	10,5
4	723.329,00	72.853,80	10,1
5	1.039.077,00	24.830,50	2,4
6	9.422.206,00	141.873,90	1,5
7	3.211.132,70	9.292,50	0,3
8	802.748,96	2.051,60	0,3
9	4.772.208,00	6.653,40	0,1
10	7.945.932,17	1.795,60	0,0

Fuente: Encuesta sobre Superficies y Rendimientos Cultivos (ESYRCE). 2021.

B.1. (2,5 puntos). Tema: “Las zonas húmedas españolas”

Desarrolle, de manera sintética, el tema propuesto atendiendo a los siguientes apartados (utilice, como máximo, una cara de un folio):

1. Los medios lacustres o lagos.
2. Los medios palustres o humedales.

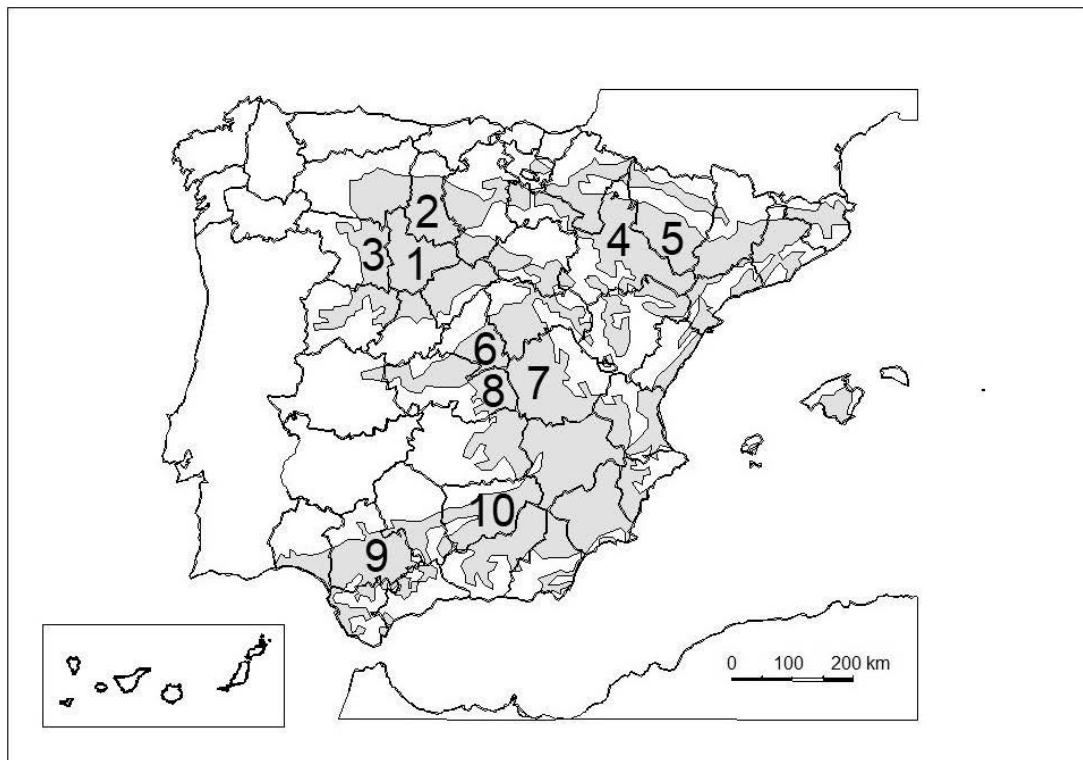
B.2. (2,5 puntos). Defina con precisión **cinco** de los ocho **conceptos** siguientes (escriba, como máximo, una cara de un folio):

Emigración; curva de nivel; Ecuador terrestre; rehabilitación urbana; escala de mapa; falla; población rural; barrio.

B.3. (2,5 puntos): Comente la **fotografía adjunta** atendiendo, si procediese, al siguiente orden:

1. Elementos del medio físico.
2. Elementos del medio humano.
3. La relación entre ellos.
4. Indique el tipo de paisaje geográfico que muestra la fotografía.

B.4. (2,5 puntos): A la vista del mapa adjunto **“La España arcillosa”**, describa brevemente sus características generales e indique el nombre de las provincias numeradas.



Fuente: IGN (modificado).

GEOGRAFÍA



Chantada (Lugo)