

FICHA 5 LA POBLACIÓN ESPAÑOLA

En clase se hará referencia principalmente a los regímenes demográficos, movimientos migratorios y estructura de la población en España

1. Defina los siguientes conceptos:

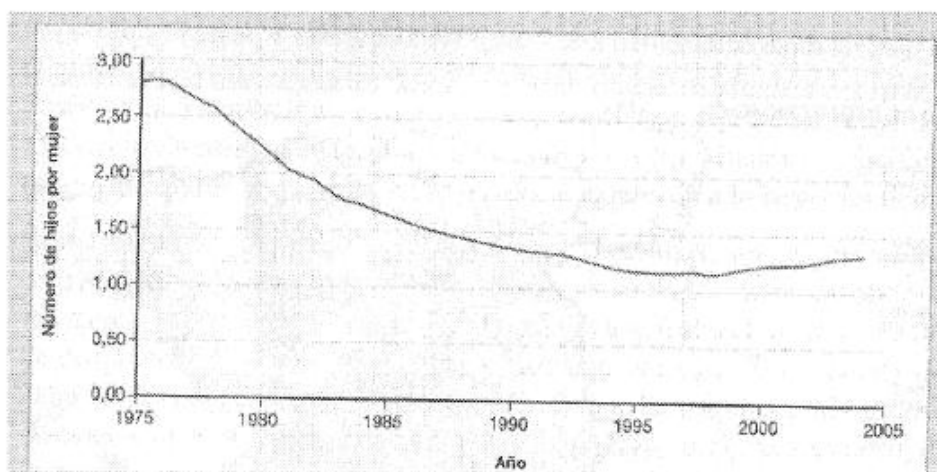
- Censo
- Padrón municipal
- Tasa de mortalidad
- Éxodo rural
- Migraciones

2. Explique las diferencias en mortalidad entre el régimen demográfico antiguo y el actual

3. ¿qué migraciones exteriores hubo en España? ¿hacia dónde? ¿por qué emigraban los españoles? ¿qué etapas tienen?

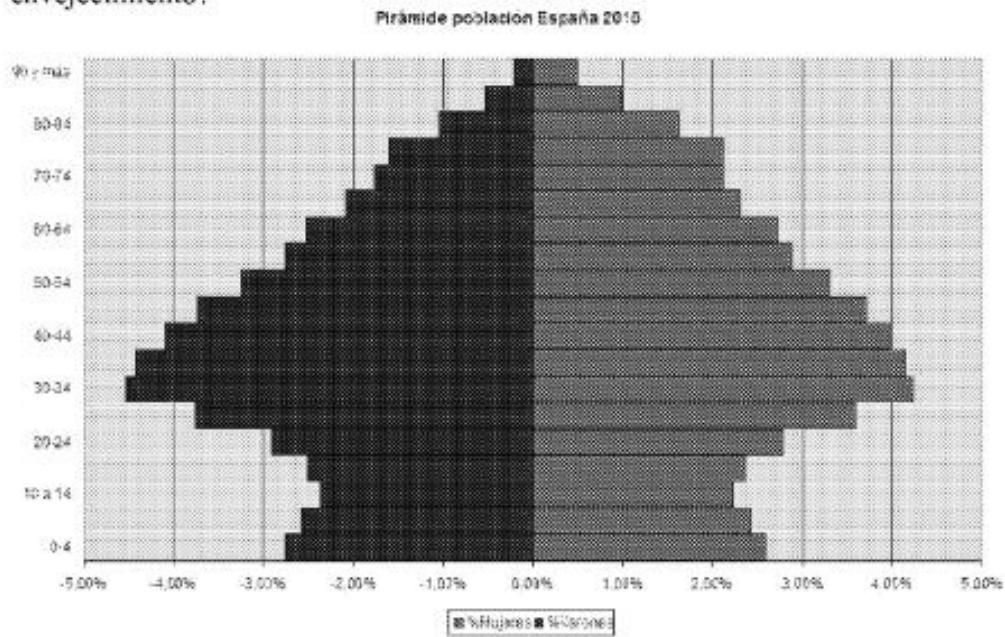
4. Observe el gráfico adjunto y responda a las siguientes preguntas:

- a) ¿Qué causas explican el descenso del número de hijos por mujer entre 1975 y 2008?
- b) ¿Cuáles han sido las consecuencias?
- c) ¿Por qué se produce repunte en 1998?



5. La pirámide de población adjunta representa la estructura de la población de España en 2010. Haga un comentario teniendo en cuenta estas cuestiones:

- a) ¿Qué forma tiene la pirámide? Explique su estructura por sexo y edad
- b) ¿Cuáles son las causas de la reducción y posterior ensanchamiento de la base de la pirámide?
- c) ¿Cuál es la tendencia de la población española, el rejuvenecimiento o al envejecimiento?



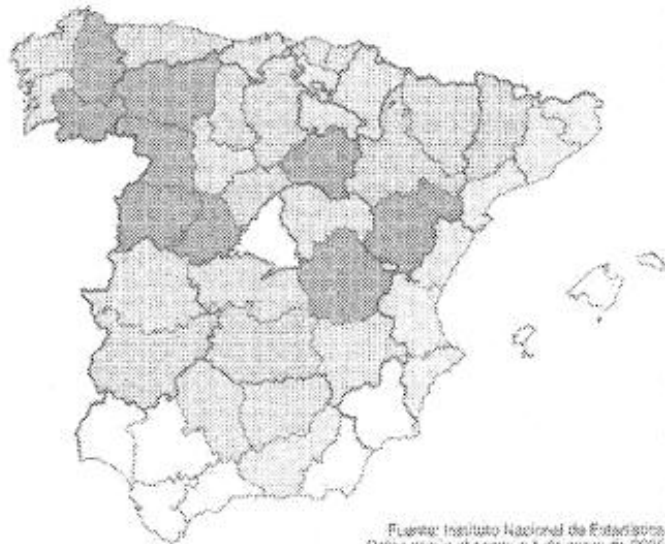
6. Comente el mapa que se ha adjuntado respondiendo a las siguientes cuestiones:

- Enumere las provincias más envejecidas y las más jóvenes, señalándolas por los puntos cardinales
- Explique las causas que han provocado esta situación y diga los factores que influyen en los contrastes interprovinciales
- ¿cuáles serán las consecuencias de la misma?

ENVEJECIMIENTO DE LA POBLACIÓN ESPAÑOLA (2005)

Porcentaje de mayores de 65 años

- Menos del 15
- Del 15 al 17
- Del 17 al 19
- Del 19 al 23
- Más del 23



Fuente: Instituto Nacional de Estadística. Datos según el censo el 1 de enero de 2005.