

Criterios generales de corrección

Los criterios generales de evaluación de la prueba son los siguientes:


- En **las preguntas breves**: precisión y capacidad de relación.
- En **las definiciones**: precisión, claridad y brevedad.
- En **la práctica**: el análisis y la interpretación concisa del gráfico o mapa de que se trate, así como la localización y enumeración correcta de los aspectos geográficos interrogados.

Como criterios generales de corrección hay que señalar también, que la calificación final será el resultado de sumar las notas parciales de los tres apartados señalados. Las preguntas breves se valorarán con 4 puntos, 2 para cada una. Las definiciones de concepto, como serán 6, su valor será de 3 puntos, es decir, 0,5 cada una. La práctica se evaluará también sobre 3 puntos, de esa forma la puntuación total será de 10 puntos.

En el ejercicio, se tendrán en cuenta específicamente la facilidad de expresión, el uso correcto de los términos y conceptos geográficos, así como la corrección del idioma, en síntesis:

- a) La corrección sintáctica.
- b) La corrección ortográfica.
- c) La propiedad léxica.
- d) La presentación adecuada.

Si el alumno obtuviese una valoración negativa en todos estos aspectos, no superará la Prueba. El corrector especificará en el ejercicio la deducción efectuada en la nota global según los criterios señalados; dicha deducción podrá ser de hasta un máximo de dos puntos. El corrector debe penalizar fallos diferentes, no sólo la reiteración de un mismo fallo.

 03100239		Geografía (F.G.)	
		PRUEBA DE ACCESO A LA UNIVERSIDAD	
	Junio - 2013	Duración: 90min.	MODELO 01
			Hoja: 1 de 2

MODELO: "01"

INSTRUCCIONES GENERALES

El alumno realizará sólo una de las dos opciones propuestas (A o B).

El alumno no podrá utilizar ningún material.

Criterios generales de evaluación:

- En las definiciones se valorará, la claridad, la precisión y la brevedad.
- En las preguntas breves, el nivel de desarrollo teórico y la capacidad de síntesis.
- En la práctica, el alumno realizará el análisis e interpretación del gráfico o mapa siguiendo el esquema que se le proponga o su propio criterio si no se le indica otra cosa.

Criterios específicos de corrección:

La puntuación final será el resultado de la suma de las calificaciones de los tres apartados. La valoración de cada uno será como sigue: 3 puntos para la pregunta de 6 definiciones de conceptos, 2 puntos para cada pregunta breve del segundo apartado, total 4 puntos, y 3 puntos para la práctica.

Se tendrá muy en cuenta la ortografía, la corrección sintáctica y la presentación del examen.

OPCIÓN A

1. Definición de términos geográficos. Defina brevemente los siguientes términos: "cartografía", "atmósfera", "cluse", "censo de población", "balance demográfico" y "ciudad lineal".

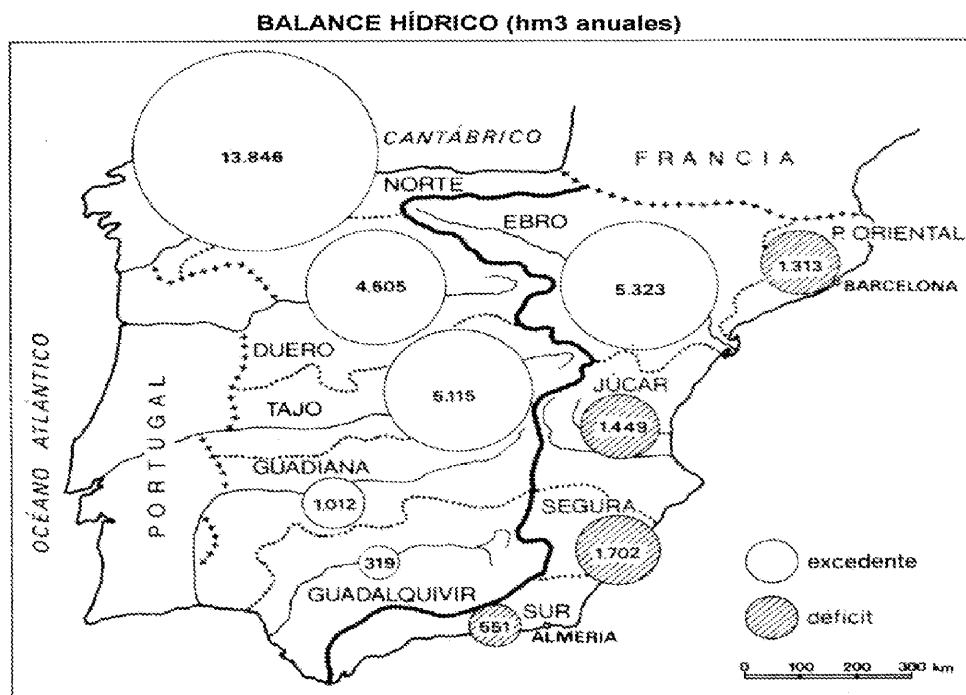
2. Preguntas breves.



- ¿En qué consiste el efecto föhn o foehn? Explíquelo razonadamente.
- La red de aeropuertos españoles.

3. Prueba de localización, lectura e interpretación de documentos.

A la vista el mapa adjunto, comente los siguientes aspectos:

- a) características de las vertientes hidrográficas españolas;
- b) defina en cada una de ellas los rasgos de la red fluvial.



 03100239		Geografía (F.G.)		
		PRUEBA DE ACCESO A LA UNIVERSIDAD		
	Junio - 2013	Duración: 90min.		MODELO 01
				Hoja: 2 de 2

OPCIÓN B

1. Definición de términos geográficos. Defina brevemente los siguientes términos:

“estepa”, “macizo antiguo”, “isobara”, “minifundio”, “municipio” y “padrón municipal”

2. Preguntas breves.

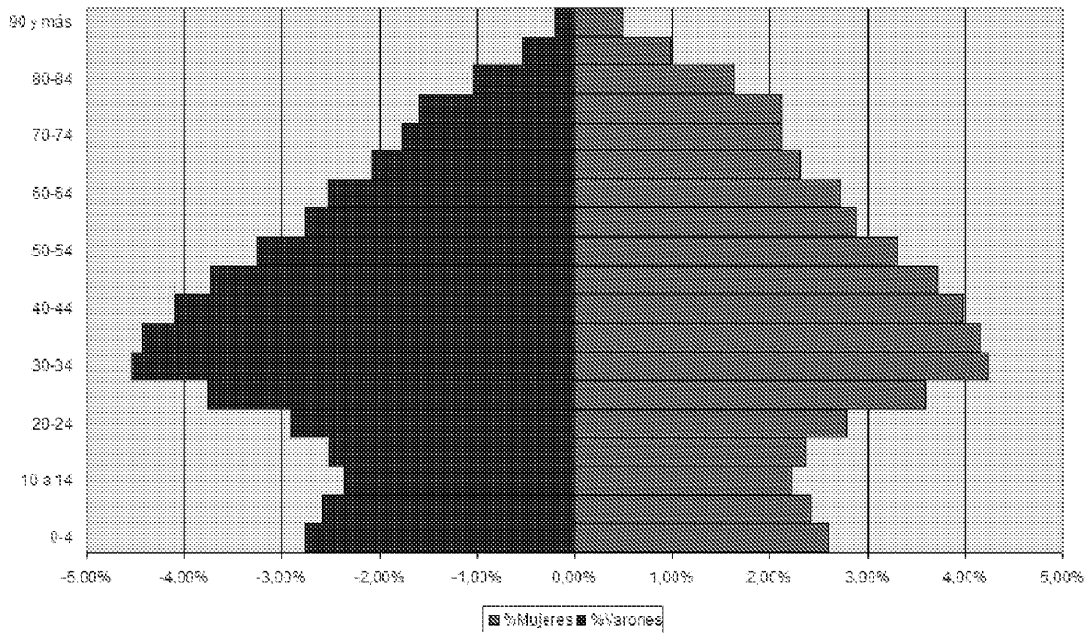
- ¿Qué árboles componen el bosque perennifolio mediterráneo? ¿Qué características tienen y dónde se localizan fundamentalmente?
- ¿Qué es el malthusianismo? Diga a quién se debe y en qué época se dio.



3. Prueba de localización, lectura e interpretación de documentos.

La pirámide de población adjunta representa la estructura de la población de España en 2010. Haga un comentario teniendo en cuenta estas cuestiones:

- a) ¿Qué forma tiene la pirámide? Explique su estructura por sexo y edad.
- b) ¿Cuáles son las causas de la reducción y posterior aumento de la base de la pirámide?
- c) ¿Cuál es la tendencia de la población española, al rejuvenecimiento o al envejecimiento?

Pirámide población España 2010



 03100498		Geografía (F.E.)	
		PRUEBA DE ACCESO A LA UNIVERSIDAD	
	Junio - 2013	Duración: 90min.	MODELO 02
			Hoja: 1 de 2

MODELO: "02"

INSTRUCCIONES GENERALES

El alumno realizará sólo una de las dos opciones propuestas (A o B).

El alumno no podrá utilizar ningún material.

Criterios generales de evaluación:

- En las definiciones se valorará, la claridad, la precisión y la brevedad.
- En las preguntas breves, el nivel de desarrollo teórico y la capacidad de síntesis.
- En la práctica, el alumno realizará el análisis e interpretación del gráfico o mapa siguiendo el esquema que se le proponga o su propio criterio si no se le indica otra cosa.

Criterios específicos de corrección:

La puntuación final será el resultado de la suma de las calificaciones de los tres apartados. La valoración de cada uno será como sigue: 3 puntos para la pregunta de 6 definiciones de conceptos, 2 puntos para cada pregunta breve del segundo apartado, total 4 puntos, y 3 puntos para la práctica.

Se tendrá muy en cuenta la ortografía, la corrección sintáctica y la presentación del examen.

OPCIÓN A

1. Definición de términos geográficos.

Defina brevemente los siguientes términos: "Borrasca"; "Penillanura"; "Parque nacional"; "Latifundio"; "Saldo migratorio" y "Tasa Bruta de Natalidad".

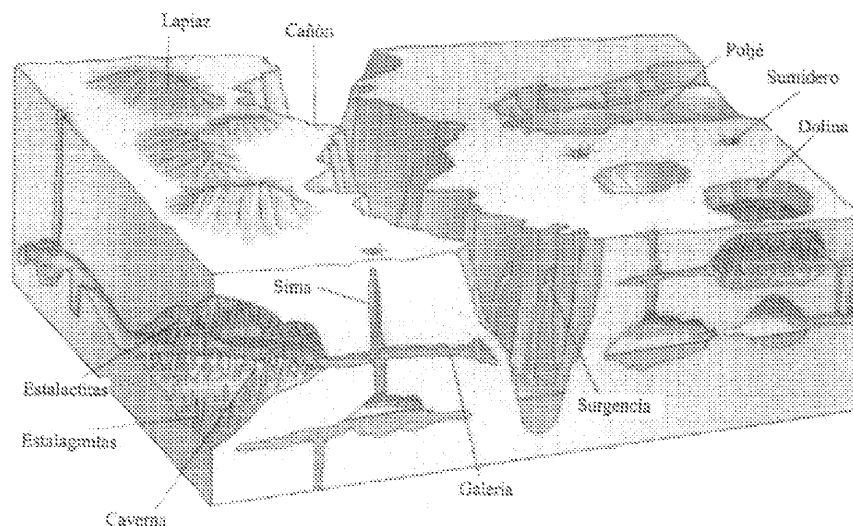
2. Preguntas breves.

- Principales transformaciones del poblamiento rural en las áreas periurbanas españolas.
- Principales riesgos naturales en España de origen geológico.

3. Prueba de localización, lectura e interpretación de documentos.

Analice y comente el siguiente bloque-diagrama, respondiendo a las siguientes cuestiones:

- 1) ¿qué tipo de relieve representa y qué proceso ha seguido para su formación?
- 2) ¿qué diferencias hay entre dolina, uvala, polje y sima?
- 3) ¿recuerda algún ejemplo de este tipo de relieve en España?



 03100498		Geografía (F.E.)	
		PRUEBA DE ACCESO A LA UNIVERSIDAD	
	Junio - 2013	Duración: 90min.	MODELO 02
			Hoja: 2 de 2

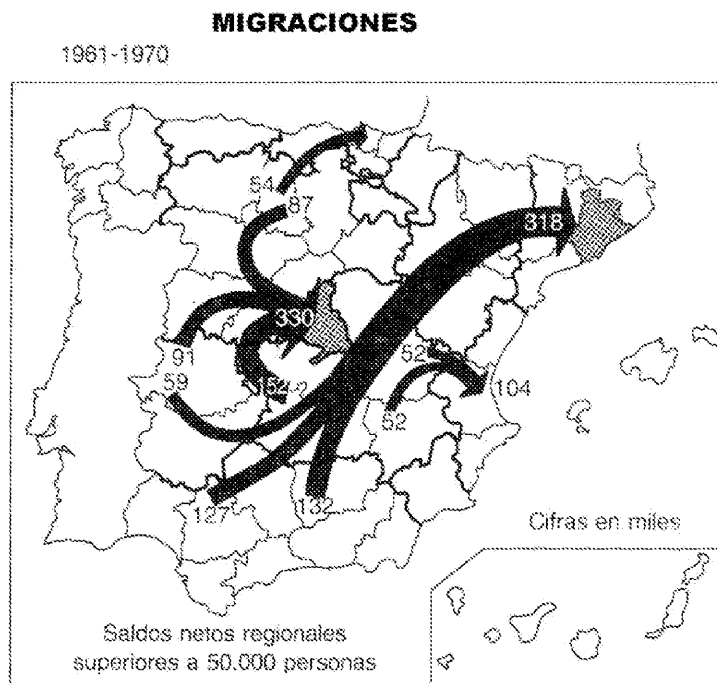
OPCIÓN B

1. Definición de términos geográficos. Defina brevemente los siguientes términos:
“erosión”, “modelado glaciar”, “isohipsa”, “minifundio”, “tasa bruta de mortalidad”
y “ciudad jardín”

2. Preguntas breves.



- La red de aeropuertos españoles.
- El clima de las islas Canarias

3. Prueba de localización, lectura e interpretación de documentos



A la vista del mapa adjunto, comente los siguientes aspectos:

- a) características de las migraciones interiores españolas en la década de los años sesenta;
- b) diga los principales lugares de destino y salida por su cuantía y
- c) exponga las consecuencias espaciales de dichas migraciones.

 03100239		Geografía (F.G.)		
		PRUEBA DE ACCESO A LA UNIVERSIDAD		
	Junio - 2013	Duración: 90min.		MODELO 03
				Hoja: 1 de 2

MODELO: "03"

INSTRUCCIONES GENERALES

El alumno realizará sólo una de las dos opciones propuestas (A o B).

El alumno no podrá utilizar ningún material.

Criterios generales de evaluación:

- En las definiciones se valorará, la claridad, la precisión y la brevedad.
- En las preguntas breves, el nivel de desarrollo teórico y la capacidad de síntesis.
- En la práctica, el alumno realizará el análisis e interpretación del gráfico o mapa siguiendo el esquema que se le proponga o su propio criterio si no se le indica otra cosa.

Criterios específicos de corrección:

La puntuación final será el resultado de la suma de las calificaciones de los tres apartados. La valoración de cada uno será como sigue: 3 puntos para la pregunta de 6 definiciones de conceptos, 2 puntos para cada pregunta breve del segundo apartado, total 4 puntos, y 3 puntos para la práctica.

Se tendrá muy en cuenta la ortografía, la corrección sintáctica y la presentación del examen.

OPCIÓN A

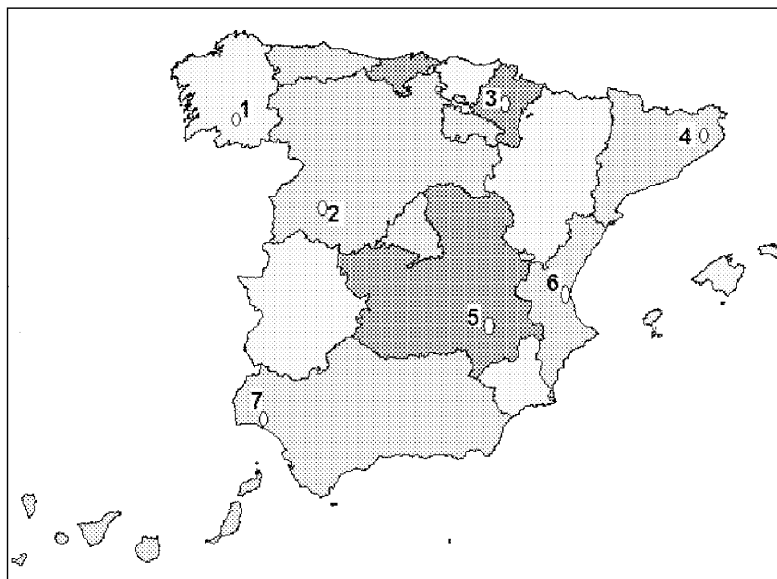
1. Definición de términos geográficos. Defina brevemente los siguientes términos: "bosque caducifolio", "solsticio", "combe", "Mapa Topográfico", "Tasa de actividad" y "envejecimiento demográfico".



2. Preguntas breves.

- Exponga las características del clima mediterráneo.
- La actividad forestal en España

3. Prueba de localización, lectura e interpretación de documentos.

- a) Cite los nombres de las capitales de provincia que aparecen señaladas en el mapa adjunto, según su número de localización.
- b) ¿A qué Comunidades Autónomas pertenecen?
- c) Diga cuál o cuáles de ellas son capitales autonómicas y señale su principal función urbana.



 03100239		Geografía (F.G.)		
		PRUEBA DE ACCESO A LA UNIVERSIDAD		
	Junio - 2013	Duración: 90min.		MODELO 03
				Hoja: 2 de 2

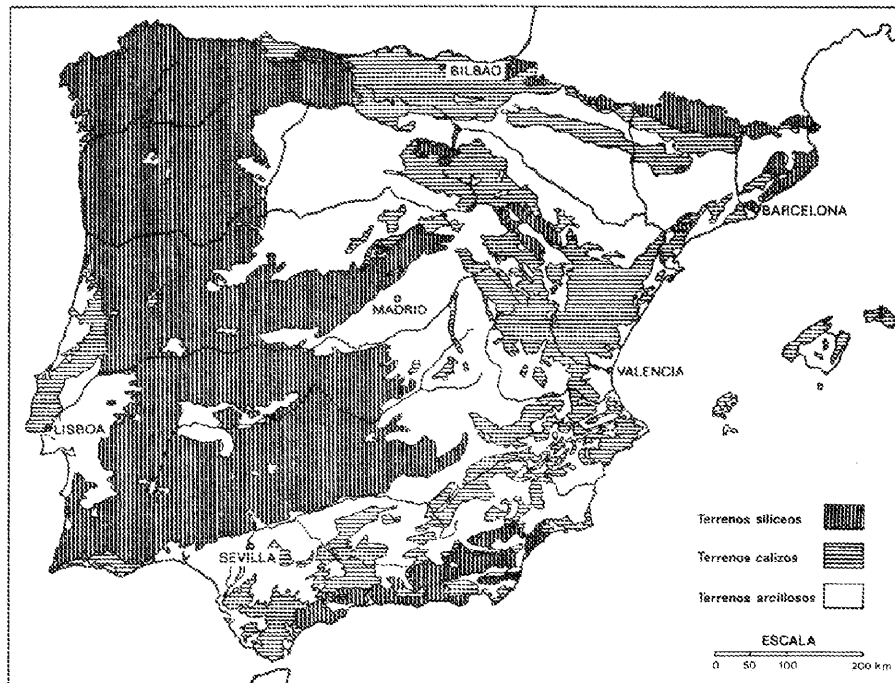
OPCIÓN B

1. Definición de términos geográficos. Defina brevemente los siguientes términos: “trasvase fluvial”, “escala de un mapa”, “presión atmosférica”, “Padrón municipal de habitantes”, “agricultura de subsistencia” y “área metropolitana”.

2. Preguntas breves.

- Diferencias entre ganadería intensiva y extensiva.
- Exponga las características del clima oceánico.

3. Prueba de localización, lectura e interpretación de documentos.





El roquedo de la Península Ibérica.

Observando el mapa de distribución del Roquedo en la Península Ibérica:

- a) describa las características de cada uno de los tipos de terrenos y su localización.
- b) relacione el tipo de terreno predominante con las formas de relieve características en cada uno de ellos.

Los símbolos de la cartela son los siguientes, de más oscuro a más claro y de arriba abajo:

- 1) terrenos silíceos, 2) terrenos calizos y 3) terrenos arcillosos

 03100498		Geografía (F.E.)	
		PRUEBA DE ACCESO A LA UNIVERSIDAD	
	Junio - 2013	Duración: 90min.	MODELO 04
			Hoja: 1 de 2

MODELO: "04"

INSTRUCCIONES GENERALES

**El alumno realizará sólo una de las dos opciones propuestas (A o B).
El alumno no podrá utilizar ningún material.**

Criterios generales de evaluación:

- En las definiciones se valorará, la claridad, la precisión y la brevedad.
- En las preguntas breves, el nivel de desarrollo teórico y la capacidad de síntesis.
- En la práctica, el alumno realizará el análisis e interpretación del gráfico o mapa siguiendo el esquema que se le proponga o su propio criterio si no se le indica otra cosa.

Criterios específicos de corrección:

La puntuación final será el resultado de la suma de las calificaciones de los tres apartados. La valoración de cada uno será como sigue: 3 puntos para la pregunta de 6 definiciones de conceptos, 2 puntos para cada pregunta breve del segundo apartado, total 4 puntos, y 3 puntos para la práctica.

Se tendrá muy en cuenta la ortografía, la corrección sintáctica y la presentación del examen.

OPCIÓN A

1. Definición de términos geográficos. Defina brevemente los siguientes términos: "pliegue", "movimiento pendular", "área periurbana", "latifundio", "combe" y "anticiclón".

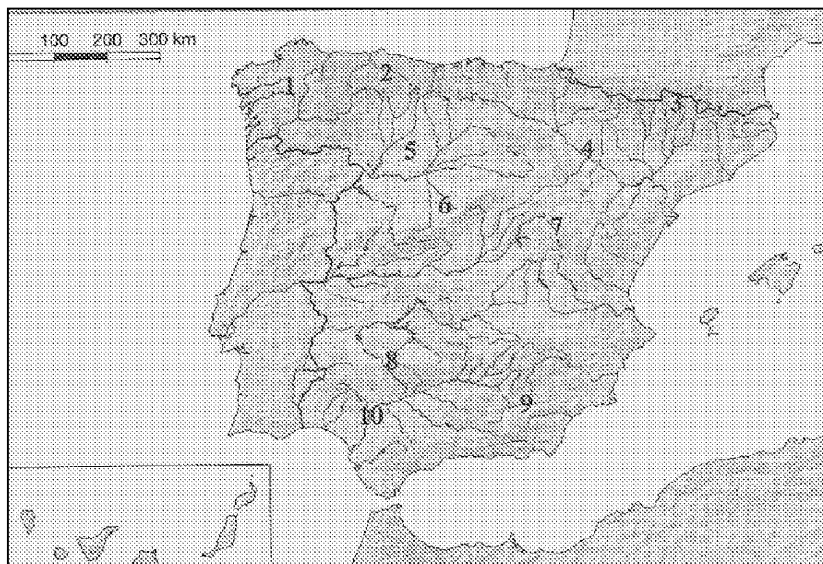
2. Preguntas breves.



- Relación entre vientos y presión atmosférica.
- Características del censo como fuente demográfica.

3. Prueba de localización, lectura e interpretación de documentos.

Observe el mapa adjunto y responda a las siguientes cuestiones

- a) Identifique las unidades de relieve que se han numerado.
- b) Asocie después esas unidades de relieve con las formas de relieve estructurales dominantes que le caracterizan.
- c) ¿Cuáles de ellas se han formado más recientemente?



 03100498		Geografía (F.E.)	
		PRUEBA DE ACCESO A LA UNIVERSIDAD	
	Junio - 2013	Duración: 90min.	MODELO 04
			Hoja: 2 de 2

OPCIÓN B

1. Definición de términos geográficos.

Defina brevemente los siguientes términos: “Emigración”, “Conurbación.”, “Acuífero”, “Falla”, “Gota fría” y “Policultivo”.



2. Preguntas breves.

- Las transformaciones recientes experimentadas por el poblamiento rural.
- ¿Qué fenómenos geológicos tuvieron lugar durante la era terciaria? Explíquelos brevemente.

3. Prueba de localización, lectura e interpretación de documentos.

- a) Cite, de forma consecutiva, las provincias atravesadas por este recorrido imaginario por España, comenzando en A y terminando en B.
- b) Diga las Comunidades Autónomas de las que forman parte dichas provincias.
- c) Señale los principales recursos económicos que poseen las comunidades que acaba de citar.



 03100239		Geografía (F.G.)	
		PRUEBA DE ACCESO A LA UNIVERSIDAD	
	Junio - 2013	Duración: 90min.	MODELO 05
			Hoja: 1 de 2

MODELO: "05"

INSTRUCCIONES GENERALES

El alumno realizará sólo una de las dos opciones propuestas (A o B).
El alumno no podrá utilizar ningún material.
Criterios generales de evaluación:
 - En las definiciones se valorará, la claridad, la precisión y la brevedad.
 - En las preguntas breves, el nivel de desarrollo teórico y la capacidad de síntesis.
 - En la práctica, el alumno realizará el análisis e interpretación del gráfico o mapa siguiendo el esquema que se le proponga o su propio criterio si no se le indica otra cosa.
Criterios específicos de corrección:
 La puntuación final será el resultado de la suma de las calificaciones de los tres apartados. La valoración de cada uno será como sigue: 3 puntos para la pregunta de 6 definiciones de conceptos, 2 puntos para cada pregunta breve del segundo apartado, total 4 puntos, y 3 puntos para la práctica.
 Se tendrá muy en cuenta la ortografía, la corrección sintáctica y la presentación del examen.

OPCIÓN A

1. Definición de términos geográficos. Defina brevemente los siguientes términos: "caladero", "caudal relativo", "Agricultura intensiva", "falla", "barlovento", "envejecimiento demográfico"

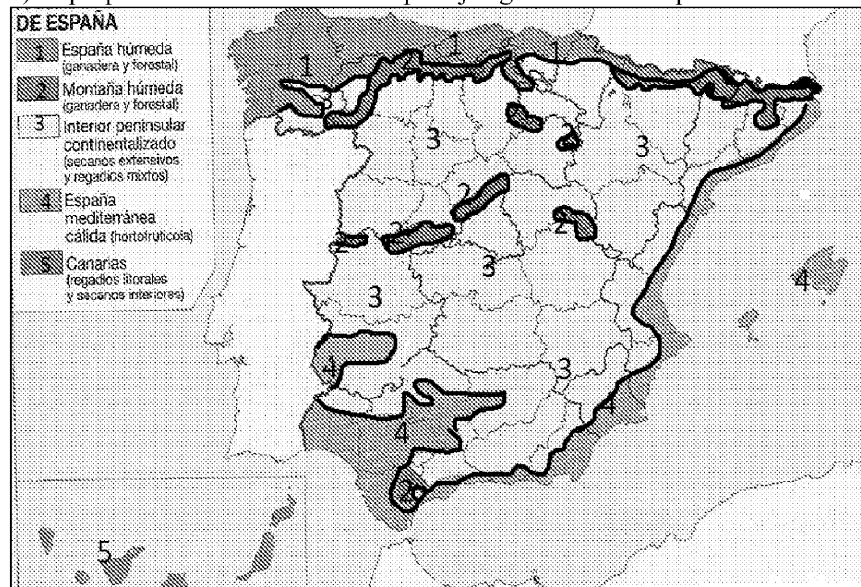
2. Preguntas breves.



- Características del Censo como fuente demográfica
- El relieve del archipiélago canario.

3. Prueba de localización, lectura e interpretación de documentos.

En el mapa adjunto se han representado los principales paisajes agrarios españoles, tras su observación, responda a las siguientes preguntas:

- a) ¿qué se entiende por paisaje agrario?
- b) ¿qué factores intervienen en su formación?
- c) Explique brevemente cómo es el paisaje agrario del norte peninsular.



 03100239		Geografía (F.G.)	
		PRUEBA DE ACCESO A LA UNIVERSIDAD	
	Junio - 2013	Duración: 90min.	MODELO 05
			Hoja: 2 de 2

OPCIÓN B

1. Definición de términos geográficos. Defina brevemente los siguientes términos: “trasvase fluvial”, “escala de un mapa”, “presión atmosférica”, “Censo de población”, “agricultura de subsistencia” y “tasa bruta de mortalidad”.

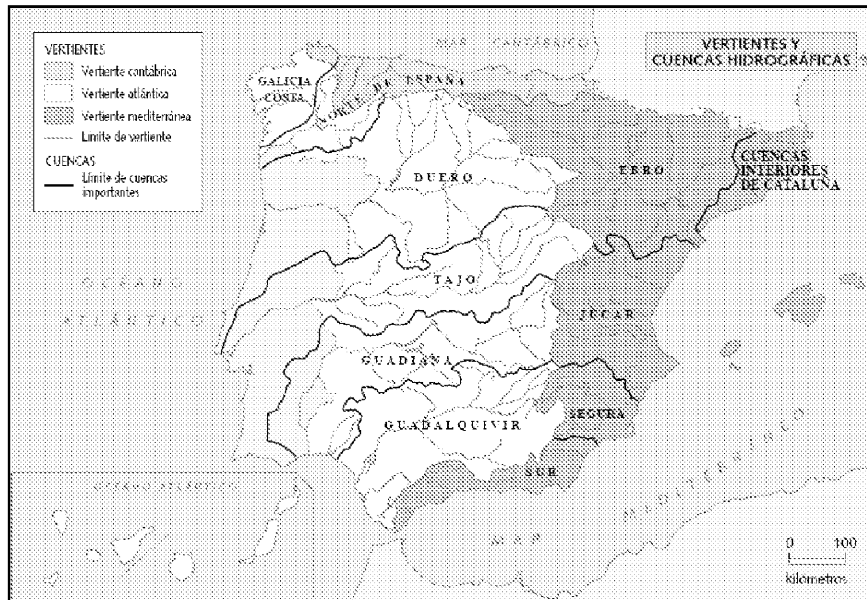
2. Preguntas breves.


- Características del relieve peninsular.
- Las áreas del comercio exterior español.

3. Prueba de localización, lectura e interpretación de documentos.

El mapa adjunto representa las vertientes hidrográficas peninsulares. Haga un comentario teniendo en cuenta:

- a) ¿por qué tiene más extensión la vertiente atlántica que la mediterránea?
- b) ¿por qué, salvo el Ebro, los grandes ríos peninsulares pertenecen a la vertiente atlántica?
- c) ¿qué diferencias se dan entre los ríos de las distintas vertientes, y dentro de ellas, respecto a sus caudales, longitud de recorrido y pendientes?



 03100498		Geografía (F.E.)	
		PRUEBA DE ACCESO A LA UNIVERSIDAD	
	Junio - 2013	Duración: 90min.	MODELO 06
			Hoja: 1 de 2

MODELO: "06"

INSTRUCCIONES GENERALES

El alumno realizará sólo una de las dos opciones propuestas (A o B).
El alumno no podrá utilizar ningún material.
Criterios generales de evaluación:
 - En las definiciones se valorará, la claridad, la precisión y la brevedad.
 - En las preguntas breves, el nivel de desarrollo teórico y la capacidad de síntesis.
 - En la práctica, el alumno realizará el análisis e interpretación del gráfico o mapa siguiendo el esquema que se le proponga o su propio criterio si no se le indica otra cosa.
Criterios específicos de corrección:
 La puntuación final será el resultado de la suma de las calificaciones de los tres apartados. La valoración de cada uno será como sigue: 3 puntos para la pregunta de 6 definiciones de conceptos, 2 puntos para cada pregunta breve del segundo apartado, total 4 puntos, y 3 puntos para la práctica.
 Se tendrá muy en cuenta la ortografía, la corrección sintáctica y la presentación del examen.

OPCIÓN A

1. Definición de términos geográficos. Defina brevemente los siguientes términos: "sinclinal", "barbecho", "escorrentía", "Tasa bruta de mortalidad", "Balance demográfico" y "conurbación".

2. Preguntas breves.

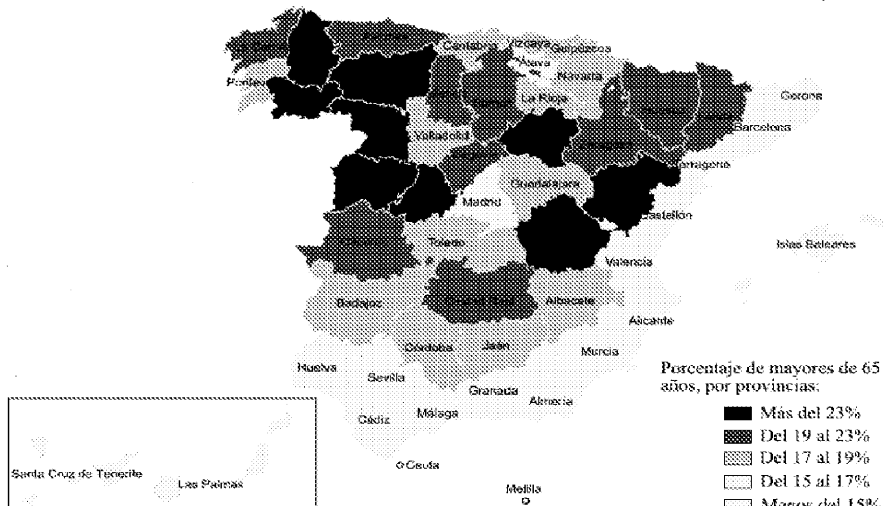
- Repercusiones demográficas del turismo en España
- Relación entre vientos y presión atmosférica.

3. Prueba de localización, lectura e interpretación de documentos.

En el mapa adjunto se ha representado el envejecimiento de la población española por provincias en el 2005. Tras su observación, responda a las siguientes cuestiones:

- a) ¿cuáles son las causas de dicho envejecimiento?
- b) ¿a qué se debe esta distribución provincial?
- c) ¿qué consecuencias tendrá el envejecimiento en las provincias más envejecidas?

ENVEJECIMIENTO DE LA POBLACIÓN ESPAÑOLA (2005)



 03100498		Geografía (F.E.)	
		PRUEBA DE ACCESO A LA UNIVERSIDAD	
	Junio - 2013	Duración: 90min.	MODELO 06
			Hoja: 2 de 2

OPCIÓN B

1. Definición de términos geográficos. Defina brevemente los siguientes términos: “latitud”, “escala de un mapa”, “capa de ozono”, “afluente”, “agricultura intensiva” y “área metropolitana”.

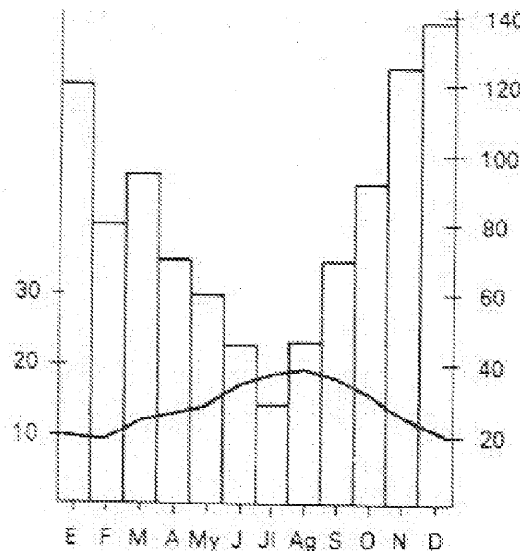
2. Preguntas breves.

- Diferencias entre ganadería intensiva y extensiva.
- Características de la vegetación del clima mediterráneo



3. Prueba de localización, lectura e interpretación de documentos.

El climodiagrama adjunto pertenece al observatorio de una ciudad española, obsérvelo y responda a las siguientes cuestiones:

- ¿a qué tipo de clima pertenece?
- ¿qué características tiene ese clima?
- ¿dónde cree que podría situarse la ciudad de forma aproximada?



El climodiagrama se ha representado de la forma tradicional: las temperaturas se dibujan por una línea cuya escala se halla a la izquierda del dibujo; las precipitaciones se dibujan con un diagrama de barras y cuya escala de valores se encuentra a la derecha del dibujo. En la horizontal se representan los meses del año.

 03100239		Geografía (F.G.)		
		PRUEBA DE ACCESO A LA UNIVERSIDAD		
	Junio - 2013	Duración: 90min.		MODELO 07
				Hoja: 1 de 2

MODELO: "07"

INSTRUCCIONES GENERALES

El alumno realizará sólo una de las dos opciones propuestas (A o B).

El alumno no podrá utilizar ningún material.

Criterios generales de evaluación:

- En las definiciones se valorará, la claridad, la precisión y la brevedad.
- En las preguntas breves, el nivel de desarrollo teórico y la capacidad de síntesis.
- En la práctica, el alumno realizará el análisis e interpretación del gráfico o mapa siguiendo el esquema que se le proponga o su propio criterio si no se le indica otra cosa.

Criterios específicos de corrección:

La puntuación final será el resultado de la suma de las calificaciones de los tres apartados. La valoración de cada uno será como sigue: 3 puntos para la pregunta de 6 definiciones de conceptos, 2 puntos para cada pregunta breve del segundo apartado, total 4 puntos, y 3 puntos para la práctica.

Se tendrá muy en cuenta la ortografía, la corrección sintáctica y la presentación del examen.

OPCIÓN A

1. Definición de términos geográficos. Defina brevemente los siguientes términos: "longitud"; "barlovento"; "tasa de mortalidad"; "humedal"; "crecimiento demográfico" y "área metropolitana".

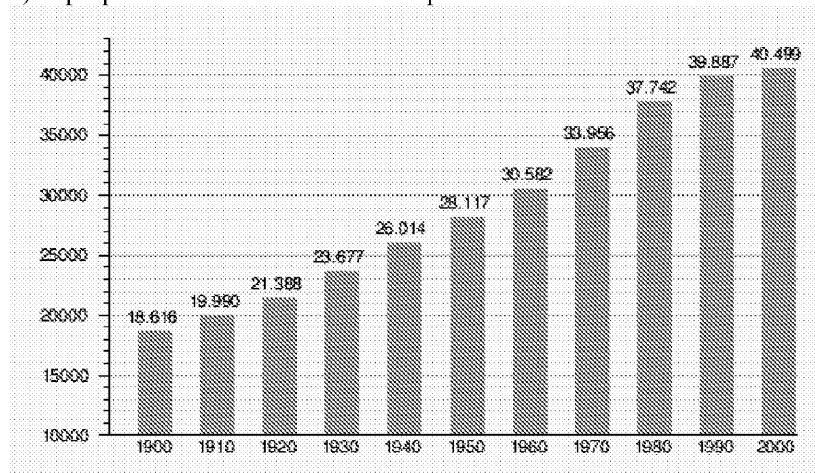
3. Preguntas breves.



- Explique brevemente los factores fundamentales de la morfología urbana.
- El efecto invernadero.

4. Prueba de localización, lectura e interpretación de documentos.

El gráfico adjunto representa la evolución de la población española entre 1900 y 2000, expresada en miles de habitantes. Tras su observación haga un comentario del mismo teniendo en cuenta los siguientes aspectos:

- a) ¿Cómo era la tasa de mortalidad y de natalidad en 1900 y en 1980?
- b) ¿Qué fenómeno demográfico (estudiado mediante un modelo) tuvo lugar en este siglo en España?
- c) Esplique brevemente el modelo al que se hace referencia.



 03100239		Geografía (F.G.)		
		PRUEBA DE ACCESO A LA UNIVERSIDAD		
	Junio - 2013	Duración: 90min.		MODELO 07
				Hoja: 2 de 2

OPCIÓN B

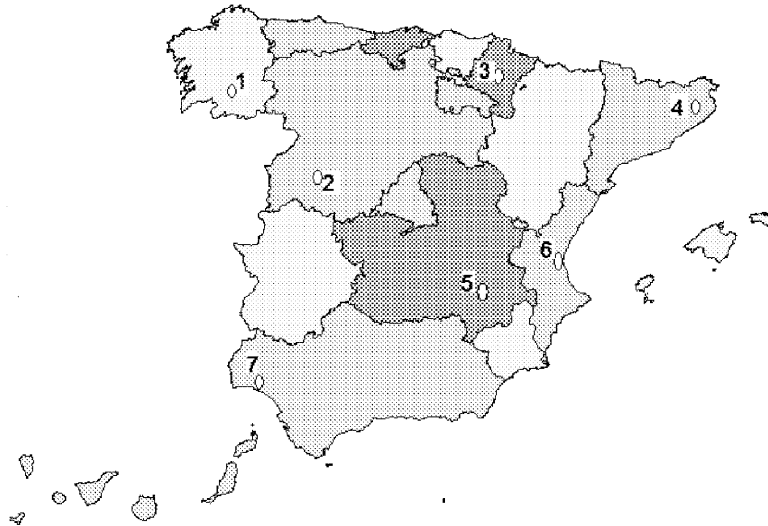
2. Definición de términos geográficos. Defina brevemente los siguientes términos: “trasvase fluvial”, “escala de un mapa”, “presión atmosférica”, “Padrón municipal de habitantes”, “agricultura de subsistencia” y “energías renovables”.



3. Preguntas breves.

- Principales tipos de vegetación arbustiva en la España mediterránea.
- Diga 4 tipos de aglomeraciones urbanas y explíquelas brevemente.

4. Prueba de localización, lectura e interpretación de documentos.

- a) Cite los nombres de las capitales de provincia que aparecen señaladas en el mapa adjunto, según su número de localización.
- b) ¿A qué Comunidades Autónomas pertenecen?
- c) Diga cuál o cuáles de ellas son capitales autonómicas y señale su principal función urbana.



 03100498		Geografía (F.E.)	
		PRUEBA DE ACCESO A LA UNIVERSIDAD	
	Junio - 2013	Duración: 90min.	MODELO 08
			Hoja: 1 de 2

MODELO: "08"

INSTRUCCIONES GENERALES

El alumno realizará sólo una de las dos opciones propuestas (A o B).

El alumno no podrá utilizar ningún material.

Criterios generales de evaluación:

- En las definiciones se valorará, la claridad, la precisión y la brevedad.
- En las preguntas breves, el nivel de desarrollo teórico y la capacidad de síntesis.
- En la práctica, el alumno realizará el análisis e interpretación del gráfico o mapa siguiendo el esquema que se le proponga o su propio criterio si no se le indica otra cosa.

Criterios específicos de corrección:

La puntuación final será el resultado de la suma de las calificaciones de los tres apartados. La valoración de cada uno será como sigue: 3 puntos para la pregunta de 6 definiciones de conceptos, 2 puntos para cada pregunta breve del segundo apartado, total 4 puntos, y 3 puntos para la práctica.

Se tendrá muy en cuenta la ortografía, la corrección sintáctica y la presentación del examen.

OPCIÓN A

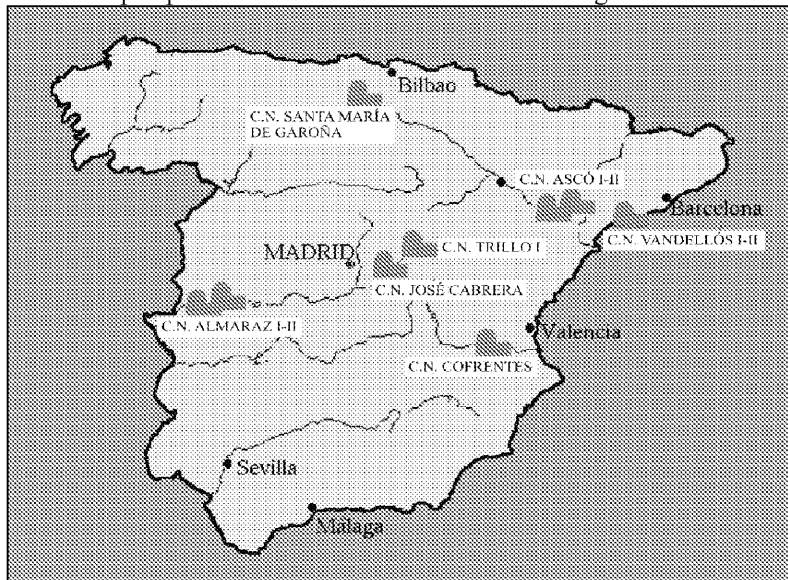
1. Definición de términos geográficos. Defina brevemente los siguientes términos: "bosque caducifolio", "solsticio", "escala de un mapa", "Éxodo rural", "latitud" y "área metropolitana".



2. Preguntas breves.

- Características del clima de Canarias.
- Las áreas turísticas de alta densidad en España.

3. Prueba de localización, lectura e interpretación de documentos. El mapa adjunto muestra las centrales nucleares que hay en España. A la vista del mismo comenta:

- a) su distribución geográfica.
- b) ¿Cómo genera energía una central nuclear? ¿Sabrías decir qué potencia suman y qué porcentaje de energía aportan a la red eléctrica nacional?
- c) ¿Cuáles son las perspectivas de futuro de esta clase de energía?



 03100498		Geografía (F.E.)	
		PRUEBA DE ACCESO A LA UNIVERSIDAD	
	Junio - 2013	Duración: 90min.	MODELO 08
			Hoja: 2 de 2

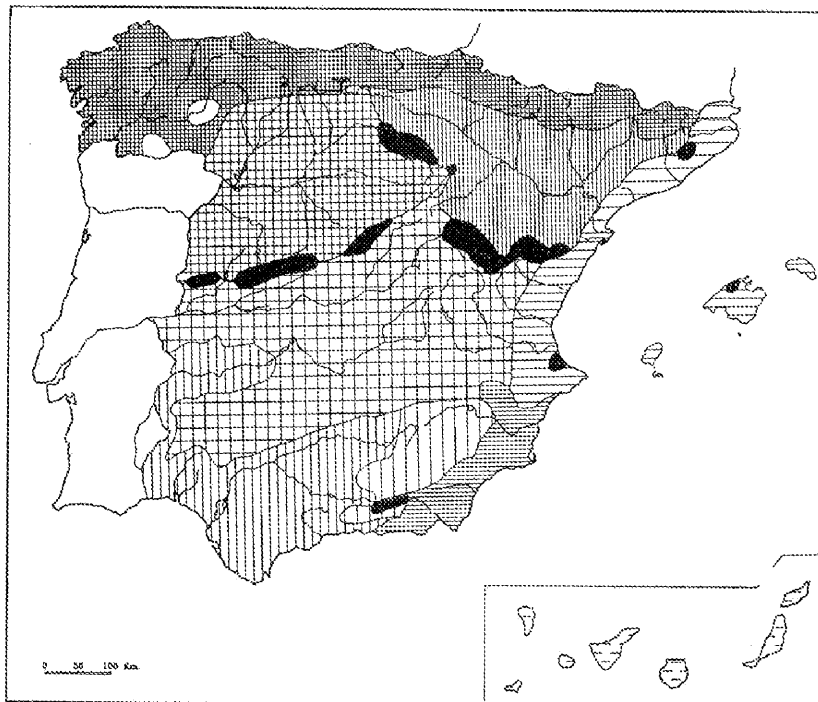
OPCIÓN B

1. Definición de términos geográficos. Defina brevemente los siguientes términos: “trasvase fluvial”, “escala de un mapa”, “presión atmosférica”, “Padrón municipal de habitantes”, “agricultura de subsistencia” y “conurbación”.

2. Preguntas breves.

- Diferencias entre ganadería intensiva y extensiva.
- Principales riesgos naturales de origen geológico en España.


3. Prueba de localización, lectura e interpretación de documentos.



Observe el mapa adjunto y localice en él los siguientes climas:

1. Clima fresco-frío de las llanuras del Duero
2. Clima fresco de las montañas y cuencas ibéricas
3. Clima costero valenciano - balear
4. Clima oceánico
5. Clima cálido-seco de margen tropical

En la hoja de respuesta ponga una cartela con la trama que le corresponde en el mapa, y describa, brevemente, sus principales rasgos.

 03100239		Geografía (F.G.)		
		PRUEBA DE ACCESO A LA UNIVERSIDAD		
	Junio - 2013	Duración: 90min.		MODELO 11
				Hoja: 1 de 2

MODELO: "11"

INSTRUCCIONES GENERALES

El alumno realizará sólo una de las dos opciones propuestas (A o B).
El alumno no podrá utilizar ningún material.
Criterios generales de evaluación:
 - En las definiciones se valorará, la claridad, la precisión y la brevedad.
 - En las preguntas breves, el nivel de desarrollo teórico y la capacidad de síntesis.
 - En la práctica, el alumno realizará el análisis e interpretación del gráfico o mapa siguiendo el esquema que se le proponga o su propio criterio si no se le indica otra cosa.
Criterios específicos de corrección:
 La puntuación final será el resultado de la suma de las calificaciones de los tres apartados. La valoración de cada uno será como sigue: 3 puntos para la pregunta de 6 definiciones de conceptos, 2 puntos para cada pregunta breve del segundo apartado, total 4 puntos, y 3 puntos para la práctica.
 Se tendrá muy en cuenta la ortografía, la corrección sintáctica y la presentación del examen.

OPCIÓN A

1. Definición de términos geográficos. Defina brevemente los siguientes términos: "bosque caducifolio", "solsticio", "isobara", "Tasa bruta de natalidad", "balance demográfico" y "conurbación".

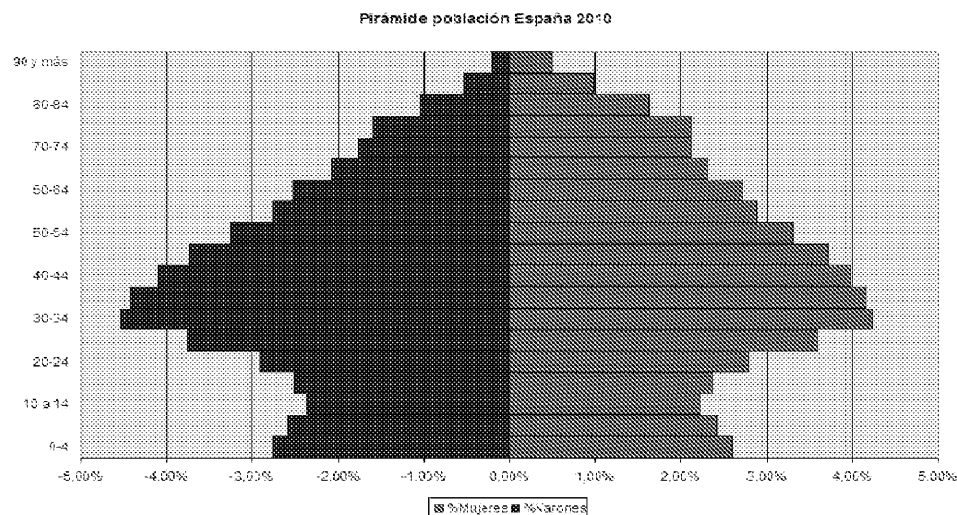
2. Preguntas breves.



- ¿En qué consiste el efecto föhn o foehn? Explíquelo detalladamente.
- Explique en qué consiste el modelo de transición demográfica.

3. Prueba de localización, lectura e interpretación de documentos.

La pirámide de población adjunta representa la estructura de la población de España en 2010. Haga un comentario teniendo en cuenta estas cuestiones:

- a) ¿Qué forma tiene la pirámide? Explique su estructura por sexo y edad.
- b) ¿Cuáles son las causas de la reducción y posterior aumento de la base de la pirámide?
- c) ¿Cuál es la tendencia de la población española, al rejuvenecimiento o al envejecimiento?



 03100239		Geografía (F.G.)	
		PRUEBA DE ACCESO A LA UNIVERSIDAD	
	Junio - 2013	Duración: 90min.	MODELO 11
			Hoja: 2 de 2

OPCIÓN B

1. Definición de términos geográficos. Defina brevemente los siguientes términos: “rotación”, “escala de un mapa”, “isohipsa”, “Plano irregular”, “ciudad jardín” y “globalización”.

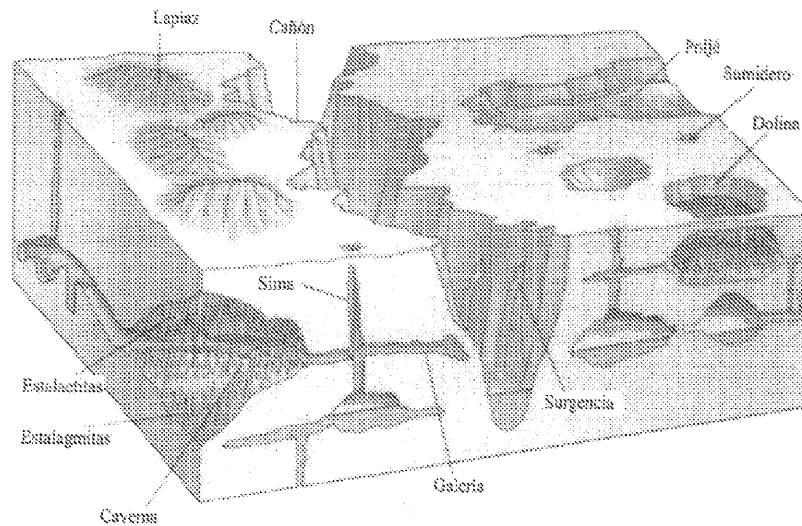
2. Preguntas breves.


- El relieve de las islas Canarias.
- Consecuencias demográficas y económicas de la inmigración.

3. Prueba de localización, lectura e interpretación de documentos.

Analice y comente el siguiente bloque-diagrama, respondiendo a las siguientes cuestiones:

- 1) ¿qué tipo de relieve representa y qué proceso ha seguido para su formación?
- 2) ¿qué diferencias hay entre dolina, uvala, polje y sima?
- 3) ¿recuerda algún ejemplo de este tipo de relieve en España?



 03100498		Geografía (F.E.)	
		PRUEBA DE ACCESO A LA UNIVERSIDAD	
	Junio - 2013	Duración: 90min.	MODELO 12
			Hoja: 1 de 2

MODELO: "12"

INSTRUCCIONES GENERALES

El alumno realizará sólo una de las dos opciones propuestas (A o B).
El alumno no podrá utilizar ningún material.
Criterios generales de evaluación:
- En las definiciones se valorará, la claridad, la precisión y la brevedad.
- En las preguntas breves, el nivel de desarrollo teórico y la capacidad de síntesis.
- En la práctica, el alumno realizará el análisis e interpretación del gráfico o mapa siguiendo el esquema que se le proponga o su propio criterio si no se le indica otra cosa.
Criterios específicos de corrección:
La puntuación final será el resultado de la suma de las calificaciones de los tres apartados. La valoración de cada uno será como sigue: 3 puntos para la pregunta de 6 definiciones de conceptos, 2 puntos para cada pregunta breve del segundo apartado, total 4 puntos, y 3 puntos para la práctica.
Se tendrá muy en cuenta la ortografía, la corrección sintáctica y la presentación del examen.

OPCIÓN A

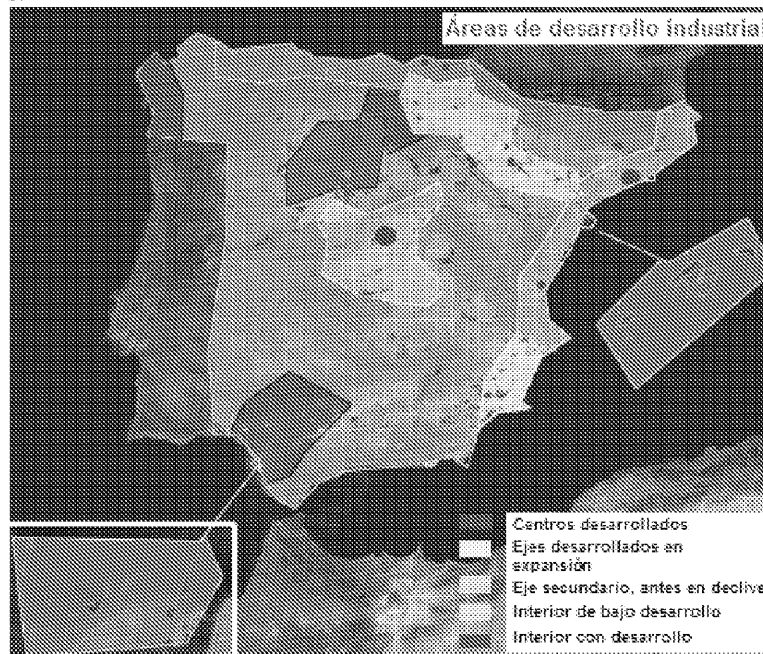
1. Definición de términos geográficos. Defina brevemente los siguientes términos: "bosque perennifolio", "equinoccio", "isohipsa", "Tasa bruta de mortalidad", "Envejecimiento demográfico" y "Padrón municipal".



2. Preguntas breves.

- ¿En qué consiste el efecto föhn o foehn? Explíquelo detalladamente
- Consecuencias demográficas y económicas de la inmigración.

3. Prueba de localización, lectura e interpretación de documentos.

Comente el siguiente mapa, diferenciando las distintas áreas de desarrollo industrial en nuestro país.



 03100498		Geografía (F.E.)		
		PRUEBA DE ACCESO A LA UNIVERSIDAD		
	Junio - 2013	Duración: 90min.		MODELO 12
				Hoja: 2 de 2

OPCIÓN B

1. Definición de términos geográficos. Defina brevemente los siguientes términos: “traslación”, “escala de un mapa”, “isoterma”, “Plano ortogonal”, “tasa de dependencia” y “globalización”.

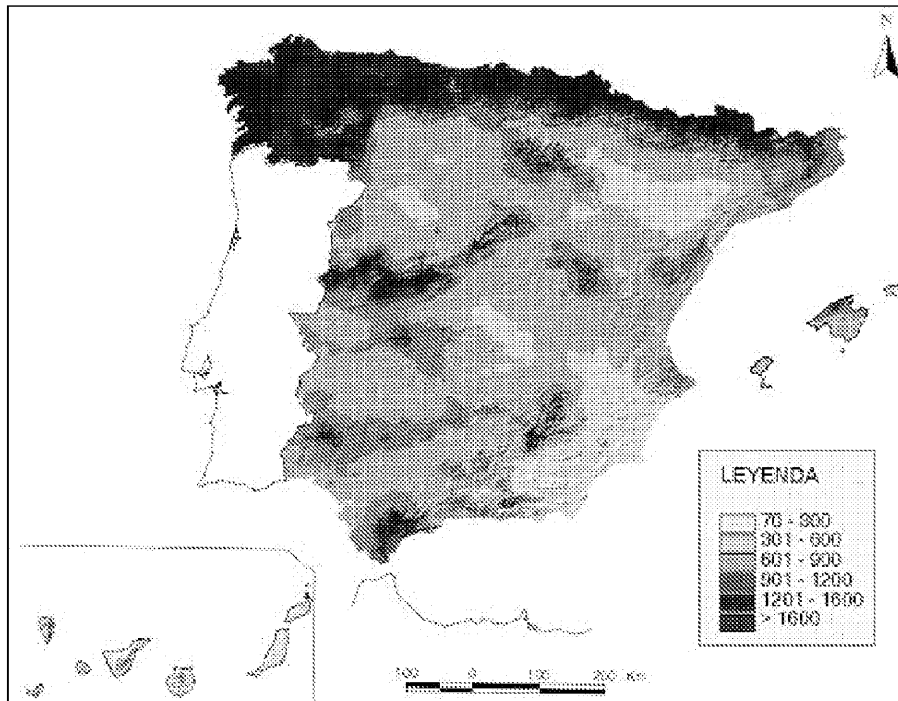
2. Preguntas breves.



- El relieve de las islas Baleares.
- Explique en qué consiste el modelo de transición demográfica.

3. Prueba de localización, lectura e interpretación de documentos.

A la vista del mapa de precipitaciones adjunto, expresadas en l/m^2 responda a las siguientes cuestiones:

- a) Explique las causas de las máximas precipitaciones,
- b) Explique las causas de las mínimas precipitaciones y
- c) ¿A qué tipo de clima le corresponde cada una de esas precipitaciones?



 03100239		Geografía (F.G.)	
		PRUEBA DE ACCESO A LA UNIVERSIDAD	
	Junio - 2013	Duración: 90min.	MODELO 13
			Hoja: 1 de 2

MODELO: "13"

INSTRUCCIONES GENERALES

El alumno realizará sólo una de las dos opciones propuestas (A o B).
El alumno no podrá utilizar ningún material.
Criterios generales de evaluación:
- En las definiciones se valorará, la claridad, la precisión y la brevedad.
- En las preguntas breves, el nivel de desarrollo teórico y la capacidad de síntesis.
- En la práctica, el alumno realizará el análisis e interpretación del gráfico o mapa siguiendo el esquema que se le proponga o su propio criterio si no se le indica otra cosa.
Criterios específicos de corrección:
La puntuación final será el resultado de la suma de las calificaciones de los tres apartados. La valoración de cada uno será como sigue: 3 puntos para la pregunta de 6 definiciones de conceptos, 2 puntos para cada pregunta breve del segundo apartado, total 4 puntos, y 3 puntos para la práctica.
Se tendrá muy en cuenta la ortografía, la corrección sintáctica y la presentación del examen.

OPCIÓN A

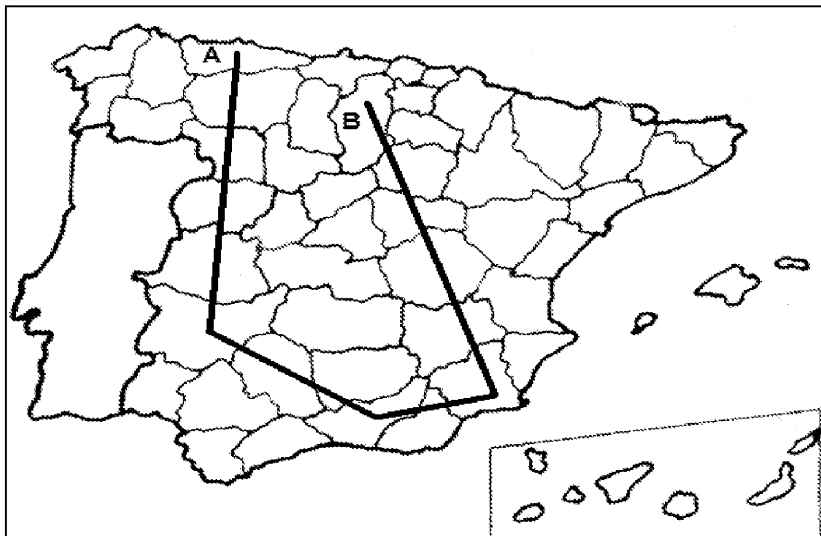
1. Definición de términos geográficos. Defina brevemente los siguientes términos: "bosque perennifolio", "equinoccio", "escala de un mapa", "Éxodo rural", "latitud" y "trashumancia".



2. Preguntas breves.

- Repercusiones demográficas del turismo en España
- ¿En qué consiste el efecto föhn o foehn? Explíquelo razonadamente.

3. Prueba de localización, lectura e interpretación de documentos.

- a) Cite, de forma consecutiva, las provincias atravesadas por este recorrido imaginario por España, comenzando en A y terminando en B.
- b) Diga las Comunidades Autónomas de las que forman parte dichas provincias.
- c) Señale los principales recursos económicos que poseen las comunidades que acaba de citar.



 03100239		Geografía (F.G.)	
		PRUEBA DE ACCESO A LA UNIVERSIDAD	
	Junio - 2013	Duración: 90min.	MODELO 13
			Hoja: 2 de 2

OPCIÓN B

1. Definición de términos geográficos. Defina brevemente los siguientes términos: “trasvase fluvial”, “escala de un mapa”, “presión atmosférica”, “Padrón municipal de habitantes”, “agricultura de subsistencia” y “ciudad dormitorio”.

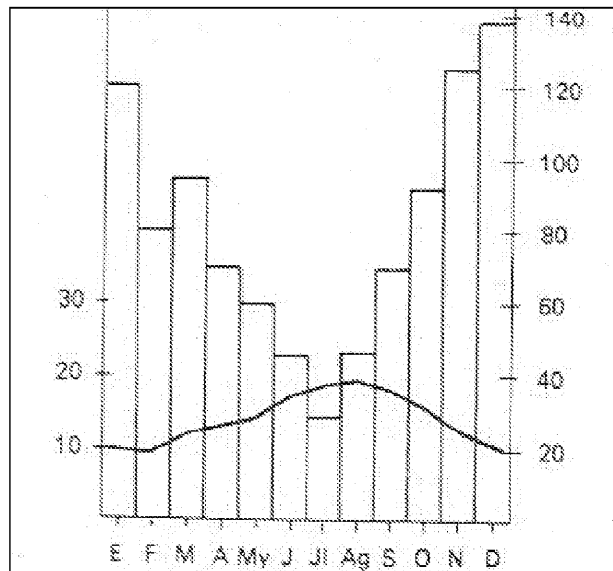
2. Preguntas breves.

- Diferencias entre ganadería intensiva y extensiva.
- Principales riesgos naturales de origen geológico en España.



3. Prueba de localización, lectura e interpretación de documentos.

El climodiagrama adjunto pertenece al observatorio de una ciudad española, obsérvelo y responda a las siguientes cuestiones:

- ¿a qué tipo de clima pertenece?
- ¿qué características tiene ese clima?
- ¿dónde cree que podría situarse la ciudad de forma aproximada?



El climodiagrama se ha representado de la forma tradicional: las temperaturas se dibujan por una línea cuya escala se halla a la izquierda del dibujo; las precipitaciones se dibujan con un diagrama de barras y cuya escala de valores se encuentra a la derecha del dibujo. En la horizontal se representan los meses del año.

 03100498		Geografía (F.E.)		
		PRUEBA DE ACCESO A LA UNIVERSIDAD		
	Junio - 2013	Duración: 90min.		MODELO 14
				Hoja: 1 de 2

MODELO: "14"

INSTRUCCIONES GENERALES

El alumno realizará sólo una de las dos opciones propuestas (A o B).
El alumno no podrá utilizar ningún material.
Criterios generales de evaluación:
 - En las definiciones se valorará, la claridad, la precisión y la brevedad.
 - En las preguntas breves, el nivel de desarrollo teórico y la capacidad de síntesis.
 - En la práctica, el alumno realizará el análisis e interpretación del gráfico o mapa siguiendo el esquema que se le proponga o su propio criterio si no se le indica otra cosa.
Criterios específicos de corrección:
 La puntuación final será el resultado de la suma de las calificaciones de los tres apartados. La valoración de cada uno será como sigue: 3 puntos para la pregunta de 6 definiciones de conceptos, 2 puntos para cada pregunta breve del segundo apartado, total 4 puntos, y 3 puntos para la práctica.
 Se tendrá muy en cuenta la ortografía, la corrección sintáctica y la presentación del examen.

OPCIÓN A

1. Definición de términos geográficos. Defina brevemente los siguientes términos: "latitud", "escala de un mapa", "capa de ozono", "afluente", "agricultura intensiva" y "área suburbana".

2. Preguntas breves.

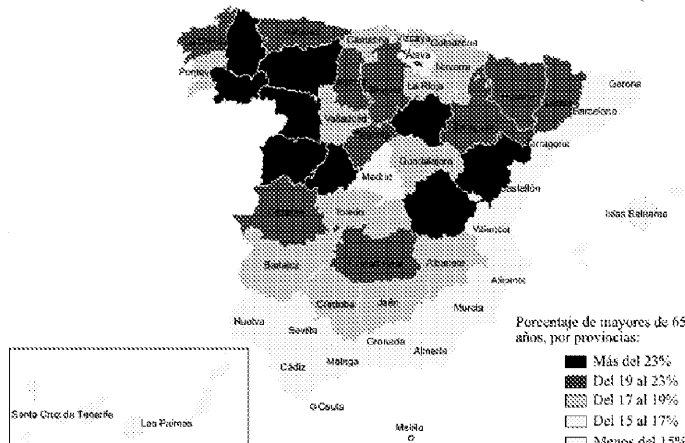
- El efecto invernadero.
- Principales características del sector terciario en España.



3. Prueba de localización, lectura e interpretación de documentos.

En el mapa adjunto se ha representado el envejecimiento de la población española por provincias en el 2005. Tras su observación, responda a las siguientes cuestiones:

- a) ¿cuáles son las causas de dicho envejecimiento?
- b) ¿a qué se debe esta distribución provincial?
- c) ¿qué consecuencias tendrá el envejecimiento en las provincias más envejecidas?

ENVEJECIMIENTO DE LA POBLACIÓN ESPAÑOLA (2005)



 03100498		Geografía (F.E.)		
		PRUEBA DE ACCESO A LA UNIVERSIDAD		
	Junio - 2013	Duración: 90min.		MODELO 14
				Hoja: 2 de 2

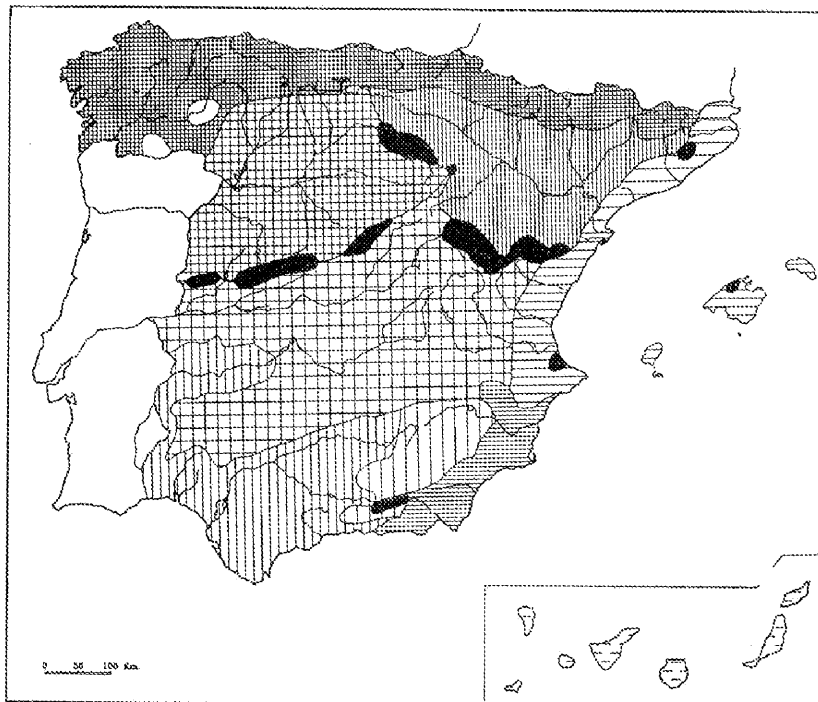
OPCIÓN B

1. Definición de términos geográficos. Defina brevemente los siguientes términos: “nomadismo”, “cliserie”, “esperanza de vida”, “escala de un mapa”, “éxodo rural” y “longitud”.

2. Preguntas breves.

- Las áreas turísticas de alta densidad en España.
- Principales características del relieve peninsular.

3. Prueba de localización, lectura e interpretación de documentos.



Observe el mapa adjunto y localice en él los siguientes climas:

1. Clima fresco-frío de las llanuras del Duero
2. Clima fresco de las montañas y cuencas ibéricas
3. Clima costero valenciano - balear
4. Clima oceánico
5. Clima cálido-seco de margen tropical

En la hoja de respuesta ponga una cartela con la trama que le corresponde en el mapa, y describa, brevemente, sus principales rasgos.