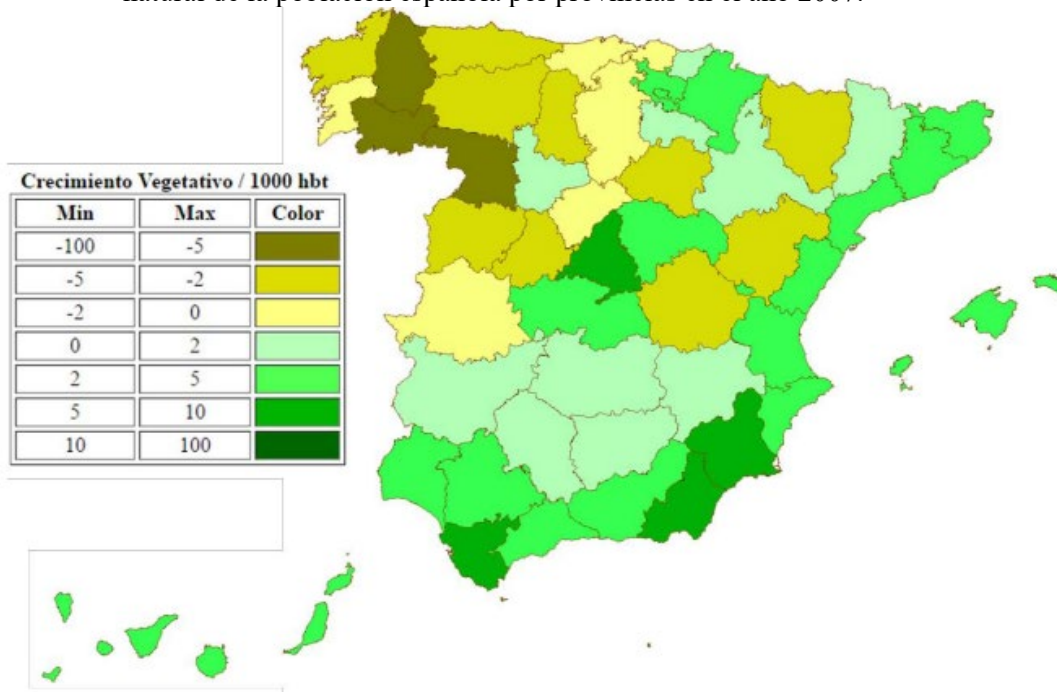


EJERCICIOS DEL TEMA 5. POBLACIÓN ESPAÑOLA

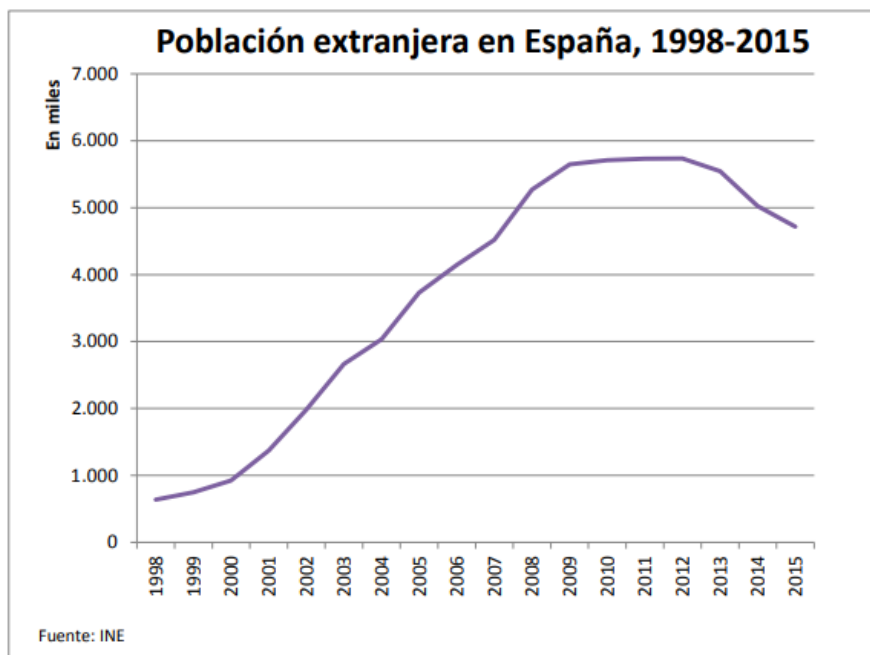
1. A partir del mapa que aparece a continuación, analice y comente: la tasa del crecimiento natural de la población española por provincias en el año 2007.



2. A la vista del mapa de España sobre el saldo migratorio por Comunidades autónomas analiza las migraciones recientes en España.



3. Observe el gráfico de la población extranjera en España y conteste a las preguntas 3 y 4:
 3. Defina con precisión el concepto de saldo migratorio.
 4. Comente el gráfico explicando, brevemente, las principales causas de la evolución del número de inmigrantes durante la última década.



Fuente: Instituto Nacional de Estadística (España).

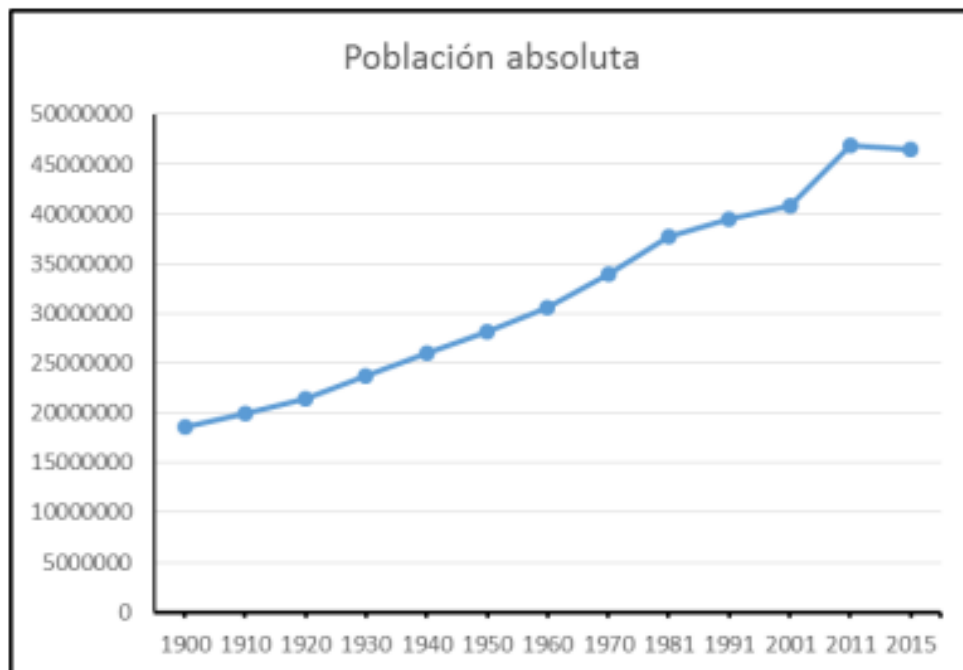
4. Comentar, respondiendo a las preguntas planteadas, la tabla siguiente, referida al número de extranjeros residentes en Illes Balears según el país de origen.

ILLES BALEARS	2013	2008	2003	1998
TOTAL DE POBLACIÓN INMIGRADA	224406	223036	126505	38236
Alemania	30049	33208	22905	10362
Argentina	8427	12328	9148	1041
Bolivia	5423	8298	767	26
Bulgaria	8514	7985	2456	63
Colombia	7898	9965	8464	220
Ecuador	9176	13538	11937	42
Francia	7978	7876	5893	3157
Marruecos	24696	20625	12650	2834
Reino Unido	21934	22055	13714	7865
Rumanía	13704	10330	1414	70
Senegal	4056	2593	1130	247
Otros orígenes	82551	74235	36027	12309

Fuente: Ibestat

- 1- ¿Cuál ha sido la evolución general del número de extranjeros residentes en Illes Balears a lo largo del período 1998-2013?
- 2- ¿Cuáles son los principales países de origen de los residentes extranjeros?
- 3- ¿Qué grandes grupos de origen por continentes o áreas económicas se pueden establecer entre los inmigrantes?
- 4- ¿Ha habido una evolución diferente a lo largo de los años reseñados en la tabla según se trate de inmigrantes de una u otra procedencia?

5. Comente el siguiente gráfico de evolución de la población en España (1900 – 2015), respondiendo a las siguientes cuestiones:
- 1.- Evolución de la población en España.
 - 2.- Factores que influyen en el crecimiento demográfico a lo largo del siglo XX.
 - 3.- Factores que influyen en el estancamiento 2011-2015.



6. A la vista de la siguiente pirámide de edades de España (2016):
- a) Describe su aspecto general y destaca las incidencias más notables de su estructura.
 - b) Realiza una valoración de la situación demográfica de España que refleja esta pirámide de edades.
 - c) Define los siguientes Términos Geográficos: Envejecimiento Demográfico, Inmigración y Tasa de Mortalidad Infantil

