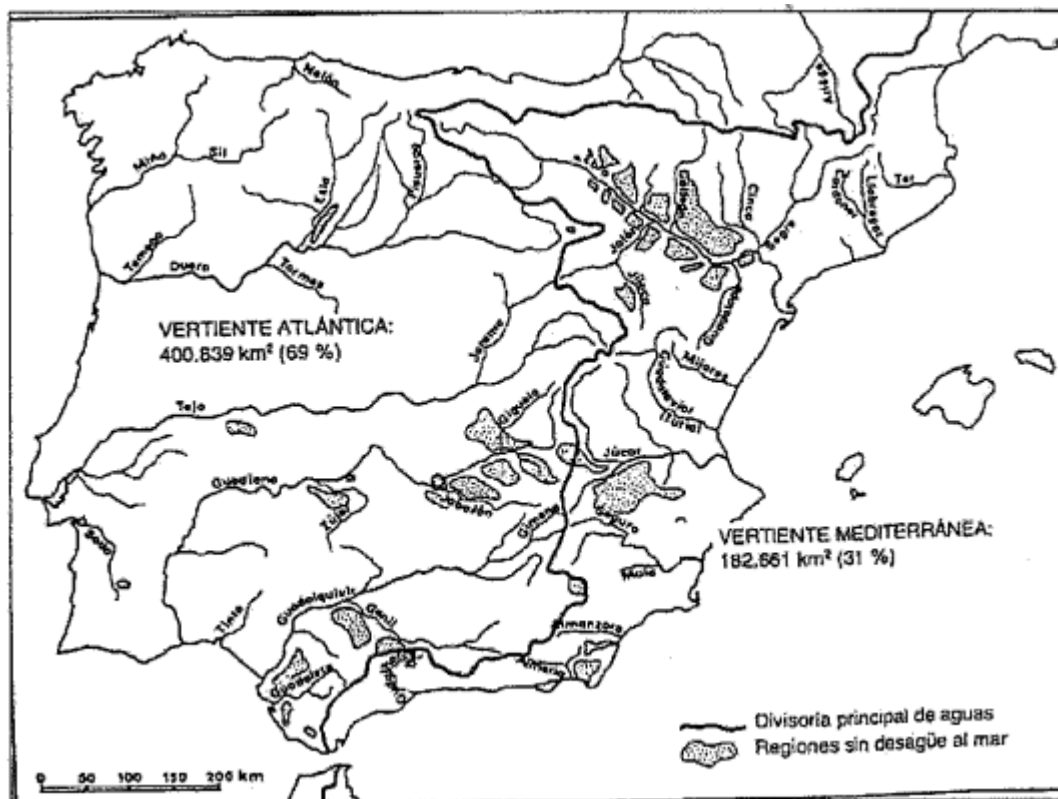


EJERCICIOS DEL TEMA 3. DIVERSIDAD HÍDRICA Y BIOGEOGRÁFICA

1. Este mapa representa la divisoria de aguas entre la vertiente atlántica y la mediterránea. A la vista del mismo responda a las siguientes cuestiones:
 - A. Cite las Comunidades Autónomas, con sus provincias correspondientes, que tienen parte o todo su territorio en la vertiente mediterránea
 - B. Enumere las cuatro cuencas más importantes de la vertiente atlántica citando los relieves montañosos que las delimitan
 - C. Comente las características de los ríos de la vertiente mediterránea



2. Localice sobre el mapa disponible en el documento anexo las cordilleras que definen los límites de las cuencas hidrográficas de los ríos: (1) Miño, (2) Tago, (3) Guadiana, (4) Segura, (5) Júcar y (6) Ebro.
 - Identifique qué unidades morfoestructurales de las indicadas son consideradas como cordilleras alpinas exteriores a la meseta.
 - Basándose en el mapa del documento 1 describa los principales factores que explican las diferencias en el caudal absoluto de los ríos españoles, señalando ejemplos concretos.
 - Describa y explique las principales razones de los cambios en el caudal absoluto desde la cabecera hasta la desembocadura en el caso de los ríos Ebro, Júcar y Segura.
 - Explique los principales factores que determinan el régimen de los ríos peninsulares.



Figura 1 Fuente: <http://www.ign.es> España a través de los mapas

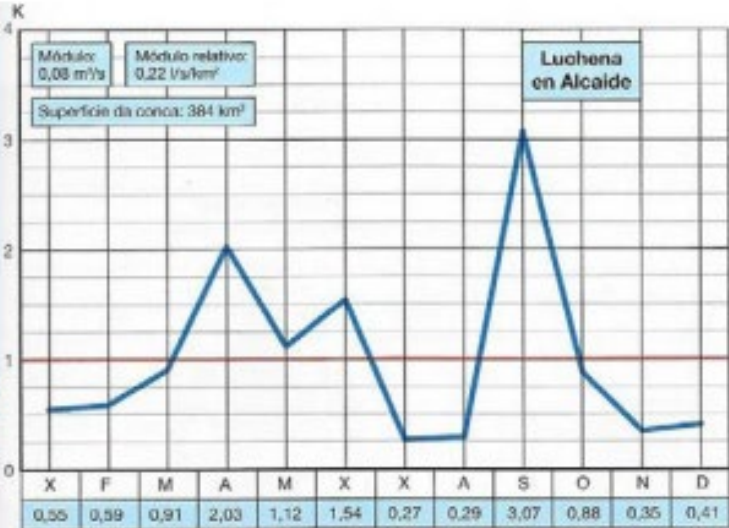
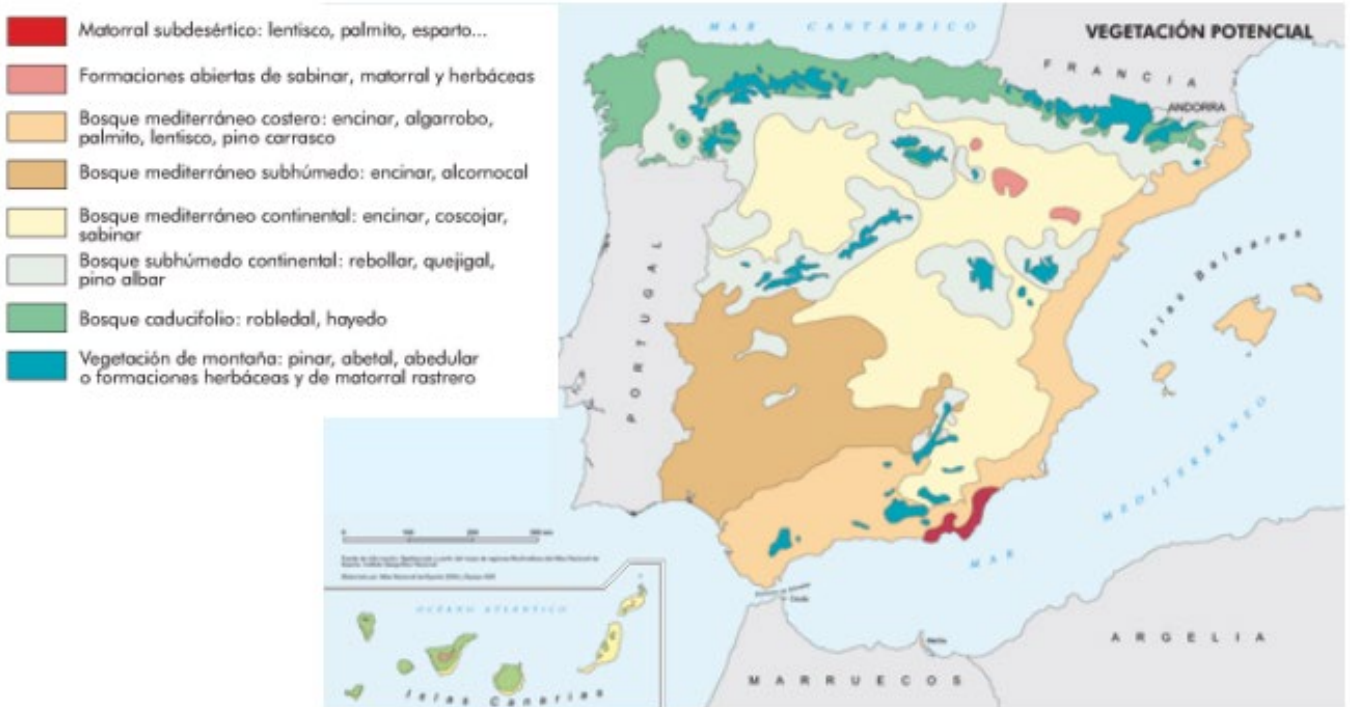


Figura 2 Fuente: ANAYA

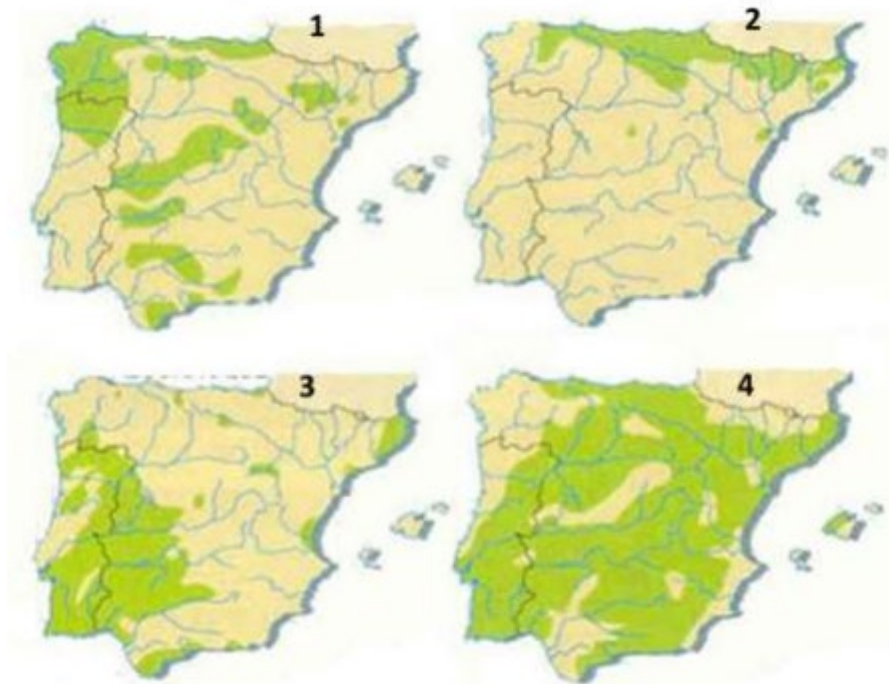
5. Observe el mapa de formaciones vegetales potenciales y conteste a las preguntas 1 y 2.

1. Describa los principales rasgos de los bosques caducifolios y comente ordenadamente su distribución en la Península así como los principales factores que la explican.
2. Explique qué son los pisos bioclimáticos. Con el apoyo del mapa, indique en qué zonas de la Península se reconocen con mayor claridad y por qué.



Fuente: Instituto Geográfico Nacional. España a través de los mapas.

6. a) Utilizando como referencia los números, identifique las cuatro especies forestales representadas
- b) ¿Qué requisitos térmicos y edáficos explican la distribución de la señalada con el número 3?



7. Localizar en el mapa adjunto tres áreas con predominio de vegetación mediterránea y dos áreas en dónde predomine vegetación eurosiberiana. (Identificar los elementos que se solicitan, señalarlos en el mapa coloreándolos o con símbolos convencionales y con el nombre localizado sobre el área. Añadir la leyenda y alguna nota explicativa breve en el rectángulo en blanco).

