

FICHA 13 EJERCICIOS PRÁCTICOS III

1. Conteste al tipo test:

1. ¿Qué opción se ajusta más a la definición de paisaje cultural?
 - a) es el paisaje que los pintores plasman en sus cuadros
 - b) es la expresión fisonómica de la superficie terrestre como resultado de la interacción de la actividad humana con los elementos del medio físico
 - c) es aquel que se cultiva

2. es un mapa de escala 1/100000 la distancia en línea recta que separa dos ciudades es de 22.5 cm ¿Cuál es la distancia real, en línea recta, entre ambas ciudades?
 - a) 2250 metros
 - b) 225 metros
 - c) 22500 metros

3. las regiones de litología son muy frecuentes en España, especialmente en
 - a) Galicia
 - b) Extremadura
 - c) En las cordilleras de plegamiento de edad alpina

4. la gota fría es un fenómeno meteorológico
 - a) exclusivo de las costas mediterráneas
 - b) que provoca un descenso generalizado de las temperaturas (gota fría)
 - c) caracterizado por el embolsamiento de aire frío en las capas altas de la atmósfera que puede originar precipitaciones muy intensas, aunque no siempre

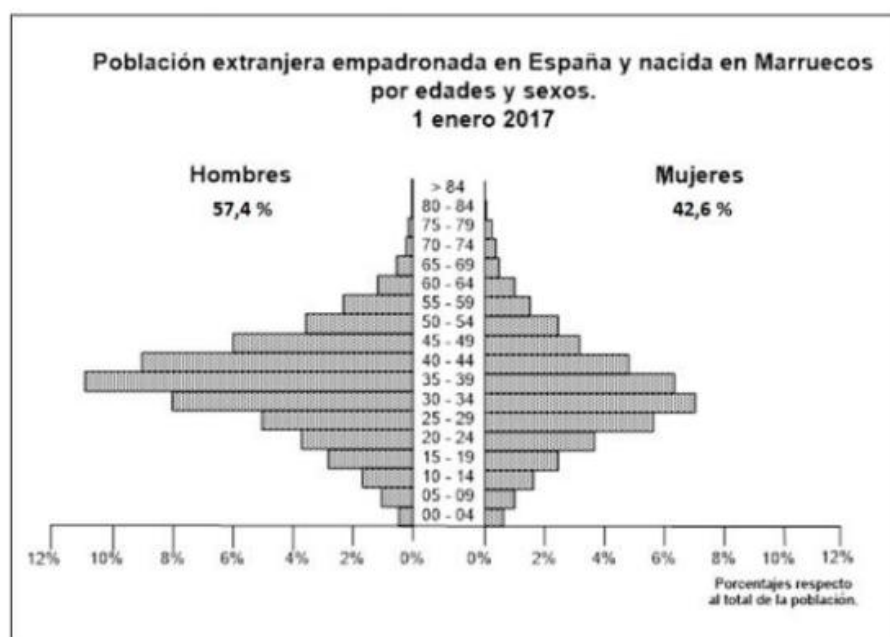
5. ¿qué representa una isoterma en un mapa?
 - a) los puntos con el mismo valor de calor
 - b) los puntos con el mismo grado de temperatura
 - c) los puntos con igual valor de altitud

6. el alcornoque (*quercus suber*) es un árbol típico del clima mediterráneo
 - a) No, es del clima oceánico porque tiene elevadas necesidades de humedad
 - b) especialmente se localiza en el sudeste peninsular
 - c) su región de máximo desarrollo se encuentra en Extremadura

7. Los mares mesozoicos dejaron sedimentos en toda España

- a) Sí, excepto en Canarias que no hay sedimentos de origen marino de esa edad
- b) solo en las áreas más próximas a las costas
- c) los mares mesozoicos llegaron a cubrir, total o parcialmente, la mitad oriental de la actual España peninsular hasta aproximadamente el meridiano que pasa por Segovia
8. La tendencia de la tasa de mortalidad general, en España, es en los últimos años de
- a) Incremento año tras año por el envejecimiento de la población
- b) Incremento año tras año por el descenso de la natalidad
- c) Descenso por el incremento del nivel de vida
9. La mayor amplitud térmica que podemos encontrar en España se localiza en
- a) En la llanura levantina, concretamente entre Valencia y Gandía
- b) en toda la submeseta norte, concretamente en la provincia de Soria
- c) en la submeseta sur, concretamente en el nordeste de la provincia de Albacete
10. el paroxismo de la orogenia alpina, en la Península, se produjo
- a) a finales de la era mesozoica, en algunas regiones, en otras antes de esa era
- b) durante la era paleozoica, excepto en el sur de la Península que se produjo a mediados de la era mesozoica
- c) a mediados del Terciario, e incluso, en los primeros momentos del Plioceno en algunos sectores del sudeste peninsular

2. A partir de la siguiente pirámide de población realice un comentario y explique las posibles razones de esta distribución por edad y sexo de la población de Marruecos empadronada en España.

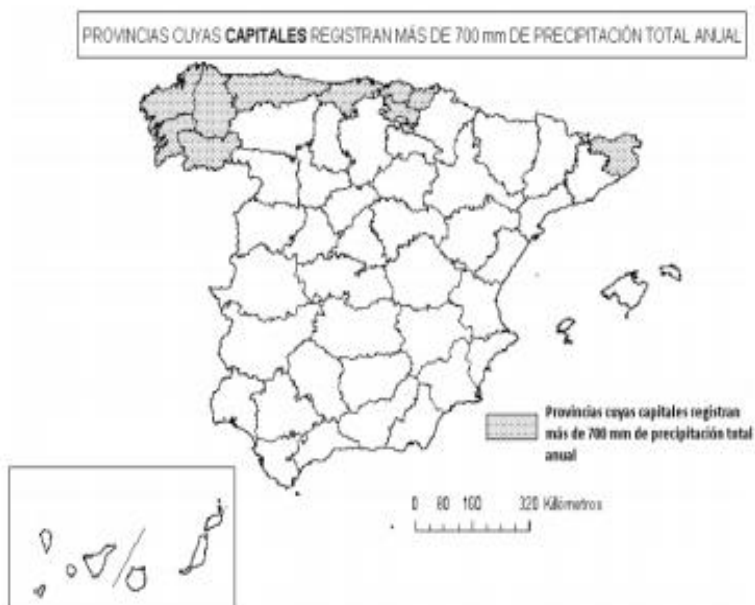


3. A la vista del mapa adjunto, **“Provincias en las que el riesgo de desertificación alto y muy alto afecta a más del 30% de su superficie (media nacional 17,85%)”**, indique el nombre de las provincias “tramadas”, y señale algunas de las explicaciones de este hecho.



FUENTE: PROGRAMA DE ACCIÓN NACIONAL CONTRA LA DESERTIFICACIÓN. MINISTERIO DE MEDIO AMBIENTE, MEDIO RURAL Y MARINO, 2008.

4. A la vista del mapa adjunto, **“Provincias cuyas capitales registran más de 700 mm de precipitación total anual”**, indique el nombre de cada capital de provincia y argumente las posibles razones de estas precipitaciones.

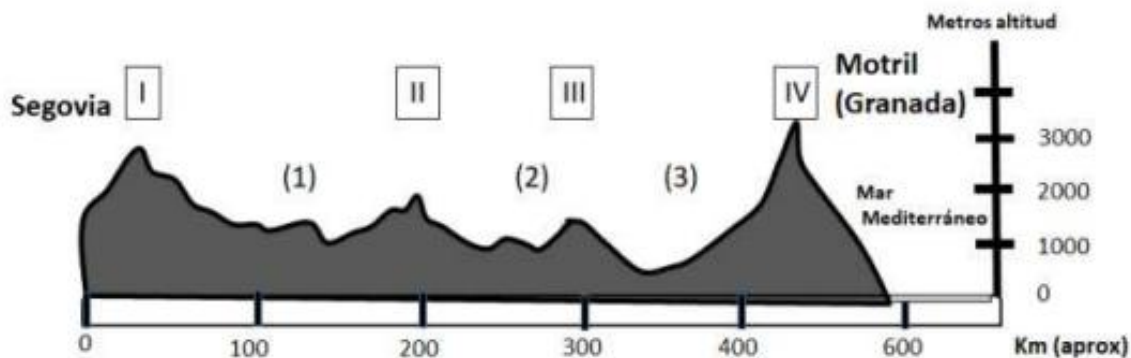


5. A la vista del “Mapa Provincial” indique las provincias tramadas y señale las unidades de relieve que forman parte del área definida.



6. Comente el siguiente perfil entre Segovia y Motril (Granada), señalando el nombre y los principales rasgos geológicos que caracterizan los sistemas montañosos I, II, III, y IV, y las cuencas hidrográficas 1,2 y 3

PERFIL TOPOGRÁFICO ESQUEMÁTICO SEGOVIA – MOTRIL (GRANADA)



7. A la vista del mapa adjunto, **“Provincias con más de 10.000 hectáreas de cultivo de especies frutales (2012)”**, indique el nombre de las provincias; señale las razones que explican esta distribución y comente algunas consecuencias territoriales y económicas emanadas de este hecho.

