

Criterios generales de corrección

Los criterios generales de evaluación de la prueba son los siguientes:



- En **las preguntas breves**: precisión y capacidad de relación.
- En **las definiciones**: precisión, claridad y brevedad.
- En **la práctica**: el análisis y la interpretación concisa del gráfico o mapa de que se trate, así como la localización y enumeración correcta de los aspectos geográficos interrogados.

Como criterios generales de corrección hay que señalar también, que la calificación final será el resultado de sumar las notas parciales de los tres apartados señalados. Las preguntas breves se valorarán con 4 puntos, 2 para cada una. Las definiciones de concepto, como serán 6, su valor será de 3 puntos, es decir, 0,5 cada una. La práctica se evaluará también sobre 3 puntos, de esa forma la puntuación total será de 10 puntos.

En el ejercicio, se tendrán en cuenta específicamente la facilidad de expresión, el uso correcto de los términos y conceptos geográficos, así como la corrección del idioma, en síntesis:

- a) La corrección sintáctica.
- b) La corrección ortográfica.
- c) La propiedad léxica.
- d) La presentación adecuada.

Si el alumno obtuviese una valoración negativa en todos estos aspectos, no superará la Prueba. El corrector especificará en el ejercicio la deducción efectuada en la nota global según los criterios señalados; dicha deducción podrá ser de hasta un máximo de dos puntos. El corrector debe penalizar fallos diferentes, no sólo la reiteración de un mismo fallo.

 03100498		Geografía (F.E.)		
		PRUEBA DE ACCESO A LA UNIVERSIDAD		
	Junio - 2014	Duración: 90min.		MODELO 02
				Hoja: 1 de 2

MODELO: "2"

INSTRUCCIONES GENERALES

El alumno realizará sólo una de las dos opciones propuestas (A o B).

El alumno no podrá utilizar ningún material.

Criterios generales de evaluación:

- En las definiciones se valorará, la claridad, la precisión y la brevedad.
- En las preguntas breves, el nivel de desarrollo teórico y la capacidad de síntesis.
- En la práctica, el alumno realizará el análisis e interpretación del gráfico o mapa siguiendo el esquema que se le proponga o su propio criterio si no se le indica otra cosa.

Criterios específicos de corrección:

La puntuación final será el resultado de la suma de las calificaciones de los tres apartados. La valoración de cada uno será como sigue: 3 puntos para la pregunta de 6 definiciones de conceptos, 2 puntos para cada pregunta breve del segundo apartado, total 4 puntos, y 3 puntos para la práctica.

Se tendrá muy en cuenta la ortografía, la corrección sintáctica y la presentación del examen.

OPCIÓN A

1. Definición de términos geográficos. Defina brevemente los siguientes términos: "Pliegue", "Movimiento pendular", "Crecimiento de la población", "Minifundio", "Combe" e "Isoterma".

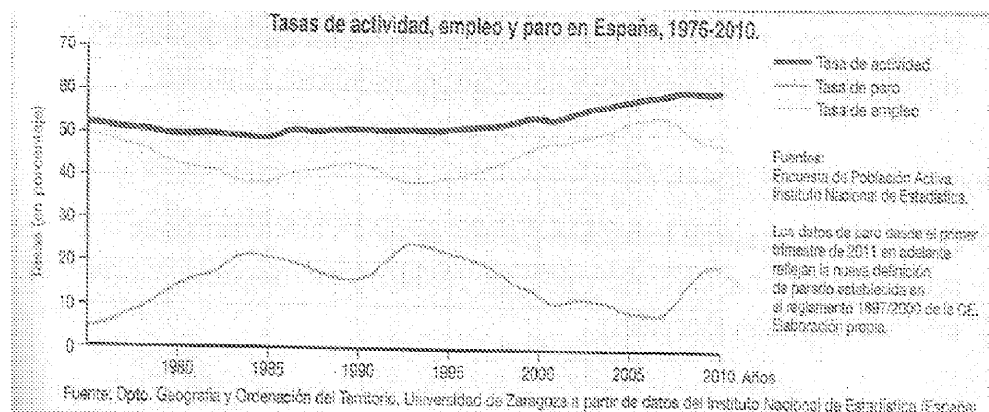
2. Preguntas breves.



- Diferencias entre agricultura intensiva y extensiva.
- El relieve de las islas Baleares.

3. Prueba de localización, lectura e interpretación de documentos.

Observe el gráfico sobre la tasa de actividad, empleo y paro en España, (en porcentajes) desde 1976 hasta el 2010 y conteste a las siguientes preguntas:

- a) Explique las diferencias entre población activa, población ocupada y población parada.
- b) ¿Qué es la tasa de actividad y qué factores la explican dentro de un país?
- c) Comente la evolución de la tasa de paro entre 1976 y 2010 exponiendo las causas principales que la explican.



 03100498		Geografía (F.E.)		
		PRUEBA DE ACCESO A LA UNIVERSIDAD		
	Junio - 2014	Duración: 90min.		MODELO 02
				Hoja: 2 de 2

OPCIÓN B

1. Definición de términos geográficos. Defina brevemente los siguientes términos: “erosión”, “modelado kárstico”, “isoyeta”, “latifundio”, “maquia” y “ciudad lineal”.

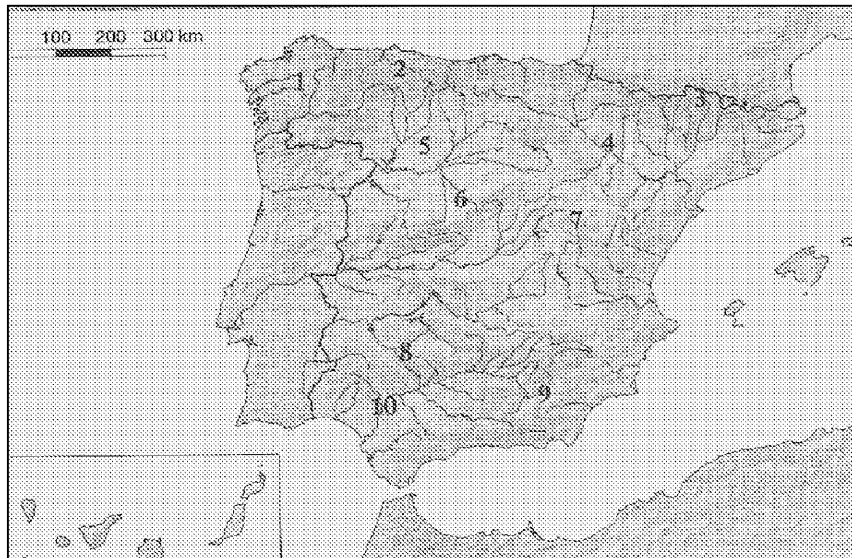
2. Preguntas breves.



- Características de la vegetación del clima oceánico.
- Características del censo y del padrón como fuentes demográficas.

3. Prueba de localización, lectura e interpretación de documentos.

Observe el mapa adjunto y responda a las siguientes cuestiones

- a) Identifique las unidades de relieve que se han numerado.
- b) Asocie después esas unidades de relieve con las formas de relieve estructurales dominantes que le caracterizan.
- c) ¿Cuáles de ellas se han formado más recientemente?



 03100498		Geografía (F.E.)		
		PRUEBA DE ACCESO A LA UNIVERSIDAD		
	Junio - 2014	Duración: 90min.		MODELO 04
				Hoja: 1 de 2

MODELO: "04"

INSTRUCCIONES GENERALES

El alumno realizará sólo una de las dos opciones propuestas (A o B).
El alumno no podrá utilizar ningún material.
Criterios generales de evaluación:
- En las definiciones se valorará, la claridad, la precisión y la brevedad.
- En las preguntas breves, el nivel de desarrollo teórico y la capacidad de síntesis.
- En la práctica, el alumno realizará el análisis e interpretación del gráfico o mapa siguiendo el esquema que se le proponga o su propio criterio si no se le indica otra cosa.
Criterios específicos de corrección:
La puntuación final será el resultado de la suma de las calificaciones de los tres apartados. La valoración de cada uno será como sigue: 3 puntos para la pregunta de 6 definiciones de conceptos, 2 puntos para cada pregunta breve del segundo apartado, total 4 puntos, y 3 puntos para la práctica.
Se tendrá muy en cuenta la ortografía, la corrección sintáctica y la presentación del examen.

OPCIÓN A

1. Definición de términos geográficos. Defina brevemente los siguientes términos: "Acuífero", "Solsticio", "Traslación", "Padrón municipal de habitantes", "Holding" y "Agricultura intensiva"

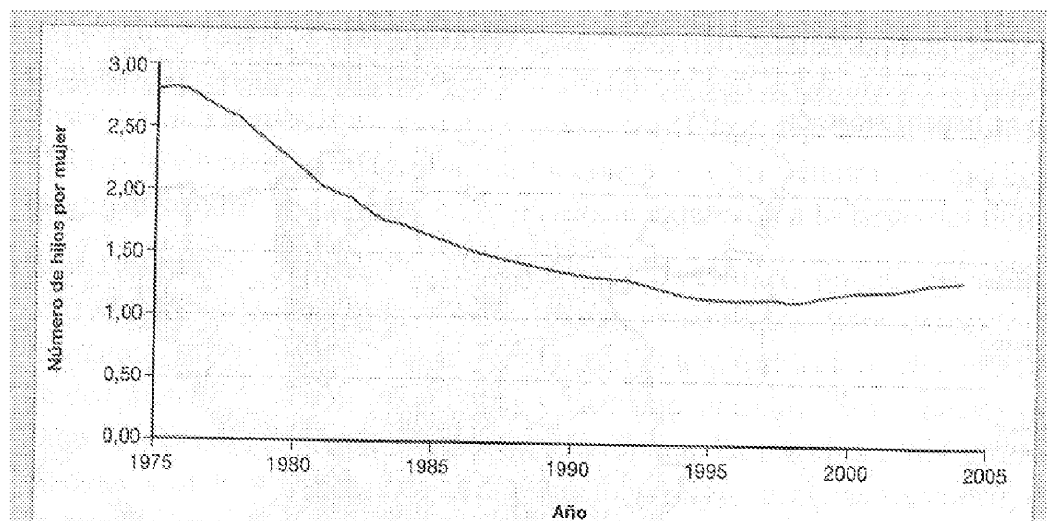
2. Preguntas breves.



- El suelo como recurso.
- Los ensanches burgueses de la ciudad industrial

3. Prueba de localización, lectura e interpretación de documentos.

Observe el gráfico adjunto y responda a las siguientes preguntas:

- a) ¿Qué causas explican el descenso del número medio de hijos por mujer entre 1975 y 2008?
- b) ¿Cuáles han sido las consecuencias?
- c) ¿Por qué se produce un ligero repunte en 1998?



 03100498		Geografía (F.E.)	
		PRUEBA DE ACCESO A LA UNIVERSIDAD	
	Junio - 2014	Duración: 90min.	MODELO 04
			Hoja: 2 de 2

OPCIÓN B

1. Definición de términos geográficos. Defina brevemente los siguientes términos: “latitud”, “metrópoli”, “presión atmosférica”, “macizo antiguo”, “barlovento” y “estatuto de autonomía”.

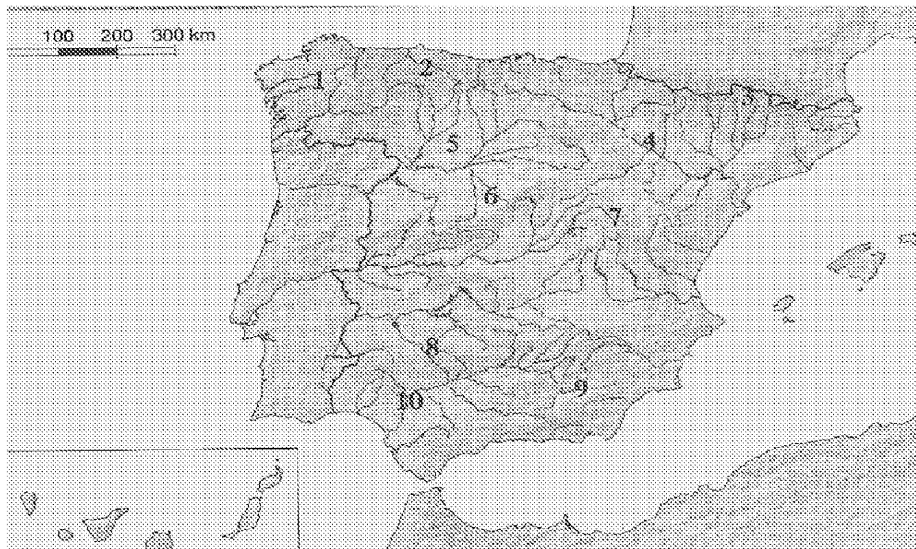
2. Preguntas breves.

- Los nuevos usos del espacio rural en España.
- Principales riesgos naturales en España de origen climático.

3. Prueba de localización, lectura e interpretación de documentos.

Observe el mapa adjunto y responda a las siguientes cuestiones

- a) Identifique las unidades de relieve que se han numerado.
- b) Asocie después esas unidades de relieve con las formas de relieve estructurales dominantes que le caracterizan
- c) ¿Cuáles de ellas se han formado más recientemente?



 03100498		Geografía (F.E.)		
		PRUEBA DE ACCESO A LA UNIVERSIDAD		
	Junio - 2014	Duración: 90min.		MODELO 06
				Hoja: 1 de 2

MODELO: "06"

INSTRUCCIONES GENERALES

El alumno realizará sólo una de las dos opciones propuestas (A o B).
El alumno no podrá utilizar ningún material.
Criterios generales de evaluación:
 - En las definiciones se valorará, la claridad, la precisión y la brevedad.
 - En las preguntas breves, el nivel de desarrollo teórico y la capacidad de síntesis.
 - En la práctica, el alumno realizará el análisis e interpretación del gráfico o mapa siguiendo el esquema que se le proponga o su propio criterio si no se le indica otra cosa.
Criterios específicos de corrección:
 La puntuación final será el resultado de la suma de las calificaciones de los tres apartados. La valoración de cada uno será como sigue: 3 puntos para la pregunta de 6 definiciones de conceptos, 2 puntos para cada pregunta breve del segundo apartado, total 4 puntos, y 3 puntos para la práctica.
 Se tendrá muy en cuenta la ortografía, la corrección sintáctica y la presentación del examen.

OPCIÓN A

1. Definición de términos geográficos. Defina brevemente los siguientes términos: "cliserie", "borrasca", "combe", "Padrón municipal de habitantes", "latifundio" y "tasa de urbanización".

2. Preguntas breves.

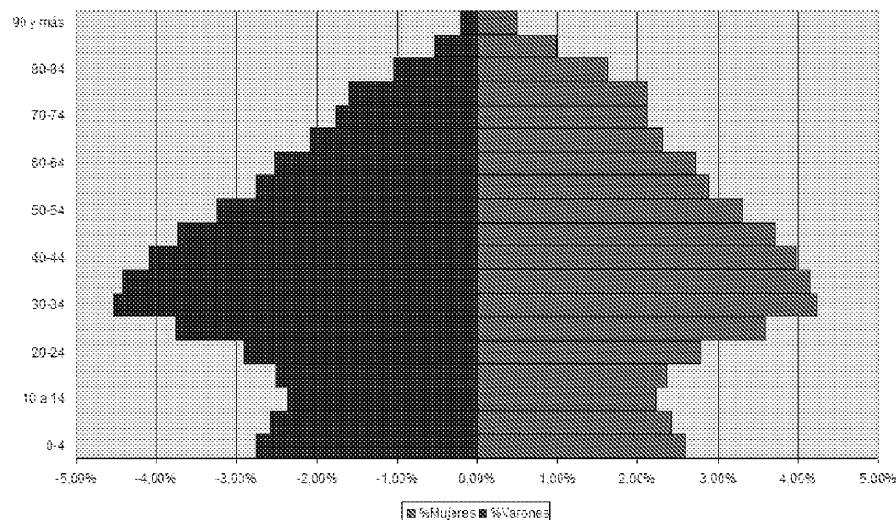
- Características del poblamiento disperso.
- Tipos de precipitaciones.



3. Prueba de localización, lectura e interpretación de documentos.

La pirámide de población adjunta representa la estructura de la población de España en. Haga un comentario teniendo en cuenta estas cuestiones:

- a) ¿Qué forma tiene la pirámide? Explique su estructura por sexo y edad.
- b) ¿Cuáles son las causas de la reducción y posterior ensanchamiento de la base de la pirámide?
- c) ¿Cuál es la tendencia de la población española, al rejuvenecimiento o al envejecimiento?

Pirámide población España 2010



 03100498		Geografía (F.E.)	
		PRUEBA DE ACCESO A LA UNIVERSIDAD	
	Junio - 2014	Duración: 90min.	MODELO 06
			Hoja: 2 de 2

OPCIÓN B

1. Definición de términos geográficos. Defina brevemente los siguientes términos: “Modelado glaciar”. “Área metropolitana”. “Agricultura extensiva”. “Crecimiento real de la población”, “equinoccio” y “albufera”.

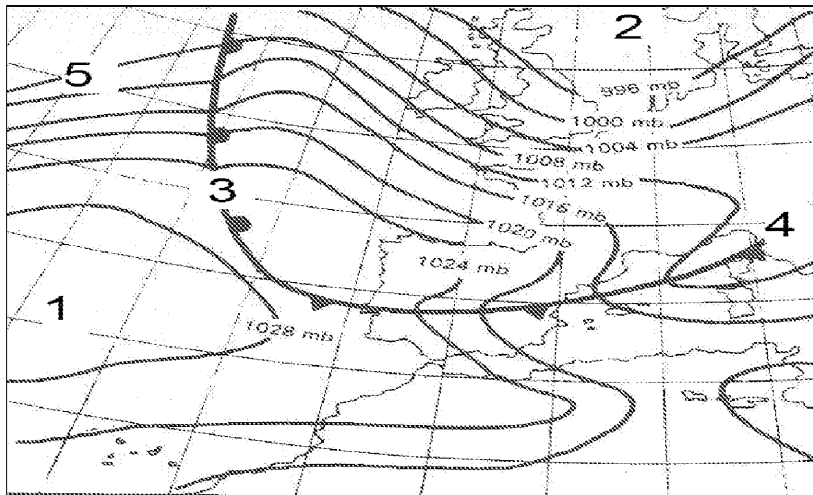
2. Preguntas breves.

- Principales riesgos naturales de origen geológico en España.
- Las áreas del comercio exterior español.

3. Prueba de localización, lectura e interpretación de documentos.

El mapa adjunto representa una situación atmosférica en un momento concreto. Obsérvelo y responda a las siguientes preguntas:

- a) ¿cómo se denomina este tipo de mapas?
- b) ¿qué aspecto o aspectos de la atmósfera representa?
- c) Indique los nombres de los elementos que se han numerado y explíquelos brevemente,



 03100498		Geografía (F.E.)	
		PRUEBA DE ACCESO A LA UNIVERSIDAD	
	Junio - 2014	Duración: 90min.	MODELO 08
			Hoja: 1 de 2

MODELO: "08"

INSTRUCCIONES GENERALES

El alumno realizará sólo una de las dos opciones propuestas (A o B).
El alumno no podrá utilizar ningún material.
Criterios generales de evaluación:
- En las definiciones se valorará, la claridad, la precisión y la brevedad.
- En las preguntas breves, el nivel de desarrollo teórico y la capacidad de síntesis.
- En la práctica, el alumno realizará el análisis e interpretación del gráfico o mapa siguiendo el esquema que se le proponga o su propio criterio si no se le indica otra cosa.
Criterios específicos de corrección:
La puntuación final será el resultado de la suma de las calificaciones de los tres apartados. La valoración de cada uno será como sigue: 3 puntos para la pregunta de 6 definiciones de conceptos, 2 puntos para cada pregunta breve del segundo apartado, total 4 puntos, y 3 puntos para la práctica.
Se tendrá muy en cuenta la ortografía, la corrección sintáctica y la presentación del examen.

OPCIÓN A

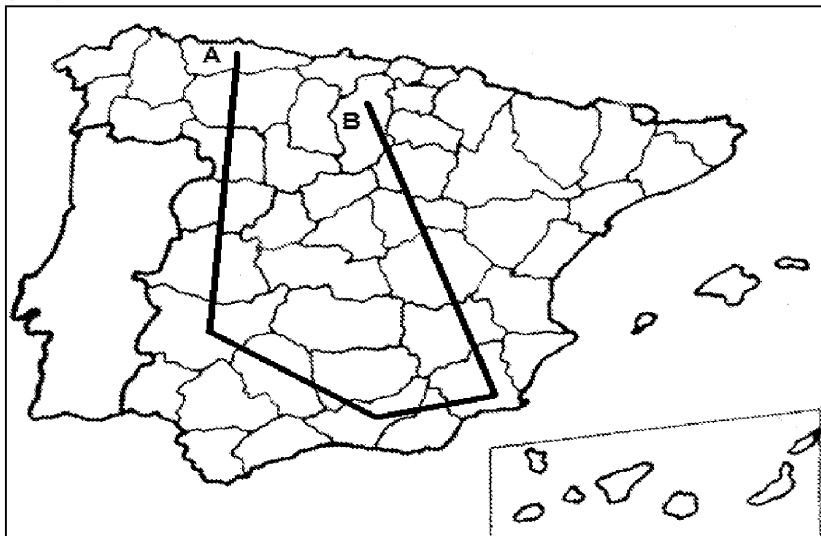
1. Definición de términos geográficos. Defina brevemente los siguientes términos: "caudal relativo de un río", "combe", "escala de un mapa", "Éxodo rural", "cartografía" y "trashumancia".



2. Preguntas breves.

- Repercusiones demográficas del turismo en España
- ¿En qué consiste el efecto föhn o foehn? Explíquelo razonadamente.

3. Prueba de localización, lectura e interpretación de documentos.

- a) Cite, de forma consecutiva, las provincias atravesadas por este recorrido imaginario por España, comenzando en A y terminando en B.
- b) Diga las Comunidades Autónomas de las que forman parte dichas provincias.
- c) Señale los principales recursos económicos que poseen las comunidades que acaba de citar.



 03100498		Geografía (F.E.)	
		PRUEBA DE ACCESO A LA UNIVERSIDAD	
	Junio - 2014	Duración: 90min.	MODELO 08
			Hoja: 2 de 2

OPCIÓN B

1. Definición de términos geográficos. Defina brevemente los siguientes términos: “trasvase fluvial”, “atmósfera”, “presión atmosférica”, “Padrón municipal de habitantes”, “agricultura de subsistencia” y “ciudad dormitorio”.

2. Preguntas breves.

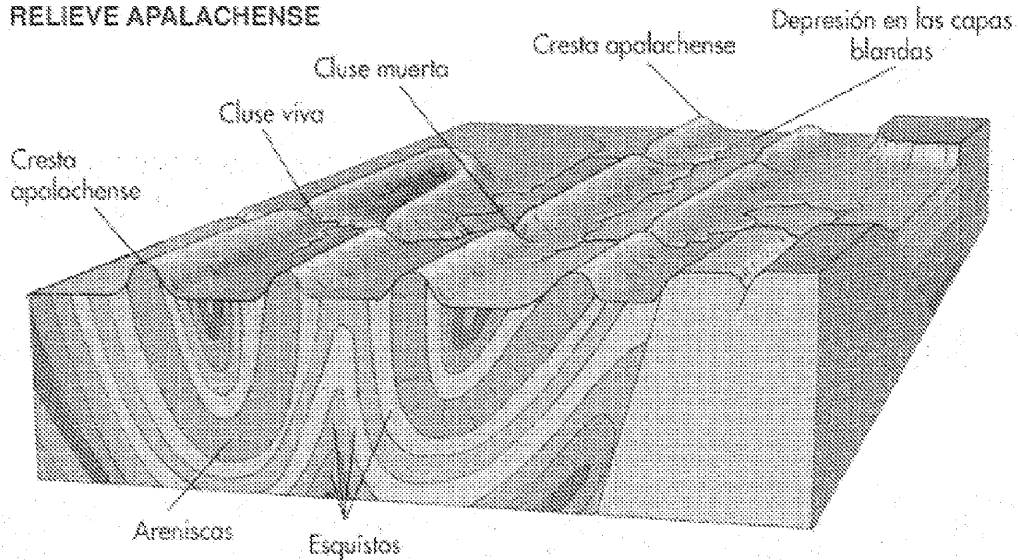
- Principales riesgos naturales de origen geológico en España.
- Principales repercusiones del turismo en la ordenación del territorio en España.

3. Prueba de localización, lectura e interpretación de documentos.

El bloque-diagrama adjunto representa la evolución que ha experimentado un relieve plegado a lo largo del tiempo. Obsérvelo y responda a las siguientes cuestiones:

- a) Explique cuál ha sido dicha evolución.
- b) ¿Conoce algún otro tipo de relieve plegado que haya evolucionado por la acción de la erosión? Explíquelo brevemente.
- c) Diga en qué lugares de España podemos encontrar ambos tipos de relieve

RELIEVE APALACHENSE



 03100498		Geografía (F.E.)		
		PRUEBA DE ACCESO A LA UNIVERSIDAD		
	Junio - 2014	Duración: 90min.		MODELO 10
				Hoja: 1 de 2

MODELO: "10"

INSTRUCCIONES GENERALES

El alumno realizará sólo una de las dos opciones propuestas (A o B).
El alumno no podrá utilizar ningún material.
Criterios generales de evaluación:
 - En las definiciones se valorará, la claridad, la precisión y la brevedad.
 - En las preguntas breves, el nivel de desarrollo teórico y la capacidad de síntesis.
 - En la práctica, el alumno realizará el análisis e interpretación del gráfico o mapa siguiendo el esquema que se le proponga o su propio criterio si no se le indica otra cosa.
Criterios específicos de corrección:
 La puntuación final será el resultado de la suma de las calificaciones de los tres apartados. La valoración de cada uno será como sigue: 3 puntos para la pregunta de 6 definiciones de conceptos, 2 puntos para cada pregunta breve del segundo apartado, total 4 puntos, y 3 puntos para la práctica.
 Se tendrá muy en cuenta la ortografía, la corrección sintáctica y la presentación del examen.

OPCIÓN A

1. Definición de términos geográficos. Defina brevemente los siguientes términos: "conurbación", "suburbio", "endorreísmo", "cuesta", "delta" y "balance demográfico"

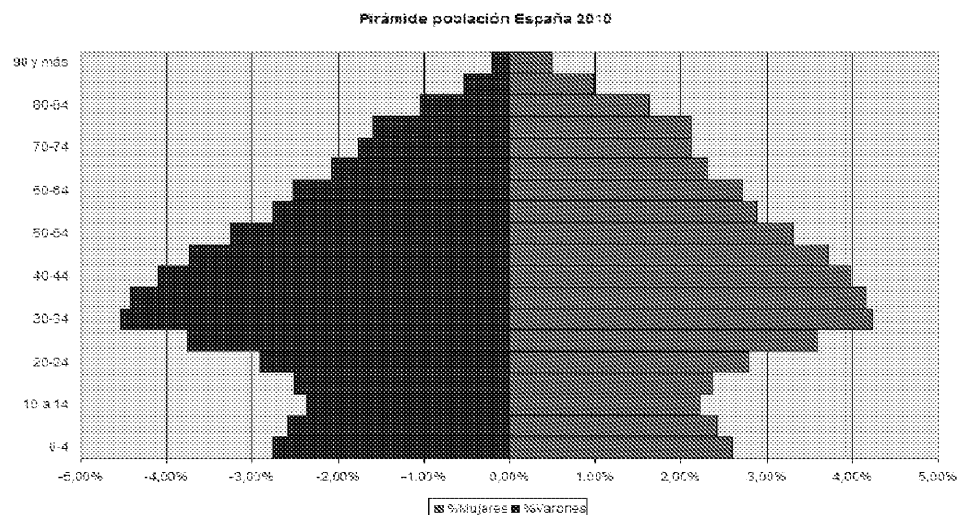
2. Preguntas breves.



- La localización del espacio geográfico: la red geográfica.
- Explique en qué consiste el modelo de transición demográfica.

3. Prueba de localización, lectura e interpretación de documentos.

La pirámide de población adjunta representa la estructura de la población de España en 2010. Haga un comentario teniendo en cuenta estas cuestiones:

- a) ¿Qué forma tiene la pirámide? Explique su estructura por sexo y edad.
- b) ¿Cuáles son las causas de la reducción y posterior aumento de la base de la pirámide?
- c) ¿Cuál es la tendencia de la población española, al rejuvenecimiento o al envejecimiento?



 03100498	 Junio - 2014	Geografía (F.E.)		
		PRUEBA DE ACCESO A LA UNIVERSIDAD		
		Duración: 90min.		MODELO 10
				Hoja: 2 de 2

OPCIÓN B

1. Definición de términos geográficos. Defina brevemente los siguientes términos: “cerro testigo”, “estiaje de un río”, “garriga”, “Plano ortogonal”, “estructura por edad” y “globalización”.

2. Preguntas breves.

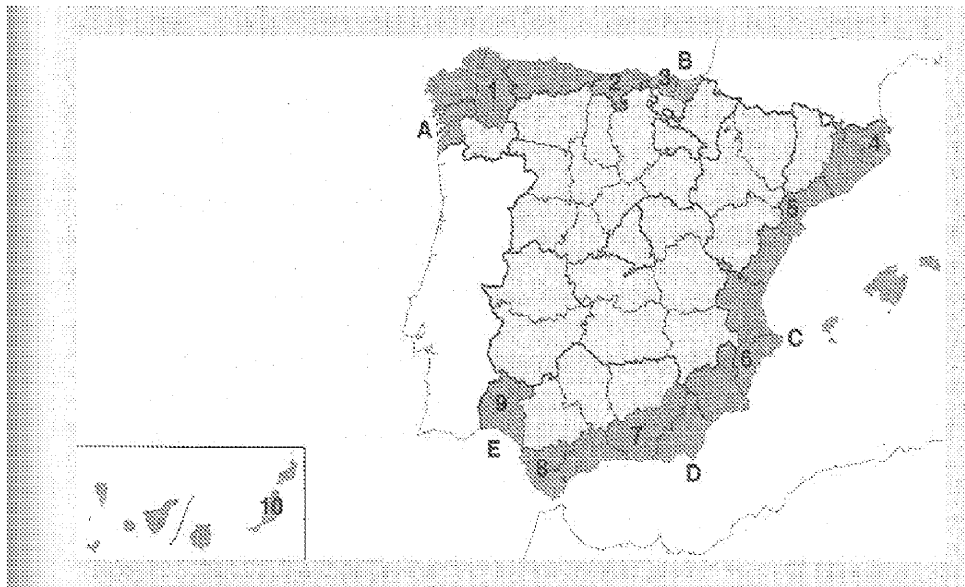
- Explique la humedad, la niebla y la calima como elementos del clima
- Principales consecuencias del paro

3. Prueba de localización, lectura e interpretación de documentos.

- En el mapa adjunto se han destacado las regiones costeras españolas. Obsérvelo y responda a las siguientes preguntas:

- a) Diga cuáles son los accidentes geográficos señalados con las letras A, B, C, D y E.
- b) Indique el nombre de cada una de las provincias costeras numeradas.
- c) Indique las características del relieve costero en el tramo de la provincia 4 y entre las provincias 8 y 9, así como la importancia turística y el nombre que recibe cada una de estas costas

:



 03100498		Geografía (F.E.)	
		PRUEBA DE ACCESO A LA UNIVERSIDAD	
	Junio - 2014	Duración: 90min.	MODELO 12
			Hoja: 1 de 2

MODELO: "12"

INSTRUCCIONES GENERALES

El alumno realizará sólo una de las dos opciones propuestas (A o B).

El alumno no podrá utilizar ningún material.

Criterios generales de evaluación:

- En las definiciones se valorará, la claridad, la precisión y la brevedad.
- En las preguntas breves, el nivel de desarrollo teórico y la capacidad de síntesis.
- En la práctica, el alumno realizará el análisis e interpretación del gráfico o mapa siguiendo el esquema que se le proponga o su propio criterio si no se le indica otra cosa.

Criterios específicos de corrección:

La puntuación final será el resultado de la suma de las calificaciones de los tres apartados. La valoración de cada uno será como sigue: 3 puntos para la pregunta de 6 definiciones de conceptos, 2 puntos para cada pregunta breve del segundo apartado, total 4 puntos, y 3 puntos para la práctica.

Se tendrá muy en cuenta la ortografía, la corrección sintáctica y la presentación del examen.

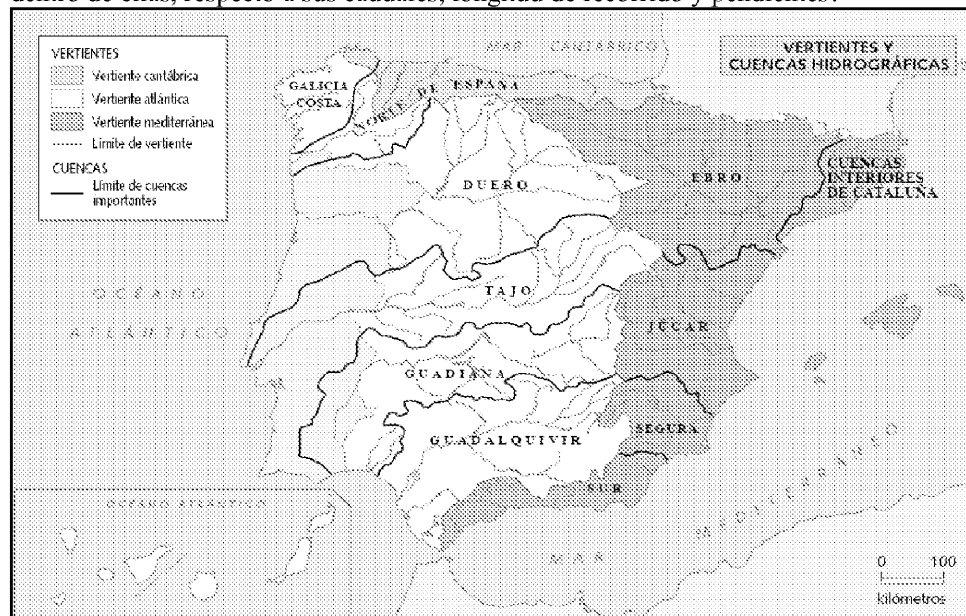
OPCIÓN A



1. Definición de términos geográficos. Defina brevemente los siguientes términos: "penillanura", "sotavento", "humedal", "Caudal absoluto de un río", "autarquía" y "esperanza de vida"

2. Preguntas breves.

- La estructura actual de la industria española.
- La vegetación del clima oceánico

3. Prueba de localización, lectura e interpretación de documentos. El mapa adjunto representa las vertientes hidrográficas peninsulares. Tras su observación, responda a las siguientes cuestiones: a) ¿por qué tiene más extensión la vertiente atlántica que la mediterránea?, b) por qué, salvo el Ebro, los grandes ríos peninsulares pertenecen a la vertiente atlántica? y c) qué diferencias se dan entre los ríos de las distintas vertientes, y dentro de ellas, respecto a sus caudales, longitud de recorrido y pendientes?



 03100498		Geografía (F.E.)		
		PRUEBA DE ACCESO A LA UNIVERSIDAD		
	Junio - 2014	Duración: 90min.		MODELO 12
				Hoja: 2 de 2


OPCIÓN B


1. Definición de términos geográficos. Defina brevemente los siguientes términos: “área suburbana”, “metrópolis”, “proyección cónica”, “barbecho”, “cerro testigo” y “estatuto de autonomía”.

2. Preguntas breves.

- Principales riesgos naturales en España de origen climático.
- ¿Qué relación existe entre los valores de las precipitaciones y el relieve peninsular?

3. Prueba de localización, lectura e interpretación de documentos. Analice y comente el siguiente plano del Ensanche de Barcelona teniendo en cuenta las siguientes cuestiones: a) ¿en qué se diferencia el Ensanche del casco antiguo? y ¿qué ventajas tiene el plano en cuadrícula?, b) defina qué se entiende por Ensanche y en qué momento histórico se produjo?, c) ponga algún ejemplo de este esquema de planificación urbana en otras ciudades españolas.



 03100498		Geografía (F.E.)	
		PRUEBA DE ACCESO A LA UNIVERSIDAD	
	Junio - 2014	Duración: 90min.	MODELO 14
			Hoja: 1 de 2

MODELO: "14"

INSTRUCCIONES GENERALES

El alumno realizará sólo una de las dos opciones propuestas (A o B).
El alumno no podrá utilizar ningún material.
Criterios generales de evaluación:
- En las definiciones se valorará, la claridad, la precisión y la brevedad.
- En las preguntas breves, el nivel de desarrollo teórico y la capacidad de síntesis.
- En la práctica, el alumno realizará el análisis e interpretación del gráfico o mapa siguiendo el esquema que se le proponga o su propio criterio si no se le indica otra cosa.
Criterios específicos de corrección:
La puntuación final será el resultado de la suma de las calificaciones de los tres apartados. La valoración de cada uno será como sigue: 3 puntos para la pregunta de 6 definiciones de conceptos, 2 puntos para cada pregunta breve del segundo apartado, total 4 puntos, y 3 puntos para la práctica.
Se tendrá muy en cuenta la ortografía, la corrección sintáctica y la presentación del examen.

OPCIÓN A

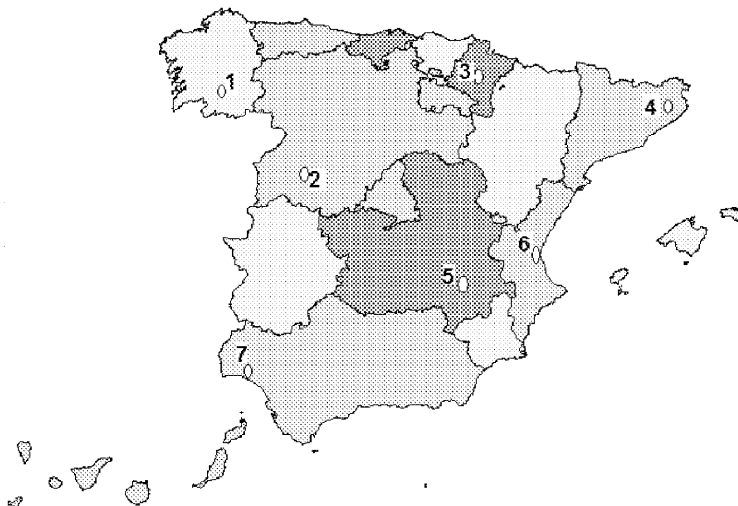
1. Definición de términos geográficos. Defina brevemente los siguientes términos: "acantilado"; "afluente"; "tasa de mortalidad"; "archipiélago"; "éxodo rural" y "balance demográfico".



2. Preguntas breves.

- Explique brevemente los factores fundamentales de la morfología urbana.
- La circulación atmosférica en altura: La corriente en chorro..

3. Prueba de localización, lectura e interpretación de documentos.

- a) Cite los nombres de las capitales de provincia que aparecen señaladas en el mapa adjunto, según su número de localización.
- b) ¿A qué Comunidades Autónomas pertenecen?
- c) Diga cuál o cuáles de ellas son capitales autonómicas y señale su principal función urbana.



 03100498		Geografía (F.E.)	
		PRUEBA DE ACCESO A LA UNIVERSIDAD	
	Junio - 2014	Duración: 90min.	MODELO 14
			Hoja: 2 de 2

OPCIÓN B

1. Definición de términos geográficos. Defina brevemente los siguientes términos: “trasvase fluvial”, “escala de un mapa”, “presión atmosférica”, “área suburbana”, “comercio mayorista” y “energías renovables”.

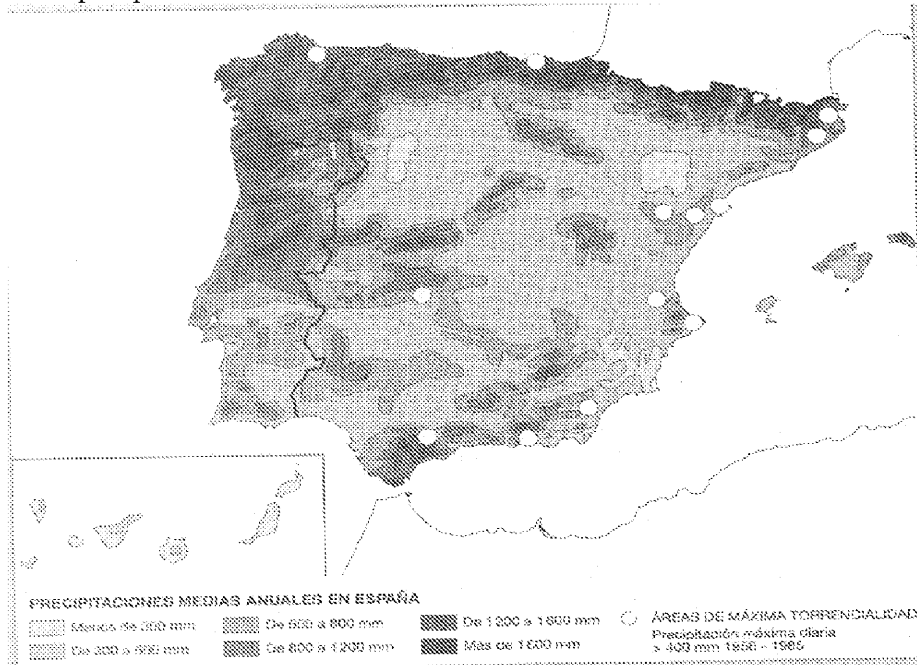
2. Preguntas breves.



- Principales tipos de vegetación arbustiva en la España mediterránea.
- Diga 4 tipos de aglomeraciones urbanas y explíquelas brevemente.

3. Prueba de localización, lectura e interpretación de documentos.

El mapa adjunto representa la distribución de las precipitaciones en España. Co la información que contiene responda a las siguientes cuestiones:

- a) Compare las precipitaciones caídas en el noroeste peninsular con las del sureste de la península. Señale las diferencias que existen y explique las causas que las producen.
- b) Comente razonadamente la relación existente entre las precipitaciones y el relieve peninsular.
- c) Diga el nombre de las provincias que se ven afectadas por la máxima torrencialidad de las precipitaciones.



 03100239		Geografía (F.G.)	
		PRUEBA DE ACCESO A LA UNIVERSIDAD	
	Junio - 2014	Duración: 90min.	MODELO 11
			Hoja: 1 de 2

MODELO: "11"

INSTRUCCIONES GENERALES

El alumno realizará sólo una de las dos opciones propuestas (A o B).

El alumno no podrá utilizar ningún material.

Criterios generales de evaluación:

- En las definiciones se valorará, la claridad, la precisión y la brevedad.
- En las preguntas breves, el nivel de desarrollo teórico y la capacidad de síntesis.
- En la práctica, el alumno realizará el análisis e interpretación del gráfico o mapa siguiendo el esquema que se le proponga o su propio criterio si no se le indica otra cosa.

Criterios específicos de corrección:

La puntuación final será el resultado de la suma de las calificaciones de los tres apartados. La valoración de cada uno será como sigue: 3 puntos para la pregunta de 6 definiciones de conceptos, 2 puntos para cada pregunta breve del segundo apartado, total 4 puntos, y 3 puntos para la práctica.

Se tendrá muy en cuenta la ortografía, la corrección sintáctica y la presentación del examen.

OPCIÓN A

1. Definición de términos geográficos. Defina brevemente los siguientes términos: "Aridez", "duna", "bosque caducifolio", "Censo de población", "holding" y "turismo".

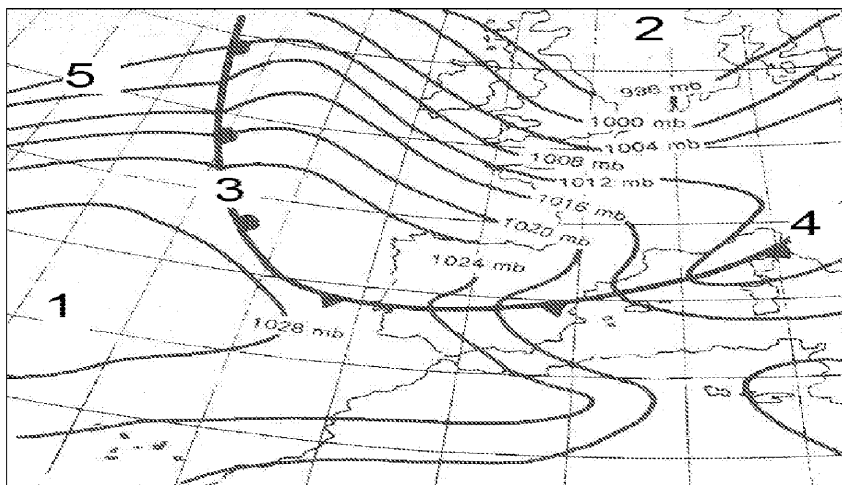
2. Preguntas breves.



- Los nuevos usos del espacio rural en España.
- La vegetación del clima oceánico.

3. Prueba de localización, lectura e interpretación de documentos.

El mapa adjunto representa una situación atmosférica en un momento concreto. Obsérvelo y responda a las siguientes preguntas:

- a) ¿cómo se denomina este tipo de mapas?
- b) ¿qué aspecto o aspectos de la atmósfera representa?
- c) Indique los nombres de los elementos que se han numerado y explíquelos brevemente,



 03100239		Geografía (F.G.)		
		PRUEBA DE ACCESO A LA UNIVERSIDAD		
	Junio - 2014	Duración: 90min.		MODELO 11
				Hoja: 2 de 2

OPCIÓN B

1. Definición de términos geográficos. Defina brevemente los siguientes términos: “amplitud térmica anual”, “área metropolitana”, “clima”, “archipiélago”, “meandro”. y “tasa de actividad”

2. Preguntas breves.

- El efecto invernadero.
- Características del poblamiento disperso.






3. Prueba de localización, lectura e interpretación de documentos.

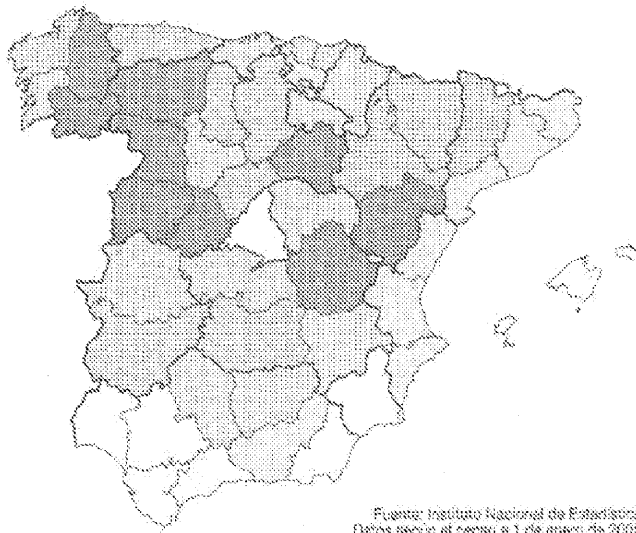

Comente el mapa que se ha adjuntado respondiendo a las siguientes cuestiones:

- a) Enumere las provincias más envejecidas y las más jóvenes, señalándolas por los puntos cardinales.
- b) Explique las causas que han provocado esta situación y diga los factores que influyen en los contrastes interprovinciales.
- c) ¿cuáles serán las consecuencias de la misma?



ENVEJECIMIENTO DE LA POBLACION ESPAÑOLA (2009)

Porcentaje de mayores de 65 años

-  Menos del 15
-  Del 15 al 17
-  Del 17 al 19
-  Del 19 al 23
-  Más del 23



Fuente: Instituto Nacional de Estadística. Datos según el censo a 1 de enero de 2009.

 03100239		Geografía (F.G.)		
		PRUEBA DE ACCESO A LA UNIVERSIDAD		
	Junio - 2014	Duración: 90min.		MODELO 01
				Hoja: 1 de 2

MODELO: "1"

INSTRUCCIONES GENERALES

El alumno realizará sólo una de las dos opciones propuestas (A o B).
El alumno no podrá utilizar ningún material.
Criterios generales de evaluación:
- En las definiciones se valorará, la claridad, la precisión y la brevedad.
- En las preguntas breves, el nivel de desarrollo teórico y la capacidad de síntesis.
- En la práctica, el alumno realizará el análisis e interpretación del gráfico o mapa siguiendo el esquema que se le proponga o su propio criterio si no se le indica otra cosa.
Criterios específicos de corrección:
La puntuación final será el resultado de la suma de las calificaciones de los tres apartados. La valoración de cada uno será como sigue: 3 puntos para la pregunta de 6 definiciones de conceptos, 2 puntos para cada pregunta breve del segundo apartado, total 4 puntos, y 3 puntos para la práctica.
Se tendrá muy en cuenta la ortografía, la corrección sintáctica y la presentación del examen.

OPCIÓN A

1. Definición de términos geográficos.

Defina brevemente los siguientes términos: "Corriente en Chorro"; "Amplitud térmica anual"; "Atmósfera"; "Parque nacional", "Tasa Bruta de Mortalidad" y "Agricultura de subsistencia".

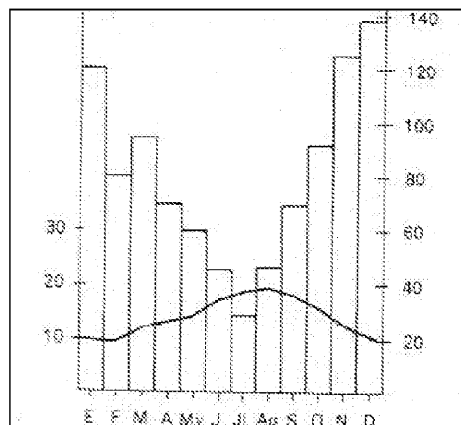
2. Preguntas breves.



- Tipologías del poblamiento rural.
- El relieve de Canarias.

3. Prueba de localización, lectura e interpretación de documentos.

El climodiagrama adjunto pertenece al observatorio de una ciudad española, obsérvelo y responda a las siguientes cuestiones:

- ¿a qué tipo de clima pertenece y dónde lo podría localizar?
- ¿qué características tiene ese clima?
- de forma aproximada ¿dónde cree que podría situarse la ciudad?



		Geografía (F.G.)		
		PRUEBA DE ACCESO A LA UNIVERSIDAD		
03100239	Junio - 2014	Duración: 90min.		MODELO 01
				Hoja: 2 de 2

Las temperaturas se representan por la línea que las une y su escala va a la izquierda. Las precipitaciones se han representado por diagrama de barras y su escala está a la derecha del climodiagrama.

OPCIÓN B

1. Definición de términos geográficos. Defina brevemente los siguientes términos: “acantilado”, “escala de un mapa”, “amplitud térmica anual”, “ciudad”, “migración” y “crecimiento vegetativo”.

2. Preguntas breves.



- Enumere y explique brevemente las causas de la globalización.
- Factores que influyen en la vegetación.

3. Prueba de localización, lectura e interpretación de documentos.

- En la tabla adjunta se indica la población de España desde 1900 a 2010. Fijándose en estos datos hagan un comentario respondiendo a las siguientes cuestiones:

- a) ¿Qué evolución ha tenido la población española entre 1900 y 2010?
- b) ¿Qué periodos presentan mayor crecimiento de la población? ¿Cuáles han sido los motivos de ese mayor incremento?
- c) ¿Cuál cree que será la evolución en un futuro próximo? Razone y argumente su respuesta.

CENSO	POBLACIÓN	CENSO	POBLACIÓN
1900	18.616.630	1960	30.582.936
1910	19.990.669	1970	33.956.047
1920	21.388.551	1980	37.742.561
1930	23.677.095	1990	39.443.942
1940	26.014.278	2000	41.116.842
1950	28.117.873	2010	47.021.031

 03100239		Geografía (F.G.)	
		PRUEBA DE ACCESO A LA UNIVERSIDAD	
	Junio - 2014	Duración: 90min.	MODELO 03
			Hoja: 1 de 2

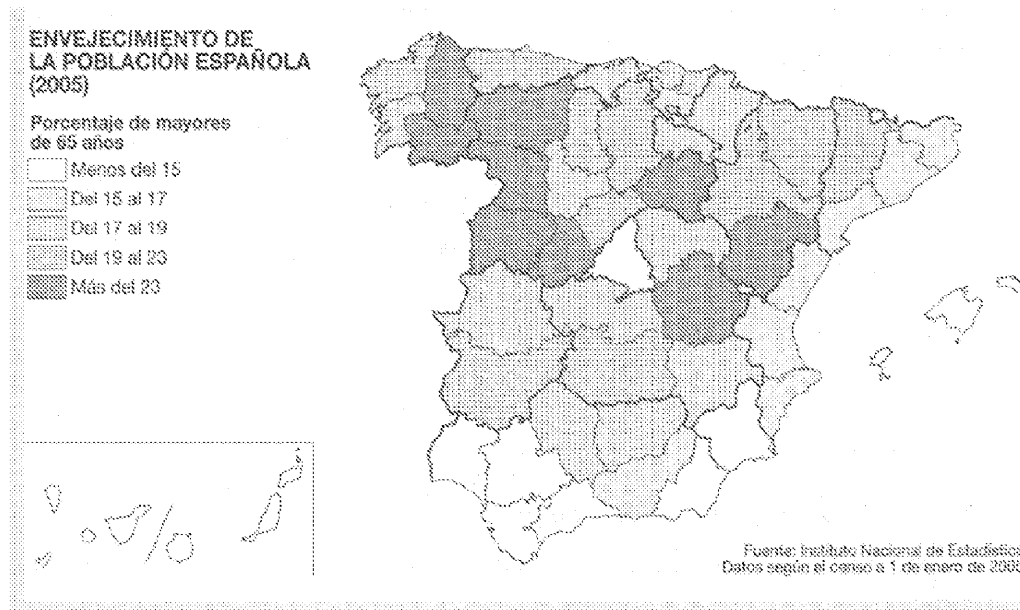
MODELO: "03"



INSTRUCCIONES GENERALES

El alumno realizará sólo una de las dos opciones propuestas (A o B).
El alumno no podrá utilizar ningún material.
Criterios generales de evaluación:
- En las definiciones se valorará, la claridad, la precisión y la brevedad.
- En las preguntas breves, el nivel de desarrollo teórico y la capacidad de síntesis.
- En la práctica, el alumno realizará el análisis e interpretación del gráfico o mapa siguiendo el esquema que se le proponga o su propio criterio si no se le indica otra cosa.
Criterios específicos de corrección:
La puntuación final será el resultado de la suma de las calificaciones de los tres apartados. La valoración de cada uno será como sigue: 3 puntos para la pregunta de 6 definiciones de conceptos, 2 puntos para cada pregunta breve del segundo apartado, total 4 puntos, y 3 puntos para la práctica.
Se tendrá muy en cuenta la ortografía, la corrección sintáctica y la presentación del examen.

OPCIÓN A

- 1. Definición de términos geográficos. Defina brevemente los siguientes términos:** "cerro testigo", "éxodo rural", "Ensanche urbano", "coordenadas geográficas", "cuenca hidrográfica", y "trashumancia"
- 2. Preguntas breves.**
 - Los sectores industriales dinámicos en España
 - La vegetación como recurso.
- 3. Prueba de localización, lectura e interpretación de documentos.**



 03100239		Geografía (F.G.)	
		PRUEBA DE ACCESO A LA UNIVERSIDAD	
	Junio - 2014	Duración: 90min.	MODELO 03
			Hoja: 2 de 2

Comente el mapa que se ha adjuntado respondiendo a las siguientes cuestiones:

- Enumere las provincias más envejecidas y las más jóvenes, señalándolas por los puntos cardinales.
- Explique las causas que han provocado esta situación y diga los factores que influyen en los contrastes interprovinciales.
- ¿cuáles serán las consecuencias de la mencionada situación?

OPCIÓN B

1. Definición de términos geográficos. Defina brevemente los siguientes términos: “Anticiclón”; “Parque nacional”; “Latitud”; “Saldo migratorio”; “población activa” y “Tasa Bruta de Natalidad”.

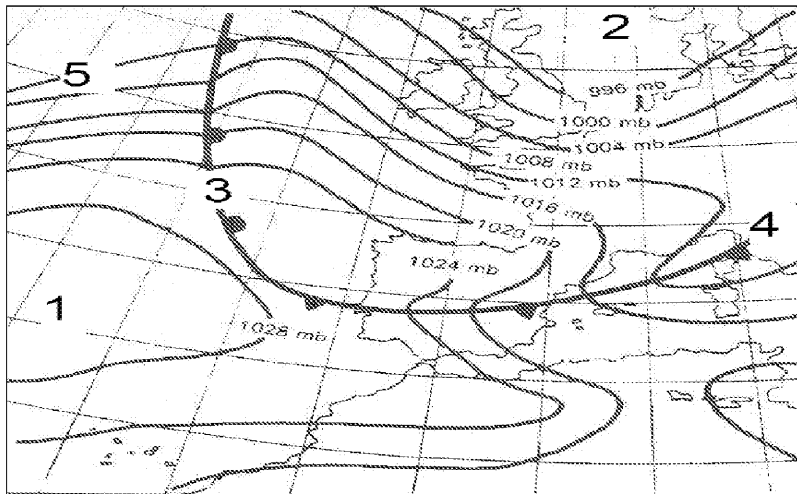
2. Preguntas breves.



- Diferencias entre ganadería intensiva y extensiva en España.
- Enumere y explique brevemente los factores geográficos que influyen en el clima de España.

3. Prueba de localización, lectura e interpretación de documentos.

El mapa adjunto representa una situación atmosférica en un momento concreto. Obsérvelo y responda a las siguientes preguntas:

- ¿cómo se denomina este tipo de mapas?
- ¿qué aspecto o aspectos de la atmósfera representa?
- Indique los nombres de los elementos que se han numerado y explíquelos brevemente,



 03100239	 Junio - 2014	Geografía (F.G.)		
		PRUEBA DE ACCESO A LA UNIVERSIDAD		
		Duración: 90min.		MODELO 05
				Hoja: 1 de 2

MODELO: "05"

INSTRUCCIONES GENERALES

El alumno realizará sólo una de las dos opciones propuestas (A o B).

El alumno no podrá utilizar ningún material.

Criterios generales de evaluación:

- En las definiciones se valorará, la claridad, la precisión y la brevedad.
- En las preguntas breves, el nivel de desarrollo teórico y la capacidad de síntesis.
- En la práctica, el alumno realizará el análisis e interpretación del gráfico o mapa siguiendo el esquema que se le proponga o su propio criterio si no se le indica otra cosa.

Criterios específicos de corrección:

La puntuación final será el resultado de la suma de las calificaciones de los tres apartados. La valoración de cada uno será como sigue: 3 puntos para la pregunta de 6 definiciones de conceptos, 2 puntos para cada pregunta breve del segundo apartado, total 4 puntos, y 3 puntos para la práctica.

Se tendrá muy en cuenta la ortografía, la corrección sintáctica y la presentación del examen.

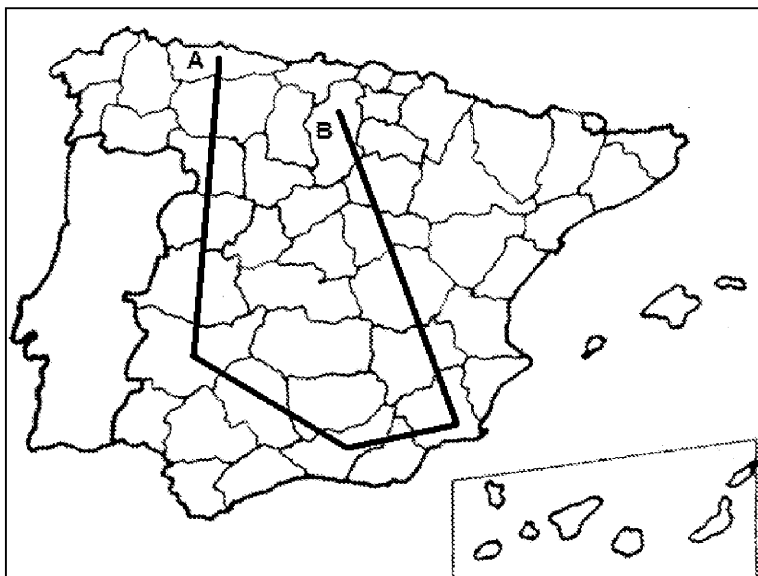
1. Definición de términos geográficos. Defina brevemente los siguientes términos: "Caudal de un río", "Equinoccio", "Rotación", "Censo de población", "Ensanche urbano" y "Agricultura intensiva"



2. Preguntas breves.

- Los problemas de la actividad turística.
- El efecto invernadero.

3. Prueba de localización, lectura e interpretación de documentos.

- a) Cite, de forma consecutiva, las provincias atravesadas por este recorrido imaginario por España, comenzando en A y terminando en B.
- b) Diga las Comunidades Autónomas de las que forman parte dichas provincias.
- c) Señale los principales recursos económicos que poseen las comunidades que acaba de citar.



 03100239		Geografía (F.G.)		
		PRUEBA DE ACCESO A LA UNIVERSIDAD		
	Junio - 2014	Duración: 90min.		MODELO 05
				Hoja: 2 de 2

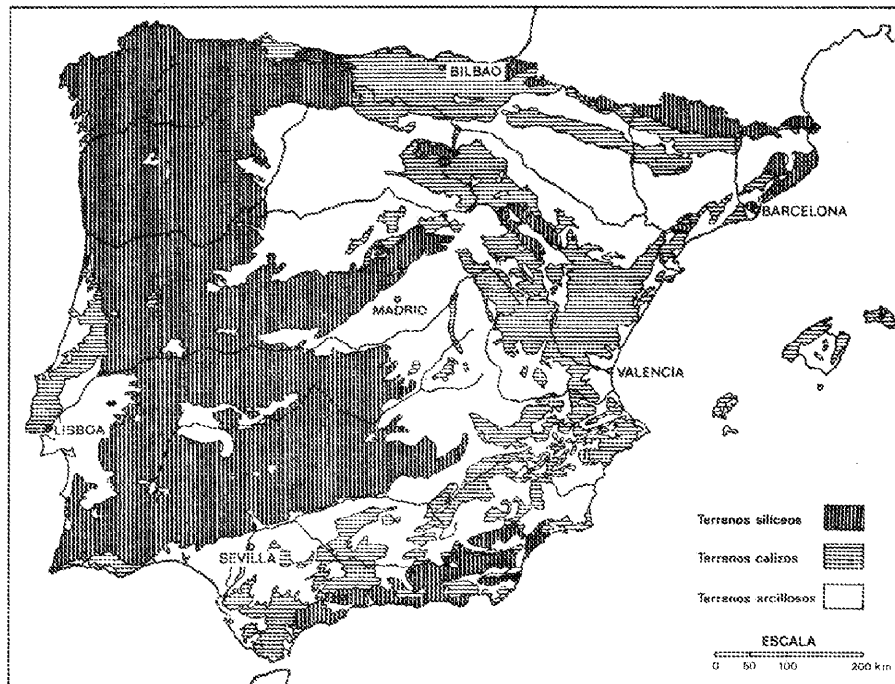
OPCIÓN B

1. Definición de términos geográficos. Defina brevemente los siguientes términos: “Cartografía”, “Aglomeración urbana”, “Estatuto de Autonomía”, “energía eólica”, “zócalo” y “Tasa de dependencia”.

2. Preguntas breves.

- La red de aeropuertos españoles.
- Principales riesgos naturales de origen climático en España.

3. Prueba de localización, lectura e interpretación de documentos.



El roquedo de la Península Ibérica.

Observando el mapa de distribución del Roquedo en la Península Ibérica:

- a) describa las características de cada uno de los tipos de terrenos y su localización.
- b) relacione el tipo de terreno predominante con las formas de relieve características en cada uno de ellos.

Los símbolos de la cartela son los siguientes, de más oscuro a más claro y de arriba abajo:

- 1) terrenos silíceos, 2) terrenos calizos y 3) terrenos arcillosos

 03100239		Geografía (F.G.)	
		PRUEBA DE ACCESO A LA UNIVERSIDAD	
	Junio - 2014	Duración: 90min.	MODELO 07
			Hoja: 1 de 2

MODELO: "07"

INSTRUCCIONES GENERALES

El alumno realizará sólo una de las dos opciones propuestas (A o B).
El alumno no podrá utilizar ningún material.
Criterios generales de evaluación:
- En las definiciones se valorará, la claridad, la precisión y la brevedad.
- En las preguntas breves, el nivel de desarrollo teórico y la capacidad de síntesis.
- En la práctica, el alumno realizará el análisis e interpretación del gráfico o mapa siguiendo el esquema que se le proponga o su propio criterio si no se le indica otra cosa.
Criterios específicos de corrección:
La puntuación final será el resultado de la suma de las calificaciones de los tres apartados. La valoración de cada uno será como sigue: 3 puntos para la pregunta de 6 definiciones de conceptos, 2 puntos para cada pregunta breve del segundo apartado, total 4 puntos, y 3 puntos para la práctica.
Se tendrá muy en cuenta la ortografía, la corrección sintáctica y la presentación del examen.

OPCIÓN A

1. Definición de términos geográficos. Defina brevemente los siguientes términos: "ría", "escala de un mapa", "barlovento", "cliserie", "trashumancia" y "área metropolitana".

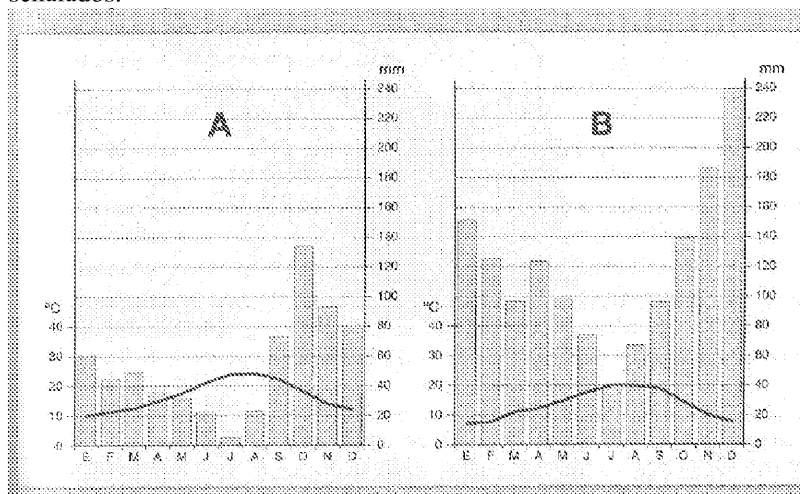
2. Preguntas breves.



- Características del relieve peninsular.
- Principales características del sector terciario en España.

3. Prueba de localización, lectura e interpretación de documentos.

Observe los climodiagramas adjuntos y responda a las siguientes preguntas:

- a) Identifique el clima al que corresponde el señalado por la letra A y exponga sus principales características.
- b) Identifique el clima al que corresponde el señalado por la letra B y exponga sus principales características.
- c) Diga en qué provincias españolas podemos encontrar cada uno de los climas señalados.



 03100239		Geografía (F.G.)		
		PRUEBA DE ACCESO A LA UNIVERSIDAD		
	Junio - 2014	Duración: 90min.		MODELO 07
				Hoja: 2 de 2

OPCIÓN B

1. Definición de términos geográficos. Defina brevemente los siguientes términos: “turismo”, “afluente”, “sotavento”, “ciudad jardín”, “éxodo rural” y “viento”.

2. Preguntas breves.

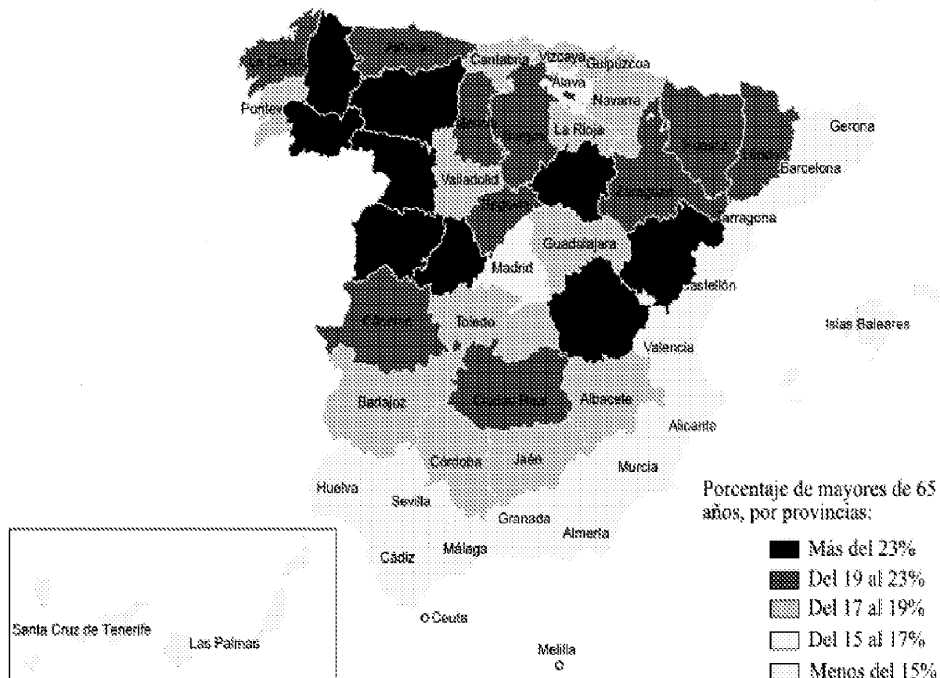
- Las áreas turísticas de alta densidad en España.
- Los factores geográficos que influyen en el clima



3. Prueba de localización, lectura e interpretación de documentos.

En el mapa adjunto se ha representado el envejecimiento de la población española por provincias en el 2005. Tras su observación, responda a las siguientes cuestiones:

- a) ¿cuáles son las causas de dicho envejecimiento?
- b) ¿a qué se debe esta distribución provincial?
- c) ¿qué consecuencias tendrá el envejecimiento en las provincias más envejecidas?

ENVEJECIMIENTO DE LA POBLACIÓN ESPAÑOLA (2005)



 03100239		Geografía (F.G.)		
		PRUEBA DE ACCESO A LA UNIVERSIDAD		
	Junio - 2014	Duración: 90min.		MODELO 09
				Hoja: 1 de 2

MODELO: "09"

INSTRUCCIONES GENERALES

El alumno realizará sólo una de las dos opciones propuestas (A o B).

El alumno no podrá utilizar ningún material.

Criterios generales de evaluación:

- En las definiciones se valorará, la claridad, la precisión y la brevedad.
- En las preguntas breves, el nivel de desarrollo teórico y la capacidad de síntesis.
- En la práctica, el alumno realizará el análisis e interpretación del gráfico o mapa siguiendo el esquema que se le proponga o su propio criterio si no se le indica otra cosa.

Criterios específicos de corrección:

La puntuación final será el resultado de la suma de las calificaciones de los tres apartados. La valoración de cada uno será como sigue: 3 puntos para la pregunta de 6 definiciones de conceptos, 2 puntos para cada pregunta breve del segundo apartado, total 4 puntos, y 3 puntos para la práctica.

Se tendrá muy en cuenta la ortografía, la corrección sintáctica y la presentación del examen.

OPCIÓN A

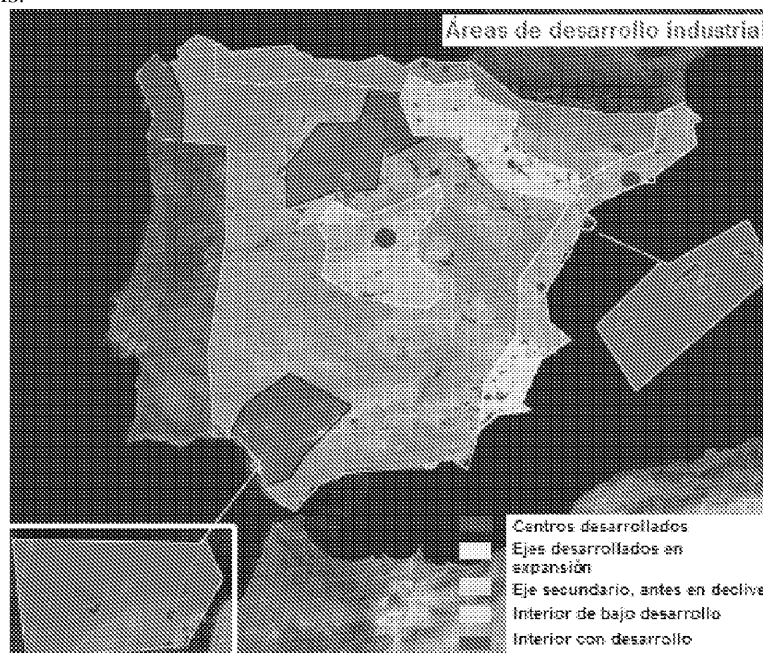
1. Definición de términos geográficos. Defina brevemente los siguientes términos: "bosque caducifolio", "equinoccio", "isoterma", "Tasa bruta de natalidad", "Envejecimiento demográfico" y "Censo de población".



2. Preguntas breves.

- ¿En qué consiste el efecto föhn o foehn? Explíquelo detalladamente
- Consecuencias demográficas y económicas del turismo en España.

3. Prueba de localización, lectura e interpretación de documentos.

Comente el siguiente mapa, diferenciando las distintas áreas de desarrollo industrial en nuestro país.



 03100239		Geografía (F.G.)	
		PRUEBA DE ACCESO A LA UNIVERSIDAD	
	Junio - 2014	Duración: 90min.	MODELO 09
			Hoja: 2 de 2

OPCIÓN B

1. Definición de términos geográficos. Defina brevemente los siguientes términos: “Movimiento de rotación”, “escala de un mapa”, “isohipsa”, “latifundio”, “tasa de dependencia” y “globalización”.

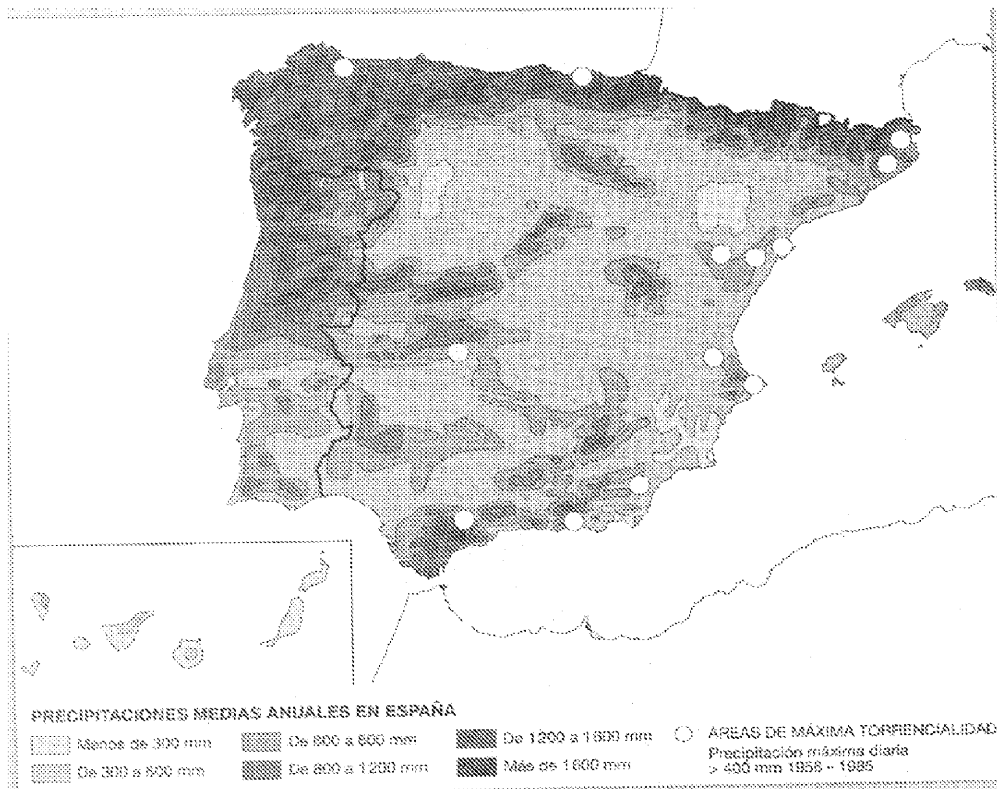
2. Preguntas breves.



- El relieve de las islas Canarias.
- Explique en qué consiste el modelo de transición demográfica.

3. Prueba de localización, lectura e interpretación de documentos.

El mapa adjunto representa la distribución de las precipitaciones en España. Con la información que contiene responda a las siguientes cuestiones:

- a) Compare las precipitaciones caídas en el noroeste peninsular con las del sureste de la península. Señale las diferencias que existen y explique las causas que las producen.
- b) Comente razonadamente la relación existente entre las precipitaciones y el relieve peninsular.
- c) Diga el nombre de las provincias que se ven afectadas por la máxima torrencialidad de las precipitaciones.



 03100239		Geografía (F.G.)	
		PRUEBA DE ACCESO A LA UNIVERSIDAD	
	Junio - 2014	Duración: 90min.	MODELO 13
			Hoja: 1 de 2

MODELO: "13"

INSTRUCCIONES GENERALES

El alumno realizará sólo una de las dos opciones propuestas (A o B).

El alumno no podrá utilizar ningún material.

Criterios generales de evaluación:

- En las definiciones se valorará, la claridad, la precisión y la brevedad.
- En las preguntas breves, el nivel de desarrollo teórico y la capacidad de síntesis.
- En la práctica, el alumno realizará el análisis e interpretación del gráfico o mapa siguiendo el esquema que se le proponga o su propio criterio si no se le indica otra cosa.

Criterios específicos de corrección:

La puntuación final será el resultado de la suma de las calificaciones de los tres apartados. La valoración de cada uno será como sigue: 3 puntos para la pregunta de 6 definiciones de conceptos, 2 puntos para cada pregunta breve del segundo apartado, total 4 puntos, y 3 puntos para la práctica.

Se tendrá muy en cuenta la ortografía, la corrección sintáctica y la presentación del examen.

OPCIÓN A

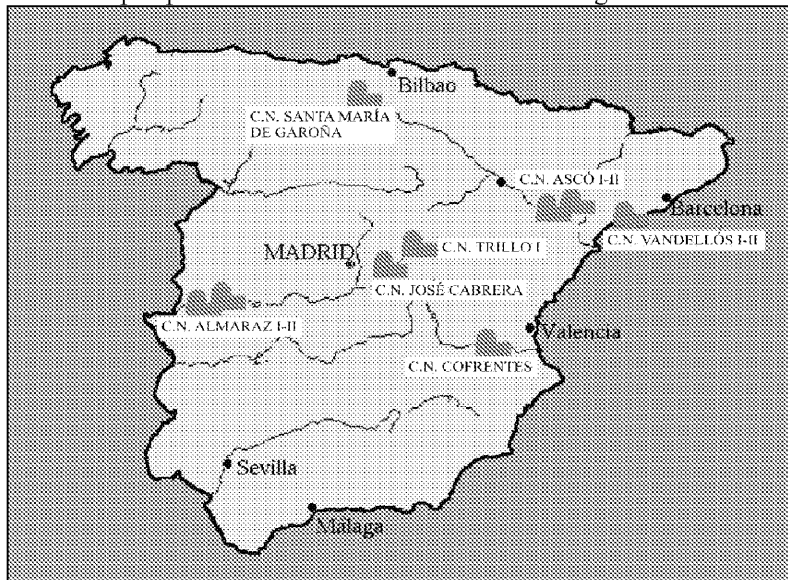
1. Definición de términos geográficos. Defina brevemente los siguientes términos: "barlovento", "solsticio", "proyección cilíndrica", "Éxodo rural", "longitud" y "área metropolitana".



2. Preguntas breves.

- Características del clima de Canarias.
- Las áreas turísticas de alta densidad en España.

3. Prueba de localización, lectura e interpretación de documentos. El mapa adjunto muestra las centrales nucleares que hay en España. A la vista del mismo comenta:

- a) su distribución geográfica.
- b) ¿Cómo genera energía una central nuclear? ¿Sabrías decir qué potencia suman y qué porcentaje de energía aportan a la red eléctrica nacional?
- c) ¿Cuáles son las perspectivas de futuro de esta clase de energía?



 03100239		Geografía (F.G.)	
		PRUEBA DE ACCESO A LA UNIVERSIDAD	
	Junio - 2014	Duración: 90min.	MODELO 13
			Hoja: 2 de 2

OPCIÓN B

1. Definición de términos geográficos. Defina brevemente los siguientes términos: “Troposfera”, “escala de un mapa”, “borrasca”, “Registro civil”, “trashumancia” y “conurbación”.

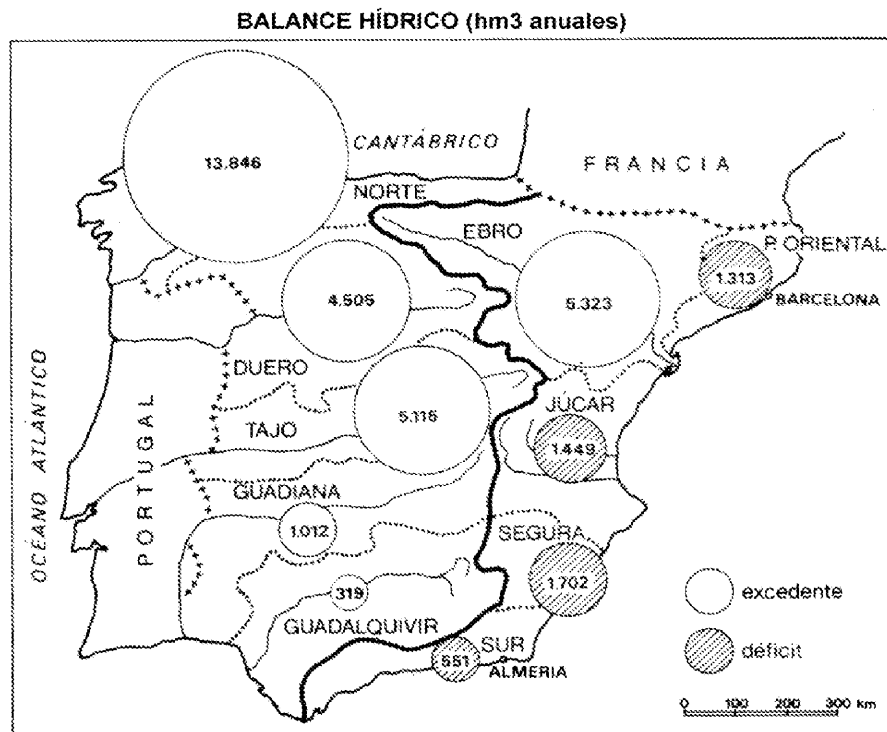
2. Preguntas breves.

- Principales riesgos naturales de origen geológico en España.
- La red de aeropuertos españoles



3. Prueba de localización, lectura e interpretación de documentos.

A la vista el mapa adjunto, comente los siguientes aspectos:

- a) características de las vertientes hidrográficas españolas;
- b) defina en cada una de ellas los rasgos de la red fluvial.



La red hidrográfica. Caracteres generales

 03100239		Geografía (F.G.)		
		PRUEBA DE ACCESO A LA UNIVERSIDAD		
	Sept - 2014	Duración: 90min.		MODELO 15
				Hoja: 1 de 2

MODELO: "15"

INSTRUCCIONES GENERALES

El alumno realizará sólo una de las dos opciones propuestas (A o B).

El alumno no podrá utilizar ningún material.

Criterios generales de evaluación:

- En las definiciones se valorará, la claridad, la precisión y la brevedad.
- En las preguntas breves, el nivel de desarrollo teórico y la capacidad de síntesis.
- En la práctica, el alumno realizará el análisis e interpretación del gráfico o mapa siguiendo el esquema que se le proponga o su propio criterio si no se le indica otra cosa.

Criterios específicos de corrección:

La puntuación final será el resultado de la suma de las calificaciones de los tres apartados. La valoración de cada uno será como sigue: 3 puntos para la pregunta de 6 definiciones de conceptos, 2 puntos para cada pregunta breve del segundo apartado, total 4 puntos, y 3 puntos para la práctica.

Se tendrá muy en cuenta la ortografía, la corrección sintáctica y la presentación del examen.

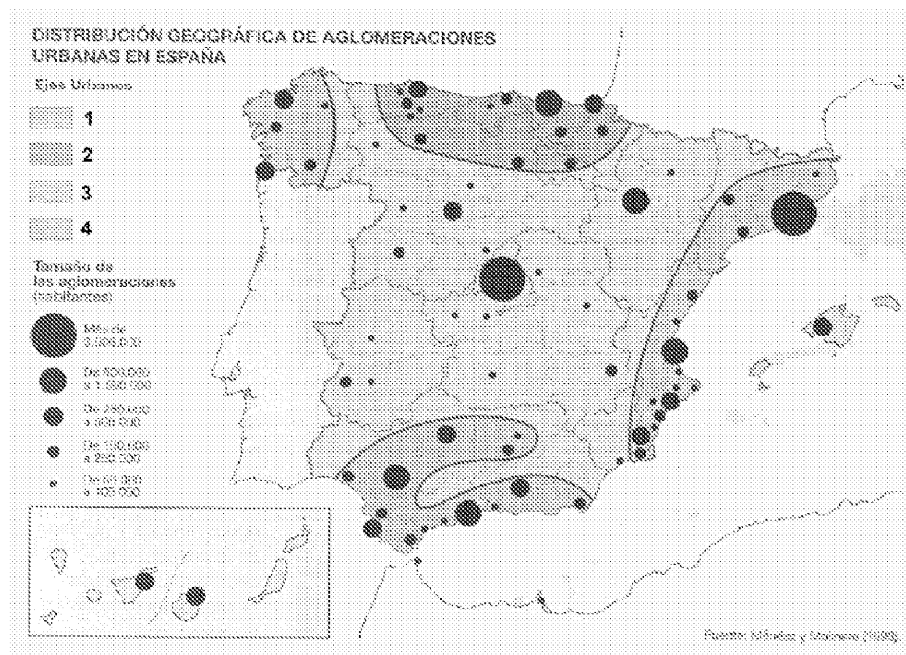
OPCIÓN A

1. Definición de términos geográficos. Defina brevemente los siguientes términos: "anticlinal", "barbecho", "escorrentía", "Tasa de dependencia", "aridez" y "casco antiguo".



2. Preguntas breves.

- Repercusiones positivas y negativas del turismo en España.
- ¿Qué tres sectores se pueden distinguir en las costas del litoral mediterráneo español?

3. Prueba de localización, lectura e interpretación de documentos.



El mapa de la figura adjunta expresa la distribución geográfica de las principales aglomeraciones urbanas españolas. A partir del mismo, responda a las siguientes cuestiones:

 03100239		Geografía (F.G.)	
		PRUEBA DE ACCESO A LA UNIVERSIDAD	
	Sept - 2014	Duración: 90min.	MODELO 15
			Hoja: 2 de 2

- Describa los principales ejes urbanos que aparecen reflejados en el mapa
- Cite las aglomeraciones urbanas que tienen entre 500.000 y 1.500.000 de habitantes y sitúelas en los ejes que ha descrito anteriormente.
- Explique los principales rasgos del sistema urbano español. .

OPCIÓN B

1. Definición de términos geográficos. Defina brevemente los siguientes términos: “Ciudad jardín”, “Cartografía”, “endorreísmo”, “inversión térmica”, “globalización” y “ganadería intensiva”.

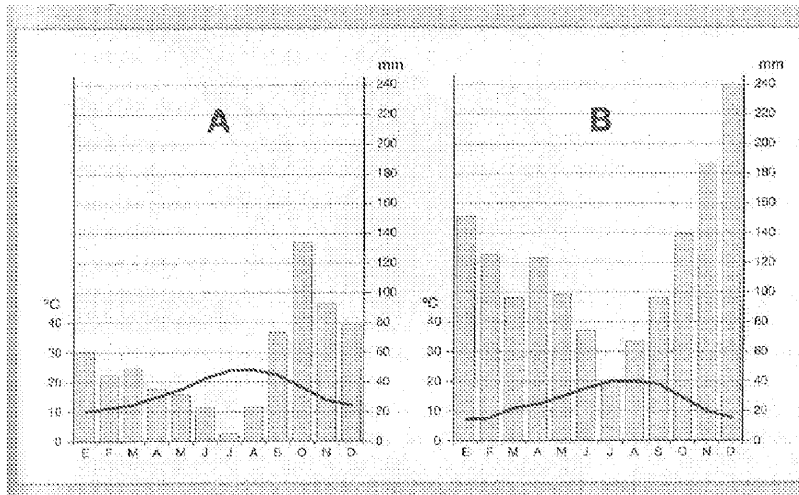
2. Preguntas breves.

- Características de la vegetación del clima mediterráneo.
- La evolución reciente del poblamiento rural.

3. Prueba de localización, lectura e interpretación de documentos.

Observe los climodiagramas adjuntos y responda a las siguientes preguntas:

- Identifique el clima al que corresponde el señalado por la letra A y exponga sus principales características.
- Identifique el clima al que corresponde el señalado por la letra B y exponga sus principales características.
- Diga en qué provincias españolas podemos encontrar cada uno de los climas señalados.



 03100498		Geografía (F.E.)	
		PRUEBA DE ACCESO A LA UNIVERSIDAD	
	Septiembre - 2014	Duración: 90min.	MODELO 16
			Hoja: 1 de 2

MODELO: "16"

INSTRUCCIONES GENERALES

El alumno realizará sólo una de las dos opciones propuestas (A o B).
El alumno no podrá utilizar ningún material.
Criterios generales de evaluación:
- En las definiciones se valorará, la claridad, la precisión y la brevedad.
- En las preguntas breves, el nivel de desarrollo teórico y la capacidad de síntesis.
- En la práctica, el alumno realizará el análisis e interpretación del gráfico o mapa siguiendo el esquema que se le proponga o su propio criterio si no se le indica otra cosa.
Criterios específicos de corrección:
La puntuación final será el resultado de la suma de las calificaciones de los tres apartados. La valoración de cada uno será como sigue: 3 puntos para la pregunta de 6 definiciones de conceptos, 2 puntos para cada pregunta breve del segundo apartado, total 4 puntos, y 3 puntos para la práctica.
Se tendrá muy en cuenta la ortografía, la corrección sintáctica y la presentación del examen.

OPCIÓN A

1. Definición de términos geográficos. Defina brevemente los siguientes términos: "Orogénesis", "caudal absoluto", "Ganadería intensiva", "Anticiclón", "barlovento", "Tasa de actividad"

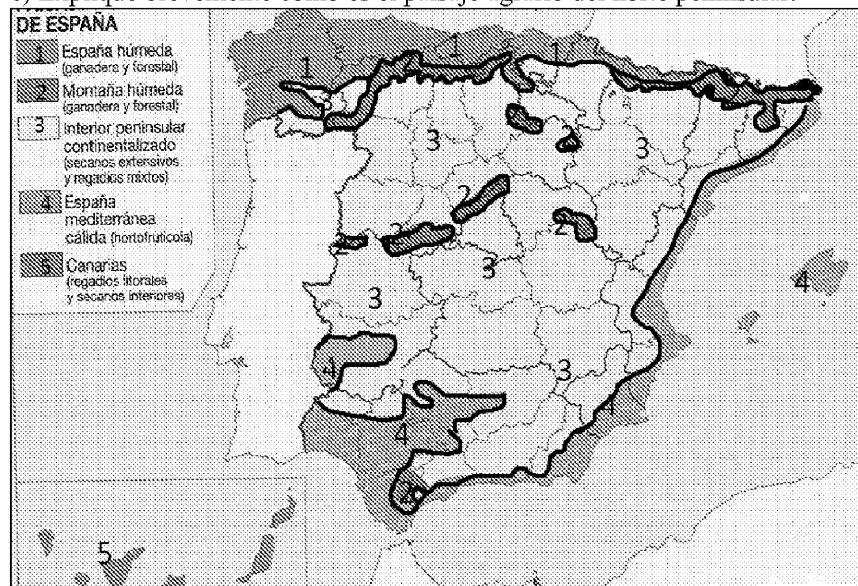
2. Preguntas breves.


- Exponga los principales rasgos geomorfológicos de la Cuenca del Duero
- ¿Cuál es la consecuencia fundamental del ciclo demográfico español que va desde 1975 hasta la actualidad? Explíquela y diga las repercusiones que tiene.

3. Prueba de localización, lectura e interpretación de documentos.

En el mapa adjunto se han representado los principales paisajes agrarios españoles, tras su observación, responda a las siguientes preguntas:

- a) ¿qué se entiende por paisaje agrario?
- b) ¿qué factores intervienen en su formación?
- c) Explique brevemente cómo es el paisaje agrario del norte peninsular.



 03100498		Geografía (F.E.)	
		PRUEBA DE ACCESO A LA UNIVERSIDAD	
	Septiembre - 2014	Duración: 90min.	MODELO 16
			Hoja: 2 de 2

OPCIÓN B

1. Definición de términos geográficos. Defina brevemente los siguientes términos: “contaminación”, “caladero”, “presión atmosférica”, “macizo antiguo”, “agricultura de subsistencia” y “tasa de urbanización”.

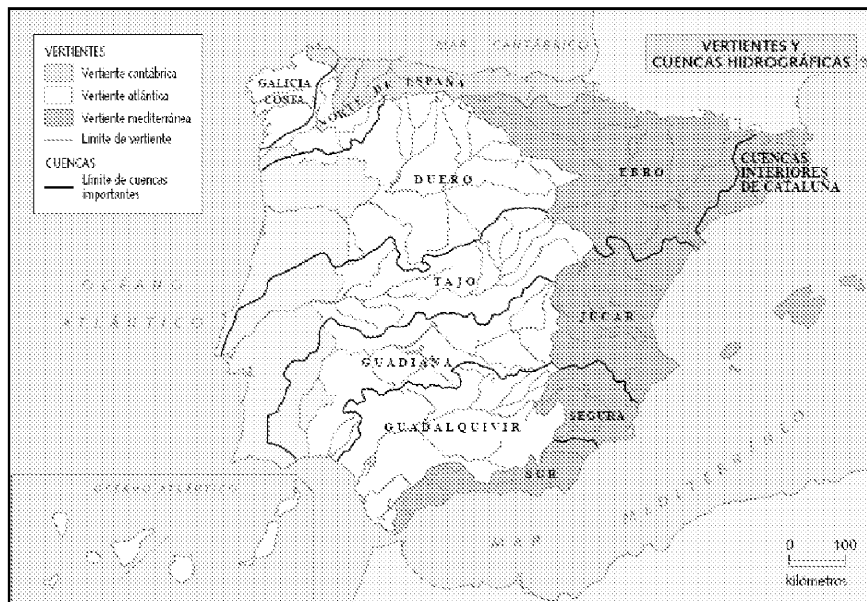
2. Preguntas breves.



- Características del relieve de Canarias.
- Las áreas del comercio exterior español.

3. Prueba de localización, lectura e interpretación de documentos.

El mapa adjunto representa las vertientes hidrográficas peninsulares. Haga un comentario teniendo en cuenta:

- a) ¿por qué tiene más extensión la vertiente atlántica que la mediterránea?
- b) ¿por qué, salvo el Ebro, los grandes ríos peninsulares pertenecen a la vertiente atlántica?
- c) ¿qué diferencias se dan entre los ríos de las distintas vertientes, y dentro de ellas, respecto a sus caudales, longitud de recorrido y pendientes?



 03100239		Geografía (F.G.)	
		PRUEBA DE ACCESO A LA UNIVERSIDAD	
	Sept - 2014	Duración: 90min.	MODELO 17
			Hoja: 1 de 2

MODELO: "17"

INSTRUCCIONES GENERALES

El alumno realizará sólo una de las dos opciones propuestas (A o B).
El alumno no podrá utilizar ningún material.
Criterios generales de evaluación:
- En las definiciones se valorará, la claridad, la precisión y la brevedad.
- En las preguntas breves, el nivel de desarrollo teórico y la capacidad de síntesis.
- En la práctica, el alumno realizará el análisis e interpretación del gráfico o mapa siguiendo el esquema que se le proponga o su propio criterio si no se le indica otra cosa.
Criterios específicos de corrección:
La puntuación final será el resultado de la suma de las calificaciones de los tres apartados. La valoración de cada uno será como sigue: 3 puntos para la pregunta de 6 definiciones de conceptos, 2 puntos para cada pregunta breve del segundo apartado, total 4 puntos, y 3 puntos para la práctica.
Se tendrá muy en cuenta la ortografía, la corrección sintáctica y la presentación del examen.

OPCIÓN A

1. Definición de términos geográficos. Defina brevemente los siguientes términos: "morfología urbana", "movimiento pendular", "orogénesis", "latifundio", "estepa" y "páramo".

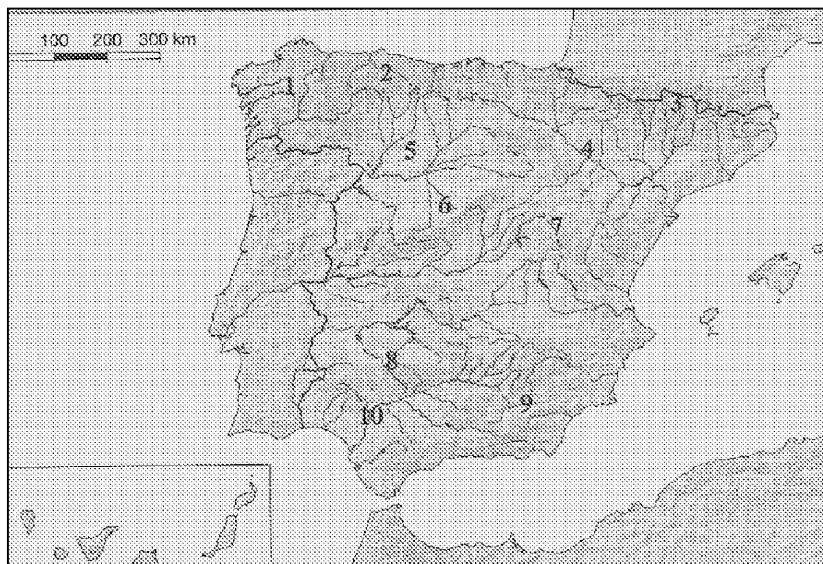
2. Preguntas breves.



- Características del censo como fuente demográfica.
- La localización del espacio geográfico: la red geográfica.

3. Prueba de localización, lectura e interpretación de documentos.

Observe el mapa adjunto y responda a las siguientes cuestiones

- a) Identifique las unidades de relieve que se han numerado.
- b) Asocie después esas unidades de relieve con las formas de relieve estructurales dominantes que le caracterizan.
- c) ¿Cuáles de ellas se han formado más recientemente?



 03100239		Geografía (F.G.)	
		PRUEBA DE ACCESO A LA UNIVERSIDAD	
	Sept - 2014	Duración: 90min.	MODELO 17
			Hoja: 2 de 2

OPCIÓN B

1. Definición de términos geográficos.

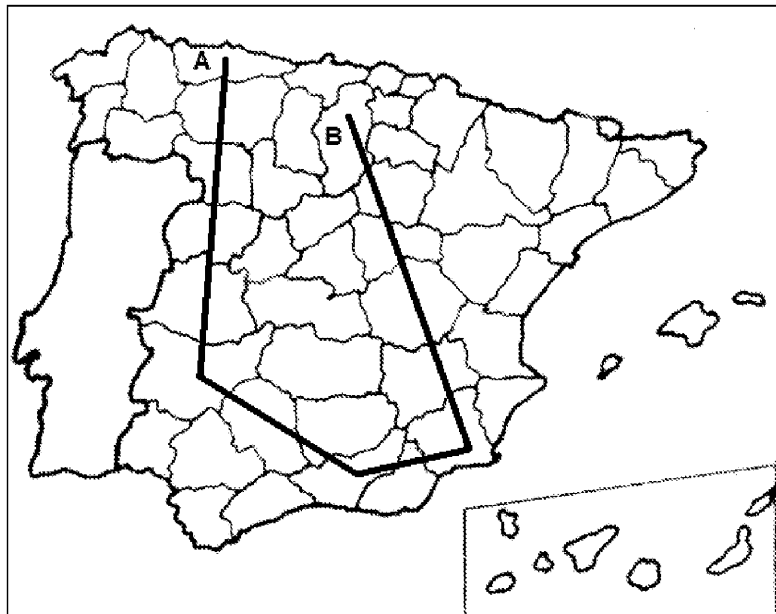
Defina brevemente los siguientes términos: “Ciudad lineal”, “caladero”, “Acuífero”, “anticlinal”, “gota fría” y “monocultivo”.


2. Preguntas breves.

- Las transformaciones recientes experimentadas por el poblamiento rural.
- Exponga los principales rasgos geomorfológicos de la cuenca del Duero

3. Prueba de localización, lectura e interpretación de documentos.

- a) Cite, de forma consecutiva, las provincias atravesadas por este recorrido imaginario por España, comenzando en A y terminando en B.
- b) Diga las Comunidades Autónomas de las que forman parte dichas provincias.
- c) Señale los principales recursos económicos que poseen las comunidades que acaba de citar.



 03100498		Geografía (F.E.)	
		PRUEBA DE ACCESO A LA UNIVERSIDAD	
	Septiembre - 2014	Duración: 90min.	MODELO 18
			Hoja: 1 de 2

MODELO: "18"

INSTRUCCIONES GENERALES

El alumno realizará sólo una de las dos opciones propuestas (A o B).

El alumno no podrá utilizar ningún material.

Criterios generales de evaluación:

- En las definiciones se valorará, la claridad, la precisión y la brevedad.
- En las preguntas breves, el nivel de desarrollo teórico y la capacidad de síntesis.
- En la práctica, el alumno realizará el análisis e interpretación del gráfico o mapa siguiendo el esquema que se le proponga o su propio criterio si no se le indica otra cosa.

Criterios específicos de corrección:

La puntuación final será el resultado de la suma de las calificaciones de los tres apartados. La valoración de cada uno será como sigue: 3 puntos para la pregunta de 6 definiciones de conceptos, 2 puntos para cada pregunta breve del segundo apartado, total 4 puntos, y 3 puntos para la práctica.

Se tendrá muy en cuenta la ortografía, la corrección sintáctica y la presentación del examen.

OPCIÓN A

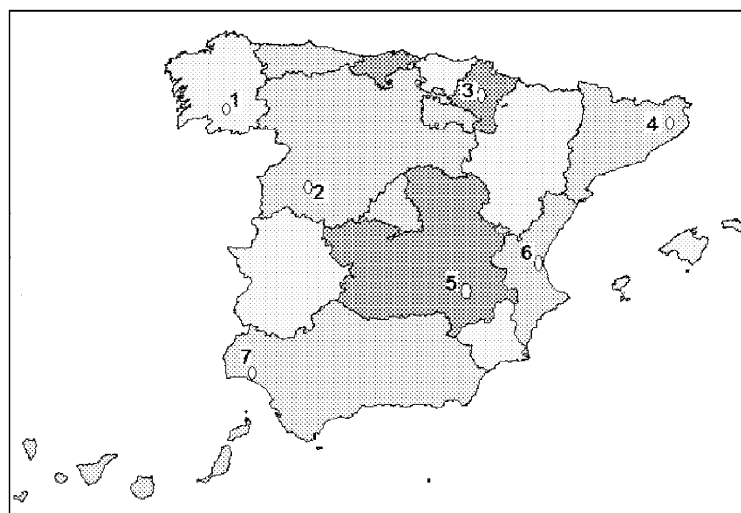
1. Definición de términos geográficos. Defina brevemente los siguientes términos: "bosque caducifolio", "solsticio", "combe", "Mapa Topográfico", "Tasa de actividad" y "envejecimiento demográfico".


2. Preguntas breves.

- ¿Qué fenómenos geológicos tuvieron lugar durante la era terciaria? Explíquelos brevemente.
- Principales características del sector terciario en España.

3. Prueba de localización, lectura e interpretación de documentos.

- a) Cite los nombres de las capitales de provincia que aparecen señaladas en el mapa adjunto, según su número de localización.
- b) ¿A qué Comunidades Autónomas pertenecen?
- c) Diga cuál o cuáles de ellas son capitales autonómicas y señale su principal función urbana.



 03100498		Geografía (F.E.)	
		PRUEBA DE ACCESO A LA UNIVERSIDAD	
	Septiembre - 2014	Duración: 90min.	MODELO 18
			Hoja: 2 de 2

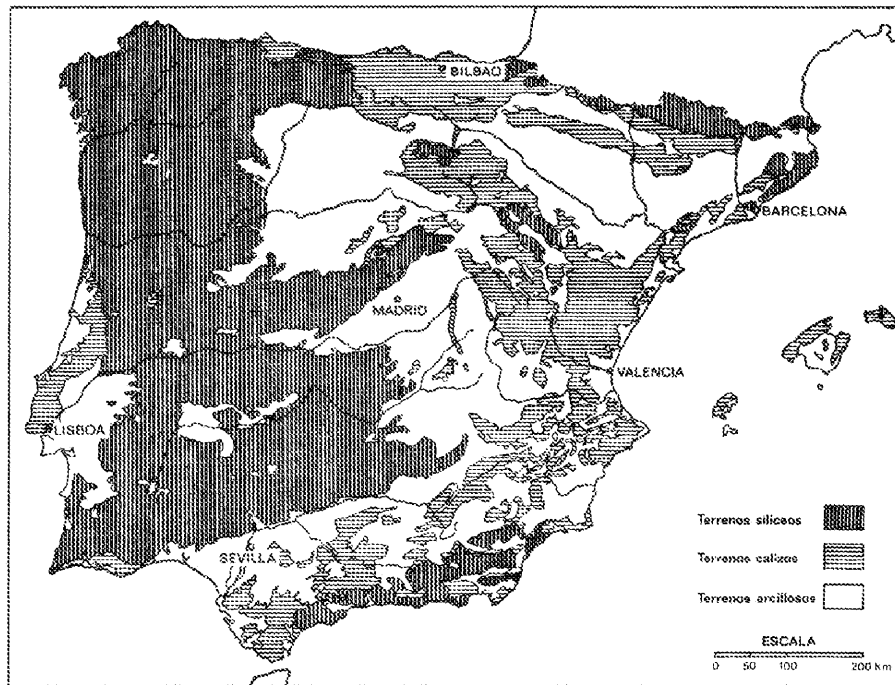
OPCIÓN B

1. Definición de términos geográficos. Defina brevemente los siguientes términos: “latitud”, “metrópoli”, “presión atmosférica”, “macizo antiguo”, “padrón municipal”, “estatuto de autonomía”.

2. Preguntas breves.

- Exponga las características del clima oceánico.
- Explique brevemente los factores fundamentales de la morfología urbana.

3. Prueba de localización, lectura e interpretación de documentos.




El roquedo de la Península Ibérica.

Observando el mapa de distribución del Roquedo en la Península Ibérica:

- a) describa las características de cada uno de los tipos de terrenos y su localización.
- b) relacione el tipo de terreno predominante con las formas de relieve características en cada uno de ellos.

Los símbolos de la cartela son los siguientes, de más oscuro a más claro y de arriba abajo:

- 1) terrenos silíceos, 2) terrenos calizos y 3) terrenos arcillosos

 03100239		Geografía (F.G.)	
		PRUEBA DE ACCESO A LA UNIVERSIDAD	
	Sept - 2014	Duración: 90min.	MODELO 19
			Hoja: 1 de 2

MODELO: "19"

INSTRUCCIONES GENERALES

El alumno realizará sólo una de las dos opciones propuestas (A o B).

El alumno no podrá utilizar ningún material.

Criterios generales de evaluación:

- En las definiciones se valorará, la claridad, la precisión y la brevedad.
- En las preguntas breves, el nivel de desarrollo teórico y la capacidad de síntesis.
- En la práctica, el alumno realizará el análisis e interpretación del gráfico o mapa siguiendo el esquema que se le proponga o su propio criterio si no se le indica otra cosa.

Criterios específicos de corrección:

La puntuación final será el resultado de la suma de las calificaciones de los tres apartados. La valoración de cada uno será como sigue: 3 puntos para la pregunta de 6 definiciones de conceptos, 2 puntos para cada pregunta breve del segundo apartado, total 4 puntos, y 3 puntos para la práctica.

Se tendrá muy en cuenta la ortografía, la corrección sintáctica y la presentación del examen.

OPCIÓN A

1. Definición de términos geográficos.

Defina brevemente los siguientes términos: "traslación", "escala de un mapa", "isoterma", "Plano ortogonal", "tasa de dependencia "globalización",

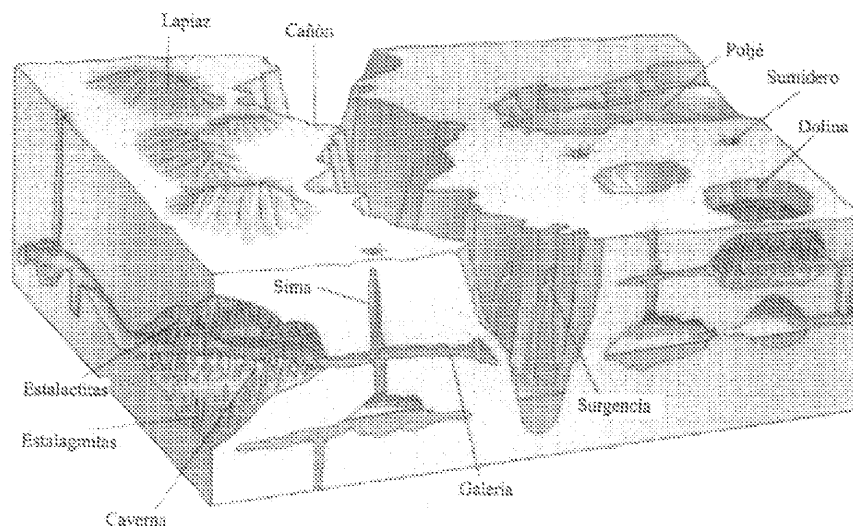
2. Preguntas breves.



- Principales transformaciones del poblamiento rural en las áreas periurbanas españolas.
- ¿En qué consiste el efecto föhn o foehn? Explíquelo detalladamente.

3. Prueba de localización, lectura e interpretación de documentos.

Analice y comente el siguiente bloque-diagrama, respondiendo a las siguientes cuestiones:

- 1) ¿qué tipo de relieve representa y qué proceso ha seguido para su formación?
- 2) ¿qué diferencias hay entre dolina, uvala, polje y sima?
- 3) ¿recuerda algún ejemplo de este tipo de relieve en España?



 03100239		Geografía (F.G.)		
		PRUEBA DE ACCESO A LA UNIVERSIDAD		
	Sept - 2014	Duración: 90min.		MODELO 19
				Hoja: 2 de 2

OPCIÓN B

1. Definición de términos geográficos. Defina brevemente los siguientes términos: “rotación”, “escala de un mapa”, “isohipsa”, “Plano irregular”, “ciudad jardín”, “globalización”

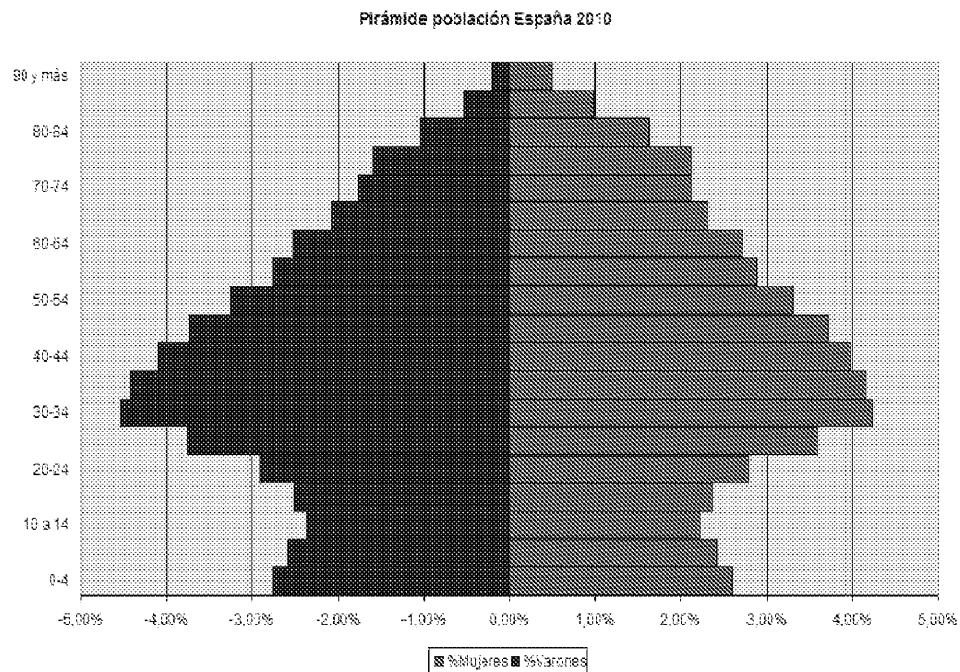
2. Preguntas breves.

- El clima de las islas Canarias
- Explique en qué consiste el modelo de transición demográfica.

3. Prueba de localización, lectura e interpretación de documentos

.La pirámide de población adjunta representa la estructura de la población de España en 2010. Haga un comentario teniendo en cuenta estas cuestiones:

- a) ¿Qué forma tiene la pirámide? Explique su estructura por sexo y edad.
- b) ¿Cuáles son las causas de la reducción y posterior aumento de la base de la pirámide?
- c) ¿Cuál es la tendencia de la población española, al rejuvenecimiento o al envejecimiento?



 03100498		Geografía (F.E.)	
		PRUEBA DE ACCESO A LA UNIVERSIDAD	
	Septiembre - 2014	Duración: 90min.	MODELO 20
			Hoja: 1 de 2

MODELO: "20"

INSTRUCCIONES GENERALES

El alumno realizará sólo una de las dos opciones propuestas (A o B).

El alumno no podrá utilizar ningún material.

Criterios generales de evaluación:

- En las definiciones se valorará, la claridad, la precisión y la brevedad.
- En las preguntas breves, el nivel de desarrollo teórico y la capacidad de síntesis.
- En la práctica, el alumno realizará el análisis e interpretación del gráfico o mapa siguiendo el esquema que se le proponga o su propio criterio si no se le indica otra cosa.

Criterios específicos de corrección:

La puntuación final será el resultado de la suma de las calificaciones de los tres apartados. La valoración de cada uno será como sigue: 3 puntos para la pregunta de 6 definiciones de conceptos, 2 puntos para cada pregunta breve del segundo apartado, total 4 puntos, y 3 puntos para la práctica.

Se tendrá muy en cuenta la ortografía, la corrección sintáctica y la presentación del examen.

OPCIÓN A

1. Definición de términos geográficos. Defina brevemente los siguientes términos: "Caudal de un río", "Equinoccio", "Rotación", "Censo de población", "Ensanche urbano" y "Agricultura intensiva"

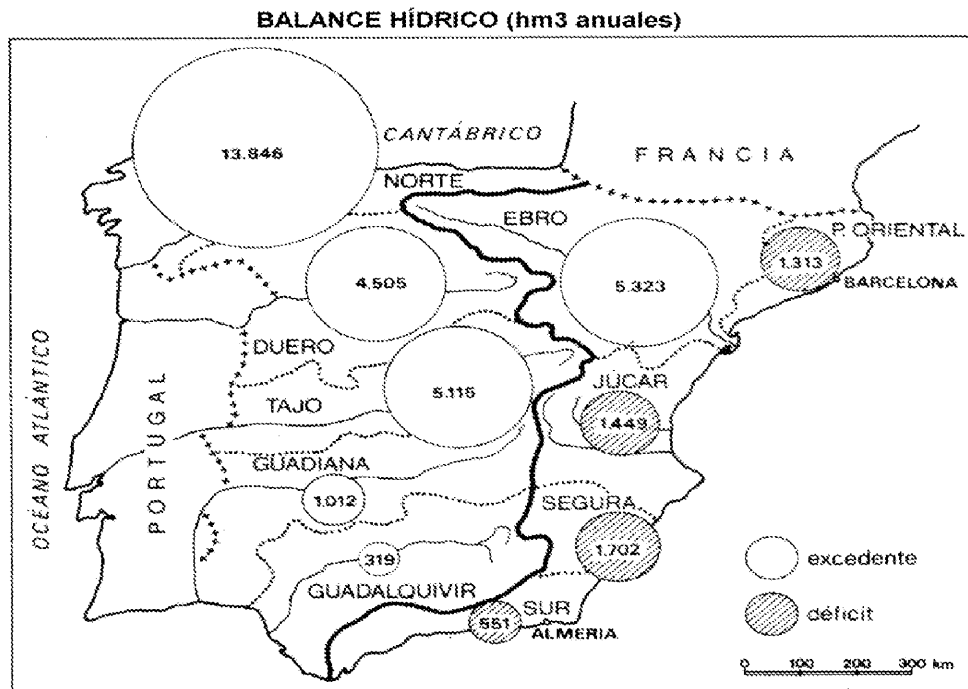
2. Preguntas breves.

- ¿En qué consiste el efecto föhn o foehn? Explíquelo razonadamente.
- La red de aeropuertos españoles.

3. Prueba de localización, lectura e interpretación de documentos.

A la vista el mapa adjunto, comente los siguientes aspectos:

- características de las vertientes hidrográficas españolas;
- defina en cada una de ellas los rasgos de la red fluvial.



 03100498		Geografía (F.E.)		
		PRUEBA DE ACCESO A LA UNIVERSIDAD		
	Septiembre - 2014	Duración: 90min.		MODELO 20
				Hoja: 2 de 2

OPCIÓN B

1. Definición de términos geográficos. Defina brevemente los siguientes términos:

“cliserie”, “borrasca”, “combe”, “Padrón municipal de habitantes”, “latifundio” y “tasa de urbanización”.

2. Preguntas breves.

- ¿Qué árboles componen el bosque perennifolio mediterráneo? ¿Qué características tienen y dónde se localizan fundamentalmente?
- Los problemas de la actividad turística.

3. Prueba de localización, lectura e interpretación de documentos.

La pirámide de población adjunta representa la estructura de la población de España en 2010. Haga un comentario teniendo en cuenta estas cuestiones:

- a) ¿Qué forma tiene la pirámide? Explique su estructura por sexo y edad.
- b) ¿Cuáles son las causas de la reducción y posterior aumento de la base de la pirámide?
- c) ¿Cuál es la tendencia de la población española, al rejuvenecimiento o al envejecimiento?

Pirámide población España 2010

